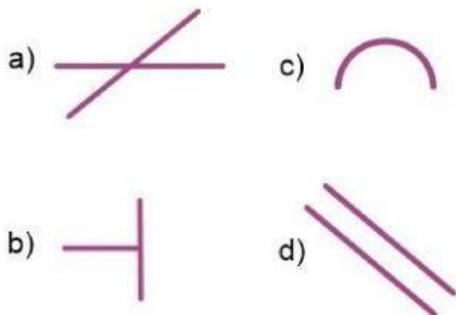
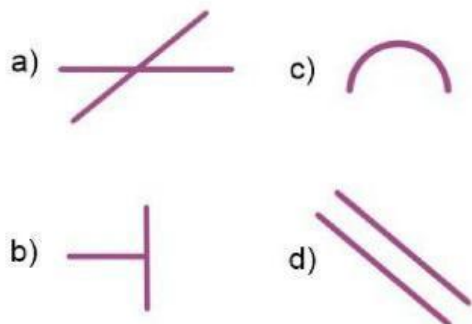


Subraya la respuesta correcta

1.- Elige las líneas paralelas.



2.- Elige las líneas perpendiculares.



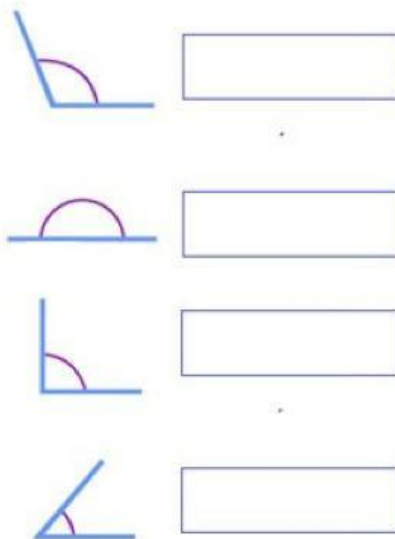
Observa la siguiente imagen y contesta la pregunta 3



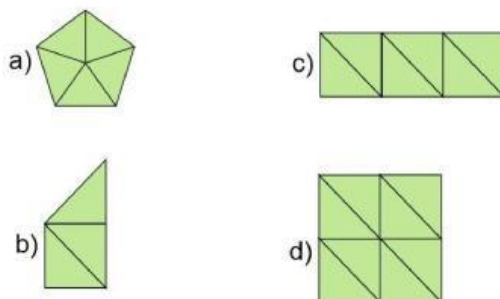
3.- ¿Cuántos vasos puedes llenar con el garrafón de agua?

- a) 28 vasos.
- b) 20 vasos.
- c) 30 vasos.
- d) 18 vasos.

4 al 7.- Escribe el nombre del tipo de ángulos. **Recto, agudo, llano y obtuso.**



8.- Si el siguiente triángulo representa $\frac{2}{6}$ de una figura ¿Cuál de las siguientes figuras es el entero?



9.- ¿Qué hora marca el reloj?

- a) 8:15 de la mañana.
- b) 8:15 de la tarde.
- c) 6:15 de la mañana.
- d) 6:15 de la tarde.



Subraya la respuesta correcta

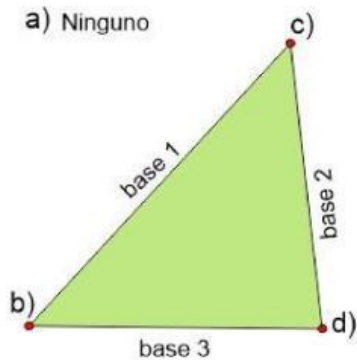
Observa la imagen y contesta la pregunta



10.- ¿Cuánto se pagaría por 9 tortas?

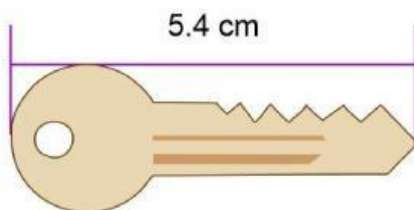
- a) \$ 120
- b) \$ 140
- c) \$ 160
- d) \$ 200

11.- ¿Cuál es el vértice opuesto a base 1?



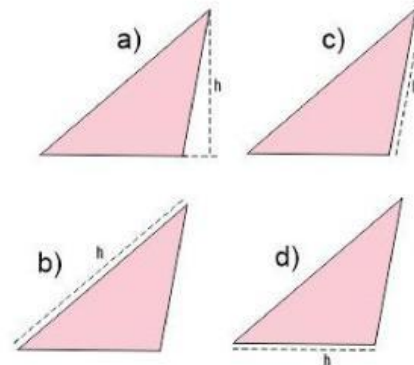
a) Ninguno

12.- ¿Cuántos milímetros mide la llave de la siguiente imagen?

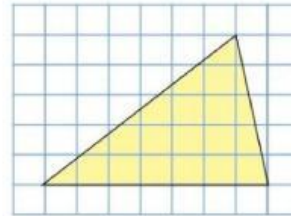


- a) 540 mm
- b) 5400 mm
- c) 54 mm
- d) 450 mm

13.- ¿Cuál es la manera correcta de trazar la altura (h) del siguiente triángulo?

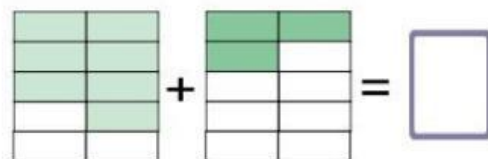


14.- ¿Cuál es el área del siguiente triángulo considerando que cada cuadro es igual a 1 cm²?



- a) 17.5 cm²
- b) 35 cm²
- c) 12 cm²
- d) 16 cm²

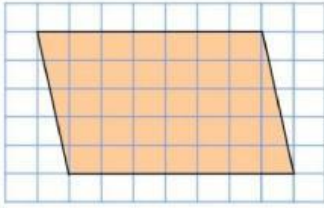
15.- ¿Cuál es el resultado de sumar las siguientes fracciones?



- a) $\frac{10}{10}$
- b) $\frac{3}{15}$
- c) $\frac{7}{10}$
- d) $\frac{8}{12}$

Subraya la respuesta correcta

16.- ¿Cuáles el área del siguiente romboide considerando que cada cuadro es igual a 1 cm²?



- a) 35 cm² c) 24 cm²
b) 70 cm² d) 32 cm²

17.- ¿Cuánto es el doble de 0.25?

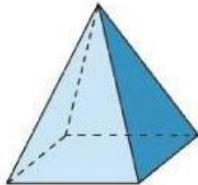
- a) 1 c) 0.35
b) 0.50 d) 1.25

18.- ¿Cuánto es la mitad de 2.6?

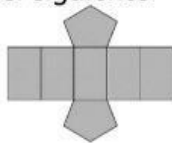
- a) 1.3 c) 2.3
b) 0.35 d) 5.2

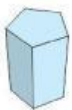



19.- ¿Cuántas aristas tiene una pirámide cuadrangular?

- a) 5
b) 8
c) 10
d) 3



20.- ¿Qué figura se forma con el siguiente desarrollo plano?



- a)  Prisma pentagonal
b)  Pirámide triangular
c)  Prisma hexagonal
d)  Prisma triangular

Lee el siguiente anuncio y responde la pregunta 21

**Se vende una hectárea de terreno
Cuenta con todos los servicios.
Se ubica a 5 minutos del centro.
\$130 pesos el m².**

21.- ¿Cuál es el precio total del terreno?

- a) \$ 1,300
b) \$ 13,000
c) \$ 130,000
d) \$ 1,300,000

22.- ¿Cuál es el término que falta en la siguiente sucesión?

$$\frac{1}{6}, \frac{1}{3}, \frac{3}{6}, \boxed{}, \frac{5}{6}, 1, 1\frac{1}{6}$$

- a) $\frac{2}{3}$
b) $\frac{3}{2}$
c) $\frac{1}{5}$
d) $\frac{4}{6}$

Resuelve el siguiente problema



23.- Daniel compró 10 lápices, 4 gomas y 10 clips. ¿Cuánto pagó en total?

- a) 50.70 pesos
b) 55.00 pesos
c) 56.00 pesos
d) 42.50 pesos

Subraya la respuesta correcta

1.- ¿Qué tipo de juego de palabras es el siguiente texto?

*Compré pocas copas, pocas copas compré,
como compré pocas copas, pocas copas pagaré.*

- a) Un chiste.
- b) Una adivinanza.
- c) Un trabalenguas.
- d) Una leyenda.

2.- Lee el siguiente texto y subraya las palabras que riman.

*Puedo perderte,
puedo odiarte,
pero es imposible
poder olvidarte.*

3.- ¿Cuál es la frase en **sentido figurado** de la siguiente adivinanza?

***Es la reina de los mares,
su dentadura es muy buena,
y por no ir nunca vacía,
siempre dicen que va llena.***

- a) Es la reina de los mares.
- b) Su dentadura es muy buena.
- c) Por no ir nunca vacía.
- d) Dicen que va llena.

4.- Son ejemplos de siglas.

- a) Blvd. Av. Cjn. Col.
- b) SSA, UNAM, IMSS
- c) Norte, Sur, Este, Oeste
- d) Izquierda, derecha.

5.- ¿Qué tipo de texto es el siguiente?

Camarón que se duerme se lo lleva la corriente

- a) Una adivinanza.
- b) Un refrán.
- c) Un chiste.
- d) Un trabalenguas.

6.- ¿Cuál es el significado implícito del siguiente refrán?

Árbol que crece torcido, nunca endereza

- a) No se puede enderezar el tronco de los árboles.
- b) Alguien que se desvíe de lo correcto en sus primeras etapas de vida, no podrá corregirse posteriormente.
- c) No debemos dejar que un árbol crezca.
- d) Nunca enderezar un árbol torcido.

7.- Elige la frase escrita en discurso directo.

- a) "Cierta día los ratones se reunieron para idear un plan"
- b) "– Esto tiene que terminar. ¿Alguien tiene algún plan?"
- c) "Celebraron con aplausos el nuevo plan"
- d) "Estaban hartos de vivir huyendo"

8.- Son diferentes tipos de **adverbios**.

- a) Cortos, largos, medianos.
- b) Personales, impersonales, propios.
- c) De tiempo, de modo, de lugar.
- d) Dónde, cuándo, cómo

Subraya la respuesta correcta

9.- Elige la familia léxica

- a) Florero, flotador, Florencia, flor.
- b) Carne, carro, cartera, carretera.
- c) Antes, antena, anteojos, anticipo.
- d) Zapato, zapatería, zapatero, zapatilla.

Lee el siguiente texto y responde la pregunta 10

Caperucita Roja. (fragmento)

Segundo acto

Personajes: Caperucita y el Lobo.

Escenografía: Bosque tenebroso, camino empedrado, parece peligroso.

Narrador: Caperucita caminaba por el bosque. ¡De repente!, se encontró con el lobo feroz y este le dijo:

Lobo: *(Con voz ronca)* ¡Niña!, ¿a dónde vas?

Caperucita: *(Dejando su cesta en el suelo)* A casa de mi abuelita.

10.- ¿En qué formato está escrito el fragmento de Caperucita Roja?

- a) Cuento tradicional.
- b) Guion de teatro.
- c) Adaptado como leyenda.
- d) Adaptación para una película.

11.- ¿Cómo se dividen las obras teatrales?

- a) Capítulos y párrafos.
- b) Versos y estrofas.
- c) Actos y escenas.
- d) Cuentos y leyendas.

12.- Son ejemplos de **adjetivos**.

- a) Fuerte, grande, rígido.
- b) Amasar, formar, secar.
- c) Recipiente, agua, barro.
- d) Madera, palito, bolitas.

13.- ¿Cómo suele ser el personaje **prototípico** de *princesa*?

- a) Fría e indiferente.
- b) Pobre y enojona.
- c) Fea y malvada.
- d) Buena y amable.

14.- ¿Cómo suele ser el personaje **prototípico** de *bruja*?

- a) Fría e indiferente.
- b) Pobre y enojona.
- c) Fea y malvada.
- d) Buena y amable.

15.- Elige la frase que tiene una entonación de sorpresa.

- a) ¡Niña!, ¿a dónde vas?
- b) Nina, ¿A dónde vas?
- c) Niña a dónde vas
- d) ¿A dónde vas niña?

16.- ¿Cuál es el significado literal del siguiente verso?

Tú eres como el aire que respiro.

- a) Tú te haces muchos gases y tengo que respirarlos.
- b) Tú eres una persona de la que estoy enamorado y te necesito a mi lado.
- c) Cuando estás conmigo siento que no puedo respirar.
- d) Tu olor es muy bonito.

Subraya la respuesta correcta.

Lee el siguiente texto y responde las preguntas 17.

Mi mamá estaba en la casa tranquila y despreocupada, cuando de repente llegaron un par de tipos altos, robustos y malencarados con un aspecto rudo y peligroso, llevaban puestos lentes oscuros. Se acercaron sospechosamente a la puerta y dijeron con voz fuerte: ¡Venimos de Elektra señora, tiene pagos atrasados!

17.- Son ejemplos de adverbios

- a) Altos, robustos y malencarados.
- b) Mi mamá estaba en la casa.
- c) Venimos de Elektra señora.
- d) Tranquila y despreocupada.

De acuerdo a lo que se puede ver en la siguiente imagen, responde la pregunta 18.



18.- ¿Cuál de las siguientes descripciones hace un uso correcto de adjetivos y adverbios?

- a) Un hombre pasea a su perro.
- b) Un hombre feliz pasea a su perro.
- c) Un hombre alto y delgado pasea alegremente a su peludo perro.
- d) Un hombre rico pasea a su peligroso perro.

19.- De los siguientes medios informativos. ¿Cuál de ellos es un tríptico?



Observa la siguiente imagen y responde la pregunta 20.

1. ¿Cómo vas más de tu casa a la escuela?

- ☐ Caminando.
- ☐ Transporte público
- ☐ En auto.
- ☐ Otro
- ☐ Bicicleta o moto.

2. Te gusta ir a la escuela?

- ☐ Sí.
- ☐ No.

3. ¿Porque vas a la escuela?

- ☐ Por obligación.
- ☐ Porque quiero tener educación.
- ☐ Para después trabajar y ganar dinero.

4. Si pudieras, ¿dejarías de estudiar?

- ☐ Sí.
- ☐ No.

20.- ¿Qué tipo de cuestionario es el anterior?

- a) Una entrevista.
- b) Un examen.
- c) Un formulario.
- d) Una encuesta.