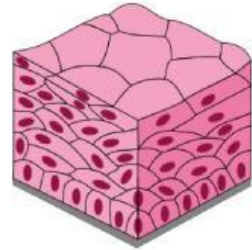


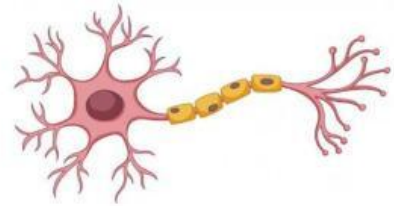
## RELACIONA LA IMAGEN CON SU TEJIDO CORRESPONDIENTE

### TEJIDOS

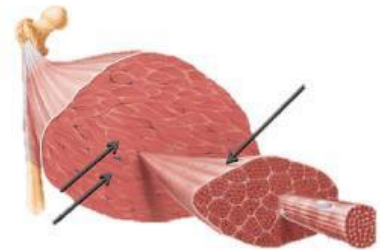
- Tejido muscular



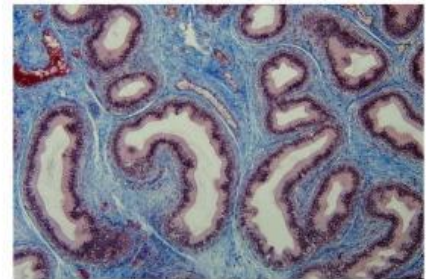
- Tejido conectivo



- Tejido epitelial



- Tejido nervioso



### SELECCIONA LA RESPUESTA CORRECTA

¿Cuál de estos tejidos está formado por neuronas?

- a) Muscular
- b) Nervioso
- c) Conectivo
- d) Epitelial

¿Qué tejido permite el movimiento del cuerpo humano?

- a) Epitelial
- b) Conectivo
- c) Muscular
- d) Nervioso