

Escuela Rogelio Fernández G.
II Estrategia Evaluativa de Matemática
Licda. Nicole Sánchez Serrano
I Semestre
Nivel: 3-3

Tiempo probable 80 minutos
Valor de la prueba 20 puntos



Valor porcentual 10 %

Puntuación Obtenido _____

Calificación Obtenida _____

Porcentaje Obtenido _____

Nombre del Estudiante: _____

Fecha: miércoles 25 de junio

Instrucciones Generales:

- Lea cuidadosamente cada pregunta y conteste lo que se le solicita.
- Levante la mano si tiene alguna duda, para que sea atendido(a).
- Resuelva su prueba en silencio y con ayuda de la docente.
- Revise la prueba antes de entregarla.

Actividad#1. Indicaciones. Marque la opción correcta de cada enunciado. (3pts,1 punto cada respuesta correcta).

1. ¿A cuál tipo de línea corresponde la imagen?



Vertical	Horizontal
<input type="checkbox"/>	<input type="checkbox"/>

2. ¿A cuál tipo de línea corresponde la imagen?



Oblicua	Vertical
<input type="checkbox"/>	<input type="checkbox"/>


3. ¿A cuál tipo de línea corresponde la imagen?



Vertical	Oblicua
<input type="checkbox"/>	<input type="checkbox"/>

Actividad#2. Indicaciones. Marque la opción correcta de cada opción. (4 pts, 1 punto cada respuesta correcta).

1. ¿A cuál medida corresponde la imagen?(2pts)



Metro	Centímetro
<input type="checkbox"/>	<input type="checkbox"/>

1. ¿A cuál medida corresponde la imagen?(2pts)



Metro	Centímetro
<input type="checkbox"/>	<input type="checkbox"/>

Actividad#3. Indicaciones. Marque la opción que corresponda. (2pts)

1. ¿La moneda anterior corresponde a?



25

15

2. ¿La moneda anterior corresponde a?



12

10

Actividad#4. Indicaciones. Marque la opción que tiene la opción correcta. (2pts)





Unidad	Decena
<input type="text"/>	<input type="text"/>



Decena	Unidades
<input type="text"/>	<input type="text"/>

Actividad#4. Correspondencia. **Indicaciones.** Marque la opción que tiene la opción correcta. (5pts)

COLUMNA A



COLUMNA B



m (metro)



centímetro (cm)

Actividad#5. Indicaciones. Realizo las siguientes sucesiones. (4pts)

Realizo la siguiente sucesión de patrón. (2pts)



Realizo la siguiente sucesión numérica. (2pts)

	2	3		5	
--	----------	----------	--	----------	--

Escala para calificar Estrategia de Matemáticas

Indicadores	No responde o no lo logra	1	2	3	4	5	6	7
1. Identifica en dibujos y en el entorno posiciones de líneas rectas: horizontal, vertical, oblicua.								
2. Identifica mediciones utilizando el metro y el centímetro. Relaciona imágenes según metro y centímetro. Reconoce los símbolos para metro y centímetro.								
3. Estima cantidades monetarias. Compara cantidades monetarias hasta el ₡ 500. Establece relación entre las monedas de denominaciones hasta ₡ 500.								
4. Establece correspondencias entre la unidad y decena. Reconoce el concepto y posición de unidad. Reconoce el concepto y posición de decena. Reconoce los números hasta el número 20.								
5. Comparar longitudes sin usar la regla.								
6. Identifica sucesiones con figuras, representaciones geométricas o con números naturales menores a 100 que obedecen a un patrón dado de formación. Identifica sucesiones con figuras, representaciones geométricas. Reconoce sucesiones de números de 1 en 1.								
Calificación: 100 Total de puntos: 20 Porcentaje: 10%	Puntos: _____ Porcentaje: _____ Calificación: _____							