

Seret dan jatuhkan pecahan yang sesuai ke bawah gambar kue tradisional yang tepat!

Lemper dibagi menjadi 3 bagian sama besar. Nia memakan 2 bagian.

Berapa bagian lempur yang dimakan Nia?



$\frac{1}{2}$

$\frac{1}{3}$

$\frac{1}{4}$

$\frac{2}{3}$

Seret dan jatuhkan pecahan yang sesuai ke bawah gambar kue tradisional yang tepat!

Sebuah piring berisi 4 biji klepon. Rudi memakan 1 biji klepon.

Berapa bagian klepon yang dimakan Rudi?



$\frac{1}{2}$

$\frac{1}{3}$

$\frac{1}{4}$

$\frac{2}{4}$

Seret dan jatuhkan pecahan yang sesuai ke bawah gambar kue tradisional yang tepat!

Ibu memotong kue lapis menjadi 4 bagian sama besar. Rani memakan 2 bagian. Berapa bagian kue lapis yang dimakan Rani?



$\frac{1}{2}$

$\frac{1}{3}$


$\frac{1}{4}$

$\frac{2}{3}$

Seret dan jatuhkan pecahan yang sesuai ke bawah gambar kue tradisional yang tepat!

Sebuah onde-onde dipotong menjadi 8 bagian. Lalu, 3 bagian dimakan.

Berapa bagian onde-onde yang tersisa?



$\frac{3}{8}$

$\frac{5}{8}$


$\frac{1}{8}$

$\frac{4}{8}$

Seret dan jatuhkan pecahan yang sesuai ke bawah gambar kue tradisional yang tepat!

Kue pukis dibagi menjadi 6 bagian.
Siti makan 1 bagian.

Berapa bagian kue pukis yang belum dimakan?



$\frac{3}{8}$

$\frac{5}{8}$

$\frac{1}{8}$

$\frac{4}{8}$

Seret dan jatuhkan pecahan yang sesuai ke bawah gambar kue tradisional yang tepat!

Ibu membeli 5 putu ayu dan membaginya sama rata kepada 5 anak.

Berapa bagian putu ayu yang diterima setiap anak?



$\frac{1}{5}$


$\frac{2}{5}$

$\frac{1}{2}$

$\frac{3}{5}$

Seret dan jatuhkan pecahan yang sesuai ke bawah gambar kue tradisional yang tepat!

kue pastel dibagi menjadi 4 bagian. Tono makan 2 bagian kue pastel, dan Dina makan 1 bagian. Berapa bagian serabi yang sudah dimakan?



$\frac{1}{5}$

$\frac{2}{5}$

$\frac{1}{2}$

$\frac{3}{5}$

Seret dan cocokkan pecahan yang sesuai ke bawah gambar kue tradisional yang tepat!



$\frac{2}{4}$



$\frac{1}{4}$



$\frac{2}{5}$