
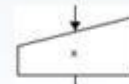
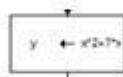
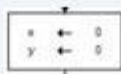
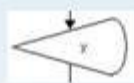


Institucion Educativa Misael Pastrana Borrero - Teruel

Grado 9

Realizar un diagrama de flujo para calcular la solución de la siguiente ecuación: $x^2+7x+12$. Para ello arrastra hasta el espacio del diagrama el objeto que corresponda. Al finalizar dar click en Finish escoja  llene los datos. Enviar al correo johnjairoortizcumbe2021@gmail.com.



Si el valor de x es 3, cuánto se almacenará en la variable y?

Y =

Elaborado por: Mg John Jairo Ortiz Cumbe