

T9. ORDENADORES

1. Identifica los componentes del siguiente ordenador:



1.

2.

3.

4.

5.

2. Relaciona con flechas estos componentes con su función o cualidades:



Normalmente no lo vemos al abrir un ordenador, porque tiene delante un disipador y un ventilador.



Pierde la información que tiene al apagar el ordenador.



Suministra electricidad al resto del ordenador.




Primer componente a elegir cuando se monta un ordenador, porque todos los demás deben ser compatibles.




Solamente se requiere este componente para usos específicos de alto rendimiento.


3. Relaciona los siguientes puertos para monitor con sus cualidades:



Está quedando obsoleto y ya solamente se encuentra en ordenadores antiguos.




Permite la transmisión de imagen con tasas de refresco mayores a 120 FPS.



Primer puerto que permite transmitir imagen y audio mediante un solo cable.

4. Identifica los siguientes puertos de ordenador:



1.

5.

2.

6.

3.

7.

4.