

# PECAHAN

dan

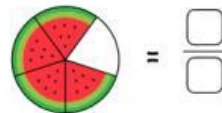
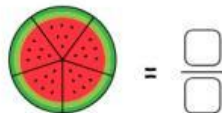
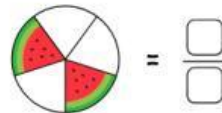
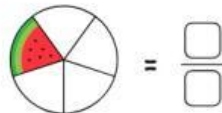
# KPK

Nama :

No. Presensi :

Kerjakan soal berikut secara mandiri

Tulislah bentuk pecahan pada gambar semangka yang berwarna



Lengkapi kolom-kolom berikut dengan menuliskan "penyebut/pembilang" secara tepat

$$\frac{7 \rightarrow \square}{8 \rightarrow \square}$$

$$\frac{3 \rightarrow \square}{7 \rightarrow \square}$$

$$\frac{10 \rightarrow \square}{7 \rightarrow \square}$$

Tentukan bentuk senilai yang benar dari pecahan berikut dengan menarik ruas garis pada bagian kiri ke kanan

$$\frac{3}{4} \bigcirc$$

$$\frac{1}{2} \bigcirc$$

$$\frac{6}{9} \bigcirc$$

$$\frac{4}{8}$$

$$\frac{2}{3}$$

$$\frac{9}{12}$$

Pilihlah jawaban berikut dengan tepat

1. KPK dari 6 dan 8

- a. 24
- b. 12
- c. 8

2. KPK dari 2 dan 4

- a. 2
- b. 8
- c. 4

3. KPK dari 3 dan 4

- a. 12
- b. 4
- c. 9

4. KPK dari 3 dan 9

- a. 3
- b. 9
- c. 27