







SUMATIF AKHIR SEMESTER
TAHUN PELAJARAN 2024/2025

Nama Peserta Didik :	No Ujian :
Hari / Tanggal : Jum'at, 13 Juni 2025	Waktu :
Kelas : IV (Empat)	Pelajaran : IPAS

A. PILIHAN GANDA

Pilihlah jawaban yang paling tepat dengan memberi tanda silang pada (x) pada huruf a, b, c, dan d dibawah ini !

1. Berikut ini yang **bukan** merupakan manfaat matahari sebagai sumber energi adalah...
 - a. Mengeringkan pakaian
 - b. Pembangkit tenaga listrik
 - c. Membantu nelayan belayar
 - d. Membantu tumbuhan untuk fotosintesis
2. Alat berikut yang menggunakan listrik dan diubah untuk menjadi energi panas adalah...
 - a. Setrika arang dan dinamo
 - b. Setrika listrik dan setrika arang
 - c. Setrika arang daan solder listrik
 - d. Setrika listrik dan solder listrik
3. Dibawah ini benda yang mengalami perubahan energi kimia menjadi energi cahaya adalah...
 - a. Senter
 - b. Setrika
 - c. Lampu
 - d. kompor gas
4. Perhatikan benda berikut.
 - 1.) 
 - 2.) 
 - 3.) 
 - 4.) 
5. Peralatan yang menghasilkan perubahan energi yang sama ketika digunakan ditunjukkan oleh nomor...
 - a. 1 dan 2
 - b. 1 dan 3
 - c. 2 dan 3
 - d. 3 dan 4
6. Perubahan energi yang terjadi pada panel surya yang sering dipasang di rumah-rumah atau gedung-gedung bertingkat adalah...
 - a. Energi cahaya menjadi energi listrik
 - b. Energi cahaya menjadi energi panas
 - c. Energi cahaya menjadi energi gerak
 - d. Energi cahaya menjadi energi bunyi
7. Berikut ini benda yang tidak memiliki energi potensial gravitasi adalah...
 - a. Layang-layang
 - b. Roller coaster
 - c. Apel di pohon
 - d. Baterai
8. Karet yang diregangkan kemudian kembali kebentuk asalnya memiliki energi potensial berupa...
 - a. Energi potensial kimia
 - b. Energi potensial listrik
 - c. Energi potensial pegas
 - d. Energi potensial gravitasi

8. Perhatikan gambar berikut.



Berdasarkan gambar diatas, bentuk energi yang dihasilkan saat digunakan adalah...

- a. Energi bunyi c. Energi kimia
 - b. Energi listrik d. Energi cahaya
9. Bunyi yang dihasilkan alat musik pada umumnya diperoleh dari transformasi bentuk energi
- a. Cahaya c. Potensial
 - b. Getaran d. Panas
10. Benda berikut ini yang memiliki energi kinetik adalah...
- a. Lampu yang menggantung
 - b. Buku terletak diatas meja
 - c. Apel yang disimpa diatas meja
 - d. Bola yang bergerak menuju gawang
11. Kerajaan yang terkenal sebagai kerajaan Hindu tertua di Indonesia...
- a. Kerajaan Kutai
 - b. Kerajaan Sriwijaya
 - c. Kerajaan samudra Pasai
 - d. Kerajaan Ternate dan Tidore
12. Pendiri kerajaan Samudra Pasai adalah...
- a. Sultan Ahmad
 - b. Sultan Zainal Abidin
 - c. Sultan Malik Al-Saleh
 - d. Sultan Muhammad Malik Al-Tahir
13. Berikut ini yang bukan merupakan peninggalan dari kerajaan bercorak Hindu-Buddha adalah...
- a. Prasasti c. Candi
 - b. Stupa d. Masjid

14. Perhatikan prasasti Berikut.



Prasasti pada gambar diatas merupakan prasasti peninggalan kerajaan...

- a. Tarumanegara
 - b. Majapahit
 - c. Sriwijaya
 - d. Kutai
15. Berikut ini sumber daya alam yang dapat di perbarui adalah...
- a. Tanah, bauksit, dan besi
 - b. Tanah, hewan, dan tumbuhan
 - c. Air, minyak bumi, dan batu bara
 - d. Tumbuhan, batu bara, dan minyak bumi
16. Sumber daya alam berupa barang tambang yang banyak digunakan untuk pembangkit listrik di indonesia adalah...
- a. Emas c. Minyak bumi
 - b. Nikel d. Batu bara
17. Salah satu andalan ekspor perkebunan indonesia adalah...
- a. Tomat c. Mentimun
 - b. Wortel d. Kelapa sawit
18. Berikut ini yang **bukan** merupakan mata pencaharian penduduk yang tinggal didataran tinggi adalah...
- a. Petani c. Peternak
 - b. Nelayan d. pedagang
19. Daerah di indonesia yang banyak ragam pekerjaannya adalah...
- a. Dataran tinggi c. Pantai
 - b. Gunung d. kota

20. Penduduk yang tinggal disekitar pantai mayoritas memiliki mata pencaharian sebagai...

- a. Petani c. nelayan
- b. Peternak d. pengacara

21. Indonesia merupakan negara yang kaya akan keragaman. Hal ini terjadi karena...

- a. Indonesia terdiri atas banyak suku bangsa
- b. Indonesia berasal dari percampuran negara asing
- c. Pada awalnya Indonesia terdiri atas satu daratan besar
- d. Terpisahnya letak geografis Indonesia yang terdiri atas beberapa pulau

22. Berikut ini merupakan kearifan lokal yang menjadi ciri khas bangsa Indonesia adalah...

- a. Suka mencampuri urusan tetangga
- b. Tidak peduli dengan tetangga
- c. Bersikap ramah dan santun
- d. Tidak mau bersosialisasi

23. Pakaian dapat menjadi sumber kearifan lokal. Salah satu pakaian yang menjadi ciri khas Indonesia adalah batik. Gambar motif batik seperti dibawah ini merupakan motif khas wilayah...



- a. Bali c. Kalimantan
- b. Yogyakarta d. Jawa Barat

24. Berikut ini pasangan yang benar antara agama dengan tempat ibadahnya adalah...

- a. Hindu - Kelenteng
- b. Buddha - Wihara
- c. Hindu - Gereja
- d. Konghucu - Pura

25. Suku bangsa yang berasal dari Kalimantan Selatan adalah...

- a. Suku Bugis c. Suku Banjar
- b. Suku Batak d. Suku Minahasa

26. Upacara ngaben merupakan salah satu acara adat umat Hindu di Bali. Upacara ini diselenggarakan ketika ...

- a. Pemujaan terhadap roh nenek moyang
- b. Lahirnya seorang bayi
- c. Kematian seseorang
- d. Hari raya keagamaan

27. Perhatikan gambar berikut.



Pakaian adat seperti gambar di atas merupakan pakaian adat dari suku...

- a. Minang c. Batak
- b. Sunda d. Jawa

28. Berikut ini yang merupakan makanan khas Indonesia yang berasal dari Papua adalah...

- a. Gudeg c. Sup karno
- b. Papeda d. Soto banjar

29. Sikap saling menghargai dan menghormati antarsesama manusia disebut....

- a. Kritis c. toleransi
- b. Kreatif d. Integritas

30. Sikap toleransi sangat penting untuk dikembangkan dimasyarakat agar...

- a. Dikenal oleh bangsa lain
- b. Menjadi negara adikuasa
- c. Dikenal sebagai negara maju
- d. Kehidupan bermasyarakat menjadi tentram

31. Berikut ini benda yang bukan merupakan kebutuhan primer bagi seorang pelajar adalah...
- a. Buku
 - b. Seragam
 - c. Alat tulis
 - d. Jam tangan
32. Berikut ini yang bukan merupakan alasan barter ditinggalkan adalah...
- a. Kesulitan membawa barang yang akan ditukar
 - b. Kesulitan dalam memproduksi barang yang diinginkan
 - c. Sulitnya mencari barang yang akan ditukar dengan orang lain
 - d. Kebutuhan manusia yang terus bertambah sehingga sulit menemukan orang yang berkeinginan sama
33. Berikut ini sikap yang tepat dalam membeli kebutuhan adalah...
- a. Membeli barang sesuai kebutuhan
 - b. Menawar saat membeli barang dimanapun tempatnya
 - c. Membeli barang sekali banyak karna harganya murah
 - d. Membeli barang dengan tanggal kadaluarsanya dekat karna sedang diskon
34. Berikut ini yang merupakan contoh kegiatan produksi adalah...
- a. Ibu Andi menjual tas dipasar
 - b. Penjahit yang membuat pakaian
 - c. Orang yang membeli sepatu ditoko
 - d. Petugas yang mengantar paket ke rumah
35. "Intan menjual kue buatan bu Minah ke teman-temannya." kalimat tersebut menjelaskan bahwa Intan bertindak sebagai...
- a. Produsen
 - b. Distributor
 - c. Inisiator
 - d. Konsumen