
	EXAMEN DE UNIDAD II	Grado:	Tercero Primaria
		Área curricular:	Matemática
		Tutor:	Astrid Morales
Valor unidad 30pts.			
Nombre:		Fecha:	

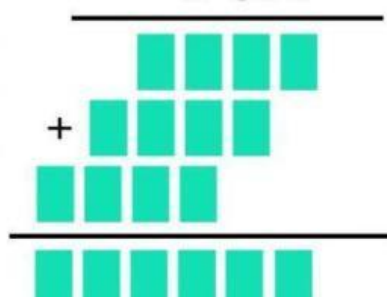
Instrucciones Generales:


Como parte del proceso de enseñanza-aprendizaje es necesario evaluar los conocimientos adquiridos por el alumno, de manera que se solicita que lea, responda y realice lo que a continuación se le presenta.


I SERIE

Realice las siguientes multiplicaciones.

$$\begin{array}{r} 234 \\ \times 365 \\ \hline \end{array}$$


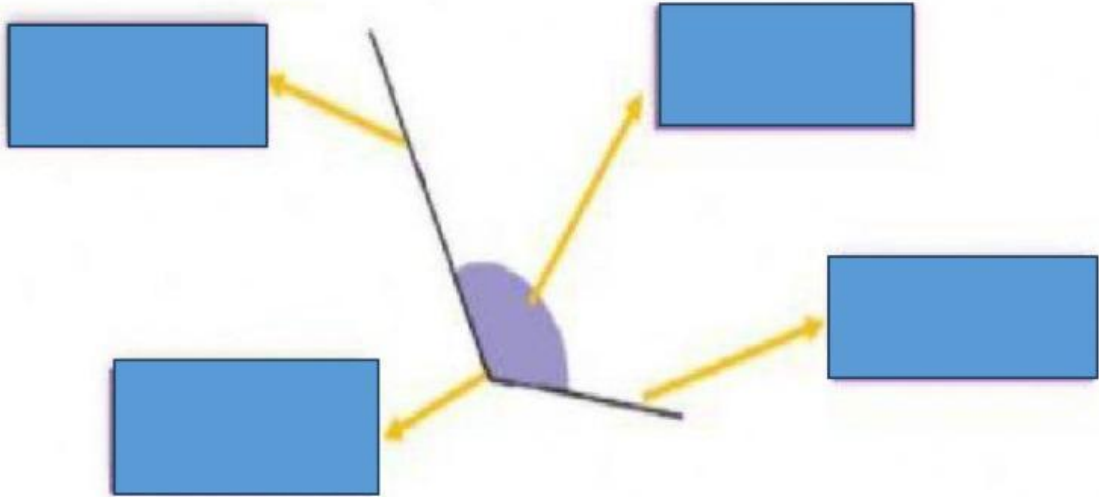
$$\begin{array}{r} 854 \\ \times 627 \\ \hline \end{array}$$


$$\begin{array}{r} 5.973 \\ \times 246 \\ \hline \end{array}$$


$$\begin{array}{r} 123 \\ \times 340 \\ \hline \end{array}$$


II SERIE

Señale las partes del ángulo. Escriba la respuesta con letras minúsculas y tildes.



III SERIE

Elija la opción correcta.

