




CIENCIAS NATURALES



Evaluación Final - I Semestre

Nombres:

Grupo:

Instrucciones



1. Escribe tus nombres, apellidos y grupo antes de empezar en los espacios indicados.
2. Lee atentamente cada pregunta y solucionala teniendo en cuenta la instrucción. Es importante que tengas en cuenta la ortografía, de lo contrario el sistema no reconocerá tu respuesta.
3. Tienes **60 minutos** para que desarrolles tu evaluación.
4. Una vez que termines de responder las **10 preguntas** informale a tu maestro para que te de la autorización de enviarla a su correo electrónico.
5. Puedes conocer los resultados una vez hayas enviado el formulario

Pregunta N° 1

La célula y las funciones vitales



A Selecciona la respuesta correcta para cada pregunta

¿Cuáles son las funciones vitales de la célula?

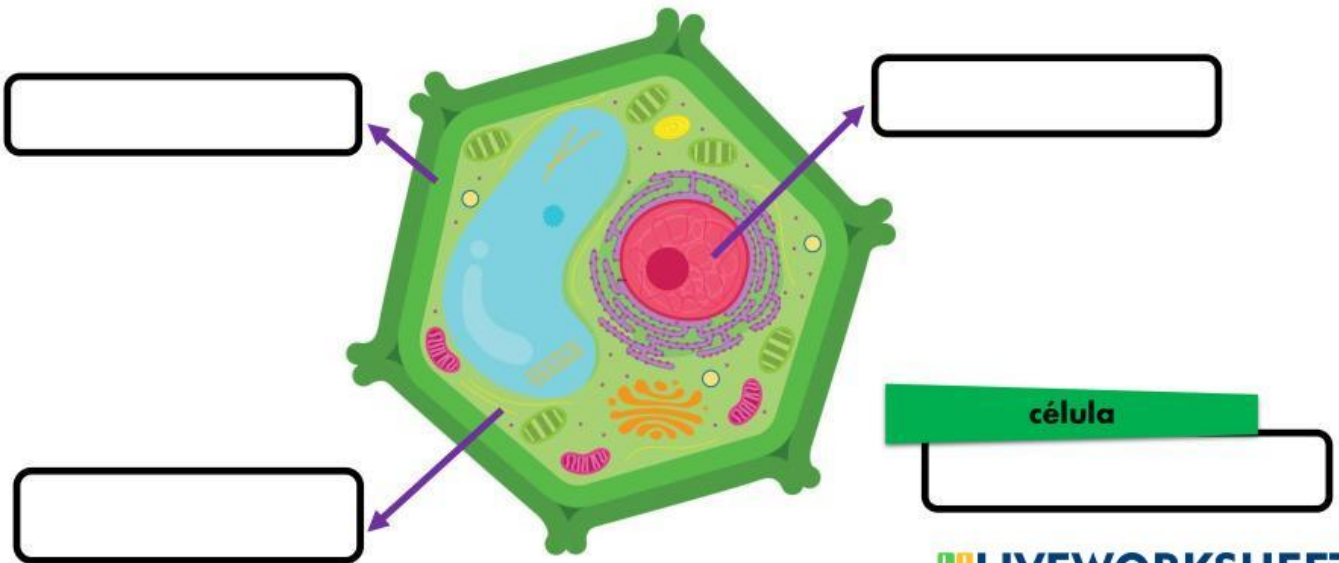
- A. Las funciones de nutrición, de relación y de desplazamiento.**
- B. Las funciones de reproducción, de nutrición y de relación.**
- C. Las funciones de relación, de desplazamiento y de digestión.**
- D. Las funciones de desplazamiento, de reproducción y de digestión.**

Pregunta N° 2

La célula y las funciones vitales



Escribe los nombres de las partes de la célula u organelos y selecciona que clase de célula es

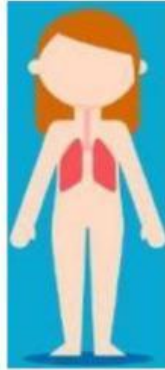


Pregunta N° 3

La célula y las funciones vitales



Une con una línea el nombre del sistema al dibujo correspondiente



**Sistema
digestivo**

**Sistema
urinario**

**Sistema
respiratorio**

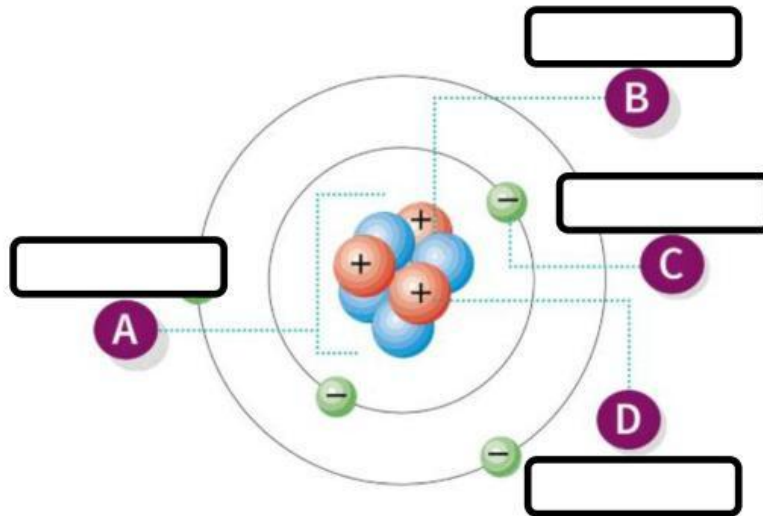
**Sistema
circulatorio**

Pregunta N° 4

La Materia



Escribe el nombre de la parte del átomo que hace falta



Pregunta N° 5

La Materia



Selecciona el nombre correcto en el que se presenta cada estado de la materia



Pregunta N° 6

La Materia



Selecciona Falso o Verdadero teniendo en cuenta la imagen



El método de separación de mezclas que muestra el dibujo es la imantación

FALSO

☐

VERDADERO

☐