

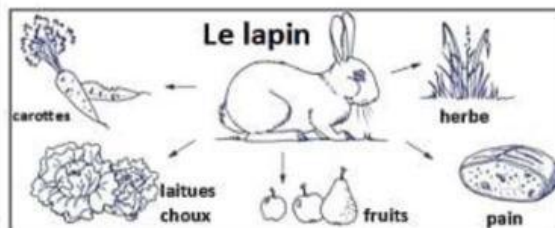
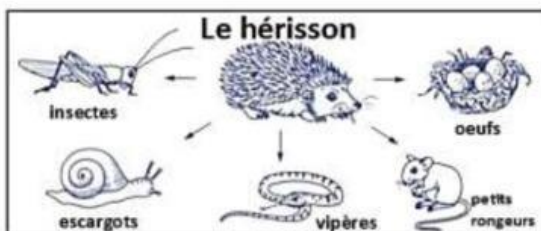
Nom : .....

Sciences

Classe : EB5

Répondre aux questions suivantes :

1- Indiquer le régime alimentaire de chaque animal puis justifier la réponse :



<input type="text"/>	est	<input type="text"/>	car il se nourrit	<input type="text"/>
<input type="text"/>	est	<input type="text"/>	car il se nourrit	<input type="text"/>
<input type="text"/>	est	<input type="text"/>	car il se nourrit	<input type="text"/>

2- Annoter la photo ci-dessous , puis relier chaque dent à son rôle :



- ..... •
- ..... •
- ..... •

- Pour déchirer les aliments
- Pour broyer les aliments
- Pour couper les aliments

3- **Préciser** le régime alimentaire de chacun des animaux suivants :



Cet animal est  car il possède des incisives  ,  
des canines  et des molaires



Cet animal est  car il possède des incisives  ,  
des canines  et des molaires



Cet animal est  car il possède des incisives  ,  
des canines  et des molaires

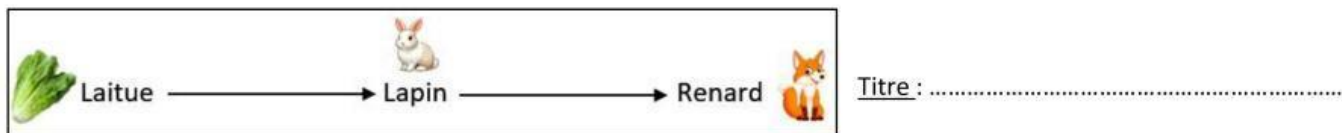


Cet animal est  car il possède des incisives  ,  
des canines  et des molaires



Cet animal est  car il possède des incisives  ,  
des canines  et des molaires

4- a- Donner un titre au document suivant : (La flèche signifie est mangé par )

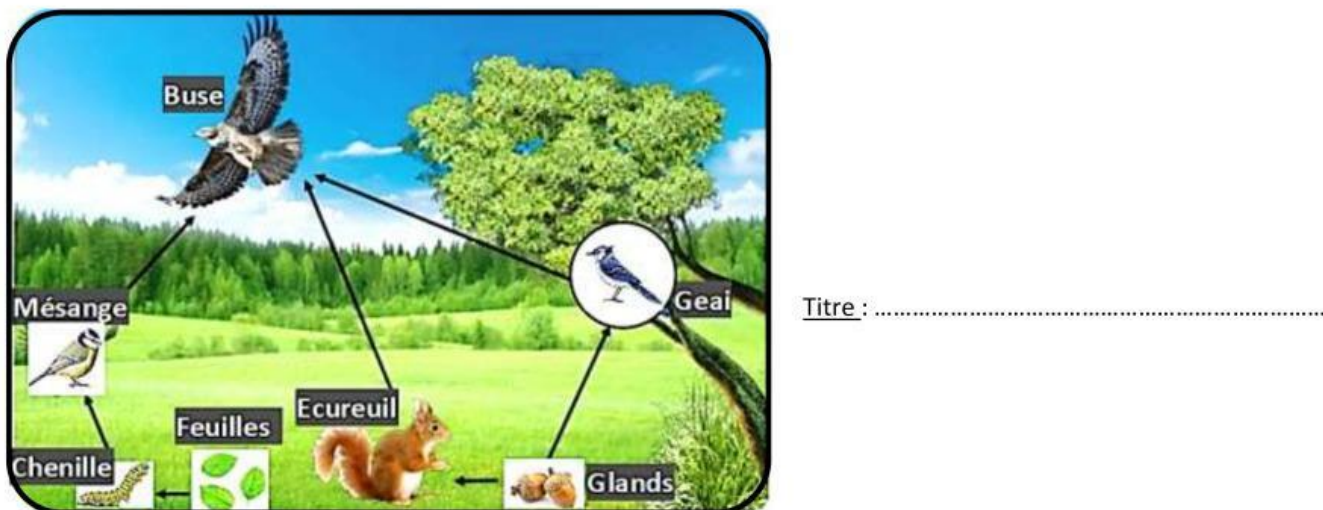


b- Indiquer dans le doc.ci-dessus : - le producteur : .....

- le (ou les) consommateur(s) : .....

- le nombre de maillons : .....

5- a- Donner un titre au document suivant : (La flèche signifie est mangé par )



b- Compléter les chaînes alimentaires suivantes , en se référant au document ci-dessus :

\* ..... → Ecureuil → .....

\* ..... → Chenille → ..... → Buse

6- Relie les colonnes :

Producteur	•	• Ver de terre	•	• produit la matière organique à partir de la matière minérale
Consommateur	•	• Plante verte	•	• décompose la matière organique et la transforme en matière minérale
Décomposeur	•	• Renard	•	• consomme la matière organique provenant d'autres êtres vivants

7- Placer chaque terme dans la case convenable :

Animaux ou Homme	2ème consommateur	1er maillon	Carnivore ou omnivore
Animaux ou Homme	Producteur	3ème maillon	Herbivore ou omnivore
Plante verte			

Chaîne alimentaire



	1er consommateur	
--	------------------	--





Etres vivants

--	--	--

Régime alimentaire

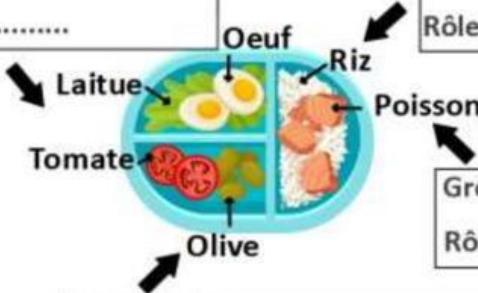
--	--

8- a- Indiquer pour chaque aliment le groupe auquel il appartient puis indiquer son rôle.

Aliments	 lait et ses dérivés	 Eau	 Pain	 Gâteau	 Pomme Raisin Orange
Groupe d'aliments					
Rôle					

b- Indiquer pour chaque aliment le groupe auquel il appartient puis indiquer son rôle.

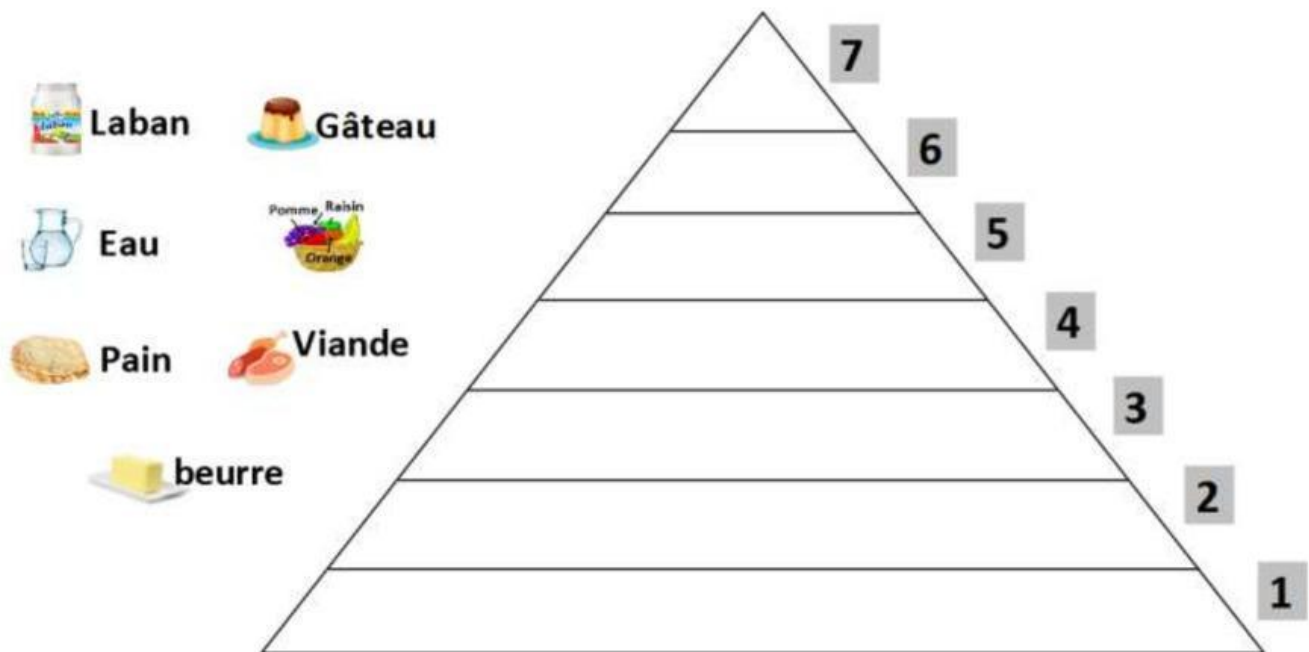
Groupe d'aliments : .....	Groupe d'aliments : .....
Rôle : .....	Rôle : .....



Groupe d'aliments : .....
Rôle : .....



9- Classer les aliments suivants dans la pyramide alimentaire :



10- Indiquer dans chaque cas si le test est positif (+) ou négatif (-)

puis expliquer les résultats obtenus en choisissant les réponses convenables:

Expériences	Résultats
<u>Expérience 1</u> : On met quelques gouttes d'eau iodée à froid sur la pomme	La couleur est jaune
<u>Expérience 2</u> : On met quelques gouttes d'eau iodée à froid sur la banane	La couleur est bleu foncé
<u>Expérience 3</u> : On frotte un morceau de pomme sur le papier	Il ne laisse pas une tâche sur le papier
<u>Expérience 4</u> : On chauffe un morceau de pomme	On observe de la vapeur d'eau qui se dégage

- Dans  , le test est  ,

- Dans  , le test est  ,

- Dans  , le test est  ,

- Dans  , le test est  ,