





# LKPD

## BANGUN DATAR

Perhatikan video berikut ini:



Perhatikan materi presentasi berikut ini:



**Materi**



**Materi**



# LKPD

## BANGUN DATAR

1

### TEKSFIELD

Bangun datar segi empat yang keempat sisinya sama panjang dan keempat sudutnya siku-siku atau  $90^\circ$  adalah...

2

### SINGLE CHOICE

Berikut ini yang bukan merupakan bangun datar adalah...

3

### CHECKBOXES


Pernyataan yang benar adalah...

☐ Persegi memiliki 4 sisi    ☐ Lingkaran memiliki 6 sisi    ☐ Segitiga memiliki 3 sisi

4

### SELECT

Nama bangun datar di bawah ini adalah...



☐ Persegi

☐ Segitiga

☐ Persegi panjang

☐ Lingkaran



# LKPD

## BANGUN DATAR

5

### WORD SEARCH

Temukan 3 kata pada kotak di bawah ini

S	S	I	S	I
M	U	L	I	N
O	S	D	K	T
D	K	C	U	K
U	G	X	M	T

6

### SPEAK

Sebutkan nama bangun datar berikut dengan tepat!





# LKPD

## BANGUN DATAR

7

### LISTENING

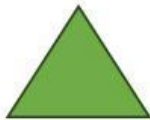
Dengarkan suara berikut dan tuliskan jawabannya dengan tepat!



8

### DRAG & DROP

Tentukan rumus yang sesuai dengan gambar



$$L = \frac{1}{2} \times \text{alas} \times \text{tinggi}$$

$$L = \text{Panjang} \times \text{lebar}$$

$$L = \pi \times r \times r$$



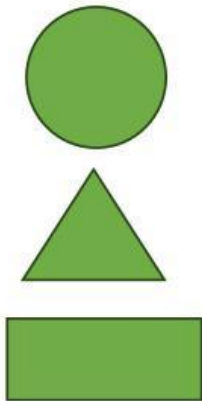
# LKPD

## BANGUN DATAR

9

### JOIN

Buatlah garis ke jawaban yang benar



Persegi Panjang

Lingkaran

Segitiga