

1. Une los intervalos de tiempo que sean iguales.

- a. 4 semanas
- b. 1 semestre
- c. 1 trimestre
- d. 2 años



- 1. 6 meses
- 2. 730 días
- 3. 3 meses
- 4. 28 días

2. Completa las siguientes igualdades.

- a. 2 horas = minutos
- b. 3 días = horas

- c. 4 horas = minutos
- d. 5 días = horas

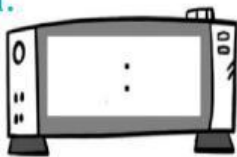
3. ¿Qué hora marca cada reloj?



- a. Son las
- b. Son las
- c. Son las de la
- d. Son las de la

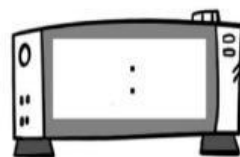
4. Dibuja en estos relojes las siguientes horas.

a.



Las seis
menos cuarto
de la tarde

b.



Las diez y
diez de la
noche

5. Julieta y Marcos quieren ir al cine a ver una película que dure una hora y media. Observa el cartel y averigua qué películas podrían elegir.

El sapo Nur: De 17 : 30 a 19
00

Amigos inseparables: De 16: 15 a 18 :

Evaluación

6. Inés entra al colegio a las 9 y media de la mañana y sale a las 5 menos cuarto de la tarde. Completa el reloj digital con las horas a las que Inés entra y sale del colegio.

ENTRADA



SALIDA



a. ¿Cuánto tiempo pasa Inés en el colegio?

b. Inés llega a casa a las 17:10. ¿Cuánto tiempo tarda en llegar desde el colegio a su casa?