

PILIH LAH JAWABAN YANG PALING BENAR!

1. Energi merupakan ...
 - A. Kemampuan untuk melakukan usaha atau kerja.
 - B. Perubahan gerak benda
 - C. Gaya yang diberikan pada benda
 - D. Besaran vektor yang memiliki arah
 - E. Massa dikalikan percepatan

2. Dari pernyataan berikut, manakah yang termasuk usaha?

No	Pernyataan
1	Beni mendorong meja dengan gaya 10 N, sehingga meja tersebut berpindah sejauh 20 cm
2	Mangga bermassa 500 gram jatuh dari pohonnya yang memiliki ketinggian 2 meter di atas permukaan tanah
3	Siti mendorong kereta belanjanya dengan gaya 50 N dari arah rak daging ke rak sayuran kemudian kembali lagi ke rak daging
4	Dayu menginjak telur dengan gaya sebesar 5 N hingga telur tersebut pecah
5	Balok bermassa 2 kg dipindahkan dengan gaya sebesar 40 N sehingga berpindah sejauh 2 m

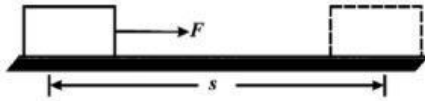
- A. 1, 2, 3
 - B. 2, 3, 4
 - C. 3, 4, 5
 - D. 1, 3, 5
 - E. 1, 2, 5
3. Energi yang tersimpan dalam suatu benda akibat kedudukan atau posisi benda tersebut adalah definisi dari energi...
 - A. Mekanik
 - B. Potensial
 - C. Surya
 - D. Gerak
 - E. Kinetik
 4. Energi potensial dapat dihitung dengan rumus...
 - A. $E_p = \frac{1}{2}mv^2$
 - B. $E_p = F \cdot s$
 - C. $E_p = mgh$
 - D. $E_p = mat$
 - E. $E_p = P \cdot t$

5. Sebuah benda bermassa 2 kg berada di ketinggian 10 meter. Jika percepatan gravitasi 10 m/s², energi potensial benda adalah...
- 200 J
 - 20 J
 - 2 J
 - 100 J
 - 10 J
6. Energi yang dimiliki suatu benda karena benda tersebut bergerak adalah energi...
- Potensial
 - Mekanik
 - Diam
 - Gravitas
 - Kinetik
7. Rumus energi kinetik adalah...
- $E_p = \frac{1}{2}mv^2$
 - $E_p = F \cdot s$
 - $E_p = mgh$
 - $E_p = mat$
 - $E_p = P \cdot t$
8. Energi mekanik adalah jumlah dari...
- Energi panas dan energi kinetik
 - Energi kinetik dan energi potensial
 - Energi listrik dan energi mekanik
 - Energi potensial dan energi listrik
 - Energi panas dan energi potensial
9. Di jalan yang menurun, sepeda meluncur cepat meskipun tidak dikayuh. hal ini disebabkan...



- Perubahan energi kinetik menjadi energi kalor
- Perubahan energi kinetik menjadi energi kinetik
- Perubahan energi potensial menjadi energi kinetik
- Perubahan energi kinetik menjadi energi potensial
- Perubahan energi potensial menjadi energi kalor

10. Sebuah benda yang beratnya 10 N berada pada bidang datar. Pada benda tersebut bekerja sebuah gaya mendatar sebesar 20 N sehingga benda berpindah sejauh 50 cm. Berapakah usaha yang dilakukan oleh gaya tersebut?



- A. 10 J
B. 10 N
C. 20 J
D. 20 N
E. 4 J
11. Sebuah benda dengan massa 10 kg berada diatas lantai yang licin. Benda ditarik oleh sebuah mobil derek dengan gaya sebesar $F = 25 \text{ N}$, sehingga benda bergeser sejauh 4m. Berapakah besarnya usaha yang dilakukan gaya F pada benda?
- A. 2,5 J
B. 12,5 J
C. 40 J
D. 100 J
E. 250 J
12. Sebuah mesin menghasilkan daya 12000 watt, berapakah kerja yang dihasilkan oleh mesin itu selama 2 jam?
- A. 600 J
B. 6.000 J
C. 24.000 J
D. 12.000 JS
E. 86.400 kJ
13. Sebuah pesawat mampu melakukan usaha 18 kJ dalam waktu 5 menit. Berapakah daya pesawat tersebut?
- A. 30 W
B. 40 W
C. 50 W
D. 60 W
E. 70 W
14. Sebuah mesin pesawat terbang mampu memberikan gaya dorong sebesar 20.000 N. Berapakah daya yang dihasilkan mesin ketika pesawat mengangkasa dengan kecepatan 250 m/s?
- A. 2.000.000 W
B. 4.000.000 W
C. 5.000.000 W

- D. 6.000.000 W
E. 7.000.000 W
15. Sebuah lift mampu mengangkut 5 penumpang (massa tiap penumpang = 60 kg) setinggi 10 m dalam waktu 15 sekon. Jika massa lift 900 kg dan percepatan gravitasi $g=10 \text{ m/s}^2$, berapakah daya lift itu?
A. 4000 W
B. 5000 W
C. 6000 W
D. 7000 W
E. 8000 W
16. Sebuah pesawat mampu melakukan usaha 12 kJ dalam waktu 2 menit. Berapakah daya pesawat tersebut?
A. 50 W
B. 75 W
C. 100 W
D. 120 W
E. 150 W
17. Sebuah lift mampu mengangkut 4 penumpang (massa tiap penumpang = 50 kg) setinggi 10 m dalam waktu 20 sekon. Jika massa lift 800 kg dan percepatan gravitasi $g=10 \text{ m/s}^2$, berapakah daya lift itu?
A. 400 W
B. 2000 W
C. 4000 W
D. 5000 W
E. 6000 W
18. Seorang petugas RS yang massanya 50 kg menaiki tangga yang tingginya 5 m dalam waktu 1 menit. Jika $g=10 \text{ m/s}^2$, berapakah daya yang dikeluarkan petugas RS tersebut?
A. 25 W
B. 32,15 W
C. 41,67 W
D. 45 W
E. 51,60 W
19. Sebuah motor yang memiliki daya 1.800 watt mampu mengangkat beban sebesar 1.200 N sampai ketinggian 50 m dalam waktu 20 sekon. Berapakah efisiensi motor itu?
A. 33%
B. 50%
C. 60%
D. 83%
E. 100%

20. Apa yang dimaksud dengan sumber energi tidak dapat diperbarui?
- A. Sumber energi yang dapat digunakan terus-menerus tanpa habis
 - B. Sumber energi yang dapat diperbaharui dengan cepat oleh alam
 - C. Sumber energi yang terbentuk sangat lama dan tidak bisa diperbarui dalam waktu singkat
 - D. Sumber energi yang berasal dari matahari dan angin
 - E. Sumber energi yang selalu tersedia dalam jumlah tak terbatas
21. Contoh sumber energi tidak dapat diperbarui adalah ...
- A. Matahari, angin, dan air
 - B. Batu bara, minyak bumi, dan gas alam
 - C. Biomassa, kayu, dan panas bumi
 - D. Air, nuklir, dan panas bumi
 - E. Gelombang laut, biomassa, dan angin
22. Sumber utama bahan bakar nuklir adalah ...
- A. Batu bara
 - B. Minyak bumi
 - C. Uranium
 - D. Hidrogen
 - E. Karbon
23. Minyak bumi terbentuk dari.....
- A. Pelapukan batuan beku
 - B. Pengendapan pasir di sungai
 - C. Pembusukan sisa-sisa hewan dan tumbuhan yang tertimbun selama jutaan tahun
 - D. Reaksi antara logam dan air tanah
 - E. Kristalisasi magma di dalam bumi
24. Komponen utama dalam minyak mentah (crude oil) adalah
- A. Hidrogen dan oksigen
 - B. Karbon dan hidrogen
 - C. Nitrogen dan karbon
 - D. Sulfur dan fosfor
 - E. Hidrogen dan nitrogen
25. Tahapan pertama dalam pengolahan minyak bumi di kilang adalah...
- A. Cracking
 - B. Reforming
 - C. Distilasi bertingkat
 - D. Blending
 - E. Desulfurisasi
26. Produk utama dari proses distilasi minyak bumi adalah

- A. Amonia, metanol, dan hidrogen
 - B. Asam sulfat, asam nitrat, dan fosfat
 - C. LPG, bensin, minyak tanah, solar, dan residu
 - D. Etanol, metanol, dan asam asetat
 - E. Plastik, karet sintetis, dan polimer
27. Batubara umumnya digunakan sebagai bahan bakar utama dalam ...
- A. Transportasi umum
 - B. Pembangkit listrik tenaga uap (PLTU)
 - C. Kompor rumah tangga
 - D. Kendaraan listrik
 - E. Lampu LED
28. Berikut ini yang bukan merupakan jenis batubara berdasarkan kandungan karbonnya adalah ...
- A. Antrasit
 - B. Bituminous
 - C. Lignit
 - D. Sub-bituminous
 - E. Granit
29. Komponen utama yang terdapat dalam gas alam adalah...
- A. Butana
 - B. Propana
 - C. Metana
 - D. Etana
 - E. Hidrogen
30. Energi angin diubah menjadi listrik menggunakan...
- A. Panel surya
 - B. Turbin angin
 - C. Sel bahan bakar
 - D. Generator uap
 - E. Pembangkit listrik tenaga gelombang
31. Pembangkit Listrik Tenaga Mikrohidro (PLTMH) menggunakan sumber energi dari...
- A. Minyak bumi
 - B. Aliran air
 - C. Gas alam
 - D. Nuklir
 - E. Panas bumi
32. Bioenergi adalah energi yang diperoleh dari...
- A. Minyak bumi

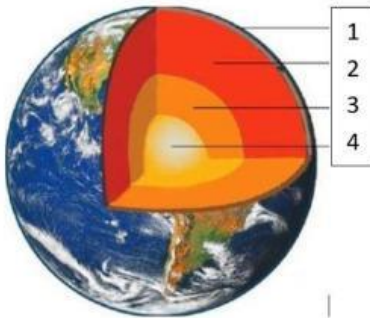
- B. Batuan mineral
 - C. Bahan organik seperti tumbuhan dan limbah
 - D. Energi angin
 - E. Energi panas bumi
33. Keunggulan utama dari energi terbarukan dibanding energi fosil adalah...
- A. Tidak terbatas dan ramah lingkungan
 - B. Lebih murah dalam investasi awal
 - C. Tidak memerlukan teknologi tinggi
 - D. Memiliki sumber daya yang lebih sedikit
 - E. Tidak dapat diandalkan dalam jangka panjang
34. Pada panel surya, terjadi perubahan energi dari...
- A. Energi listrik menjadi energi panas
 - B. Energi kimia menjadi energi listrik
 - C. Energi gerak menjadi energi listrik
 - D. Energi listrik menjadi energi cahaya
 - E. Energi cahaya menjadi energi listrik
35. Baterai pada senter mengalami perubahan energi dari...
- A. Energi kimia menjadi energi cahaya
 - B. Energi panas menjadi energi listrik
 - C. Energi listrik menjadi energi kimia
 - D. Energi kinetik menjadi energi listrik
 - E. Energi panas menjadi energi kinetik
36. Planet terkecil yang ada pada tata surya ...
- A. Merkurius
 - B. Bumi
 - C. Jupiter
 - D. Saturnus
 - E. Neptunus
37. Gerak bumi mengelilingi matahari pada orbitnya disebut ...
- A. Gravitasi bumi
 - B. Rotasi bumi
 - C. Rotasi bulan
 - D. Revolusi bumi
 - E. Revolusi bulan
38. Berikut lapisan matahari, kecuali....
- A. Korona
 - B. Kromosfer
 - C. Fotosfer
 - D. Litosfer
 - E. Inti matahari

39. Gambar batuan sedimen yang ditunjukkan Oleh tanda panah adalah batu...



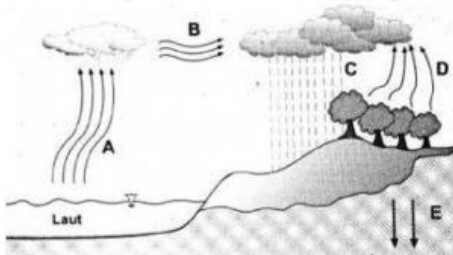
- A. Batu Granit
- B. Batu Breksi
- C. Batu Akik
- D. Batu Konglomerat
- E. Batu Pasir

40. Urutan dari 1-4 bagian struktur padatan bumi berikut ini yang benar adalah ...



- A. Kerak bumi, Selimut bumi, Inti luar, Inti dalam
- B. Selimut bumi, Kerak bumi, Inti luar, Inti dalam
- C. Inti dalam, Selimut bumi, Kerak bumi, Inti luar
- D. Inti luar, Inti dalam, Selimut bumi, Kerak bumi
- E. Inti dalam, Kerak bumi, Inti luar, Selimut bumi

41. Dari gambar siklus hidrologi berikut, urutan yang sesuai dari A sampai E adalah ...



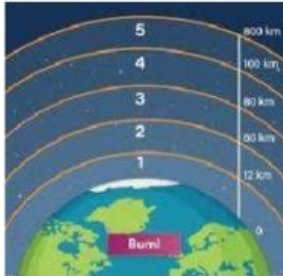
- A. Evaporasi, Kondensasi, Presipitasi, Transpirasi, Infiltrasi
- B. Evaporasi, Presipitasi, Transpirasi, Infiltrasi, Kondensasi
- C. Evaporasi, Kondensasi, Transpirasi, Infiltrasi, Presipitasi
- D. Kondensasi, Evaporasi, Presipitasi, Transpirasi, Infiltrasi
- E. Kondensasi, Transpirasi, Evaporasi, Presipitasi, Infiltrasi

42. Lapisan atmosfer tempat terjadinya peristiwa pelangi, halilintar, dan pembentukan awan dinamakan ...

- A. Stratosfer

- B. Ionosfer
- C. Termosfer
- D. Eksosfer
- E. Troposfer

43. Dari gambar lapisan atmosfer dibawah ini, urutan yang benar dari 1 sampai 5 adalah ...

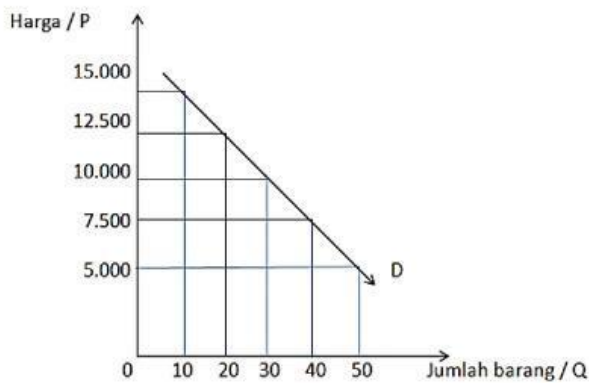


- A. Troposfer, Stratosfer, Mesosfer, Termosfer, Eksosfer
 - B. Troposfer, Mesosfer, Termosfer, Eksosfer, Stratosfer
 - C. Termosfer, Troposfer, Stratosfer, Mesosfer, Eksosfer
 - D. Stratosfer, Termosfer, Troposfer, Mesosfer, Eksosfer
 - E. Termosfer, Stratosfer, Mesosfer, Eksosfer, Troposfer
44. Jika seseorang merasa lapar, ia harus segera makan. Termasuk kebutuhan berdasarkan....
- A. Kepentingan
 - B. Waktu
 - C. Subjek
 - D. Sifat
 - E. Tindakan
45. Beribadah dan rekreasi termasuk kebutuhan ...
- A. Tersier
 - B. Individu
 - C. Rohani
 - D. Kelompok
 - E. Jasmani
46. Pak Eko dapat memilih mengonsumsi bubur ayam atau lontong sayur sebagai menu sarapan pagi. Hal tersebut termasuk...
- A. Barang mentah
 - B. Barang substitusi
 - C. Barang setengah jadi
 - D. Barang komplementer
 - E. Barang ekonomi
47. Berdasarkan tujuan penggunaannya, kecap bagi pedagang nasi goreng dan sate kambing digolongkan sebagai ...
- A. Barang bebas

- B. Barang ekonomi
- C. Barang konsumsi
- D. Barang produksi
- E. Barang setengah jadi

48. Kelangkaan terjadi karena
- A. Jumlah barang lebih banyak daripada kebutuhan
 - B. Tenaga kerja lebih sedikit daripada kebutuhan
 - C. Jumlah barang dan tenaga kerja berlimpah
 - D. Jumlah tenaga kerja lebih banyak daripada kebutuhan
 - E. Jumlah barang lebih sedikit daripada kebutuhan

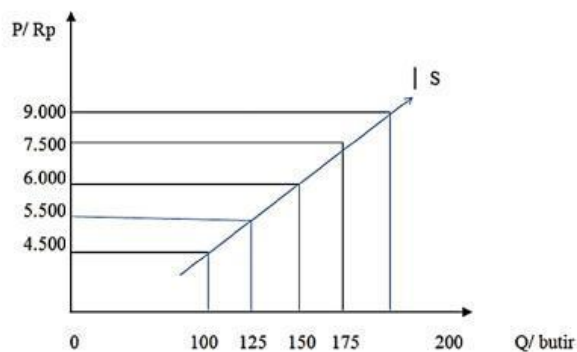
49. Perhatikan kurva di bawah ini !



Pada kurva tersebut ketika harga 10.000 berapakah jumlah barang yang diminta !

- A. 50
- B. 40
- C. 30
- D. 20
- E. 10

50. Perhatikan gambar kurva berikut !



Kurva tersebut menunjukkan kurva

- A. Permintaan
- B. Penawaran
- C. Penjualan
- D. Pembelian
- E. Keseimbangan