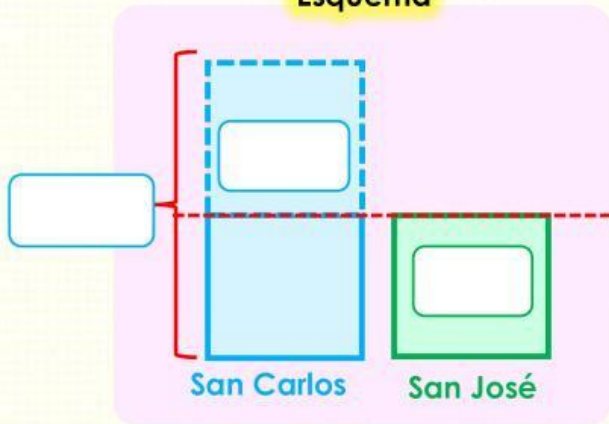


6. La panadería "San Carlos" tiene un pedido de 8000 panes. Si le pedirían 3520 menos, tendría tantos pedidos como la panadería "San José" ¿Cuántos pedidos de panes tiene la panadería San José?

Esquema



Operación

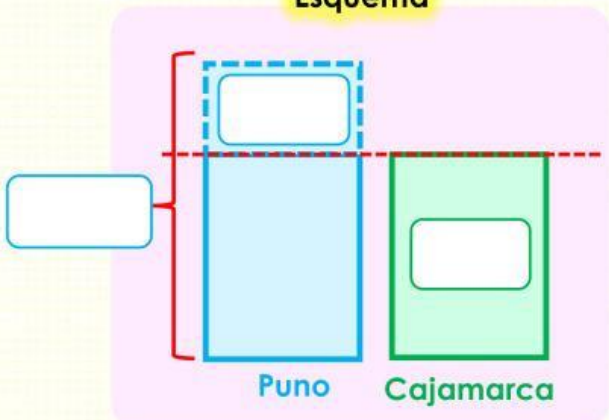
CM	DM	UM	C	D	U	

San José tiene pedido de:

panes

7. Según la Superintendencia Nacional de los Registros Públicos (Sunarp), En la región Puno hay 16607 vehículos, si hubiera 4231 menos. Habría tantos vehículos como la región Cajamarca ¿Cuántos vehículos hay en la región Cajamarca?

Esquema



Operación

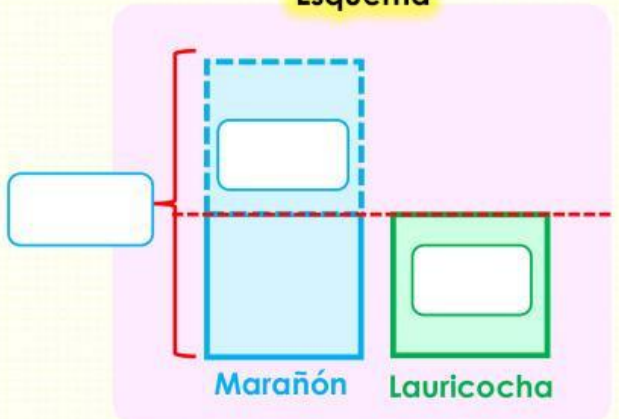
CM	DM	UM	C	D	U	

En Cajamarca hay:

vehículos

8. En la provincia de Marañón hay 29160 habitantes, si se trasladasen a otro lugar 12014 habitantes, habría la misma cantidad de habitantes que la provincia de Lauricocha ¿Cuántos habitantes hay en la provincia de Lauricocha?

Esquema



Operación

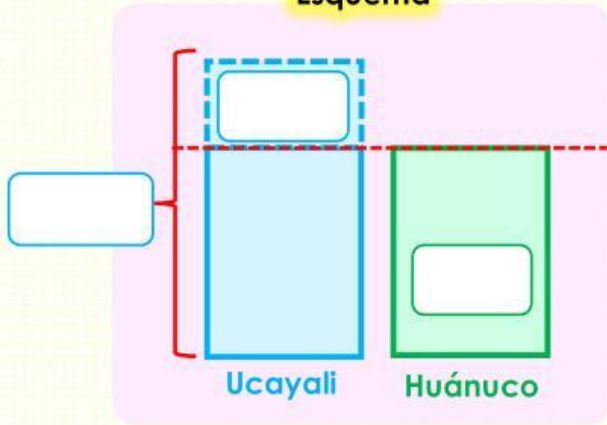
CM	DM	UM	C	D	U	

En la provincia de Lauricocha hay:

Habitantes

9. El año 2022 visitaron 12300 turistas a la región Ucayali. Si hubieran visitado 1230 menos, tendría la misma cantidad de visitas que la región Huánuco ¿Cuántos turistas visitaron la región Huánuco el año 2022?

Esquema



Operación

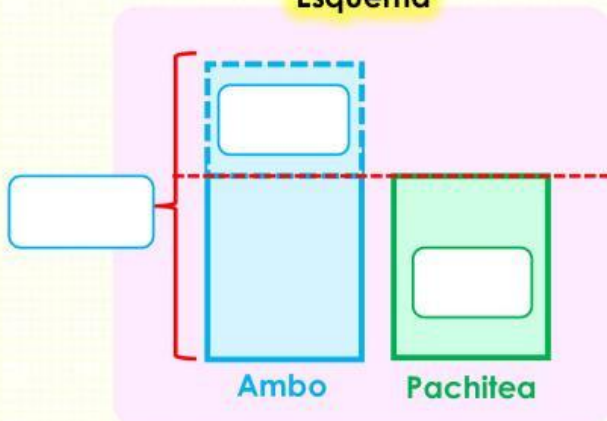
CM	DM	UM	C	D	U

En la región Huánuco visitaron:

turistas el año 2022.

10. Por cuidado del medio ambiente en la provincia de Ambo plantaron 13500 eucaliptos. Si hubieran plantado 4560 menos, tendría la misma cantidad de eucaliptos que la provincia de Pachitea ¿Cuántos eucaliptos hay en la provincia de Pachitea?

Esquema



Operación

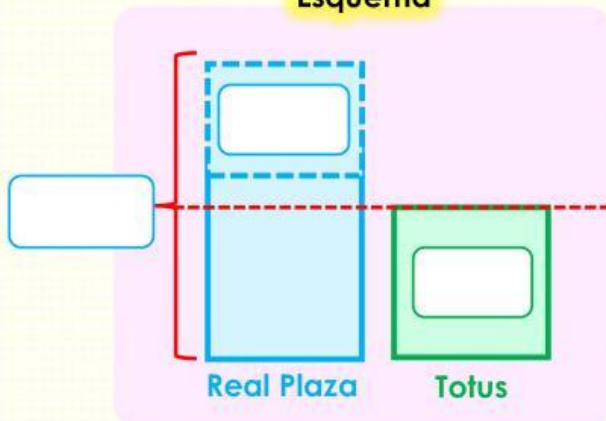
CM	DM	UM	C	D	U

En la provincia de Ambo plantaron:

eucaliptos.

11. En el Real Plaza concurren 16500 personas a la semana. Si dejarían de ir 5420 personas a la semana, la concurrencia sería igual que al centro comercial Totus ¿Cuántas personas concurren al centro comercial Totus cada semana?

Esquema



Operación

CM	DM	UM	C	D	U

A Totus concurren:

cada semana.