

Evaluación Diagnóstica de Matemáticas 2° Básico

Nombre: _____

Objetivos: NÚMEROS DEL 0 AL 100

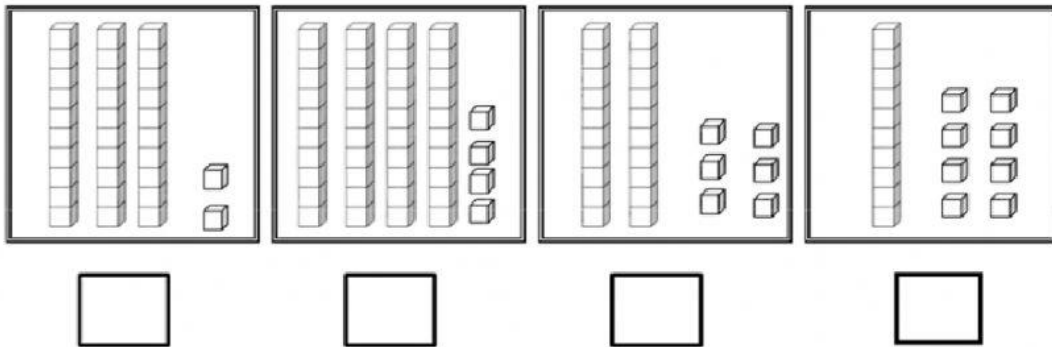
- Contar números del 0 al 100 de 1 en 1, de 2 en 2, de 5 en 5 y de 10 en 10, hacia adelante y hacia atrás, empezando por cualquier número menor que 100.
- Comparar y ordenar números del 0 al 20 de menor a mayor y/o viceversa.
- Identificar el orden de los elementos de una serie, utilizando números ordinales del primero (1°) al décimo (10°).
- Determinar las unidades y decenas en números del 0 al 20.

Instrucciones

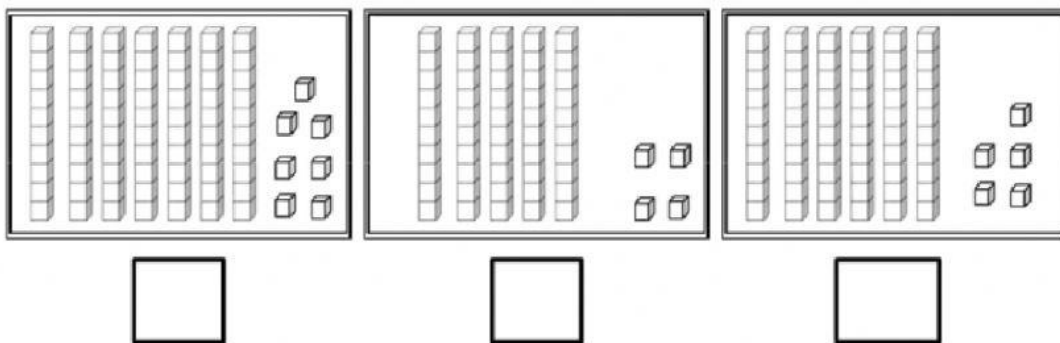
- 1.- La guía de actividades tienen instrucciones específicas. Léalas antes de desarrollarla.
- 2.- La guía de actividades debe ser presentada en el plazo destinado para su revisión y evaluación.
- 4.- Se solicita a los padres y apoderados apoyar a su hijo(a) en la realización de sus actividades e incentivar su desarrollo durante el periodo que permanezca en casa.

I. Escribe en el cuadro el número representado.

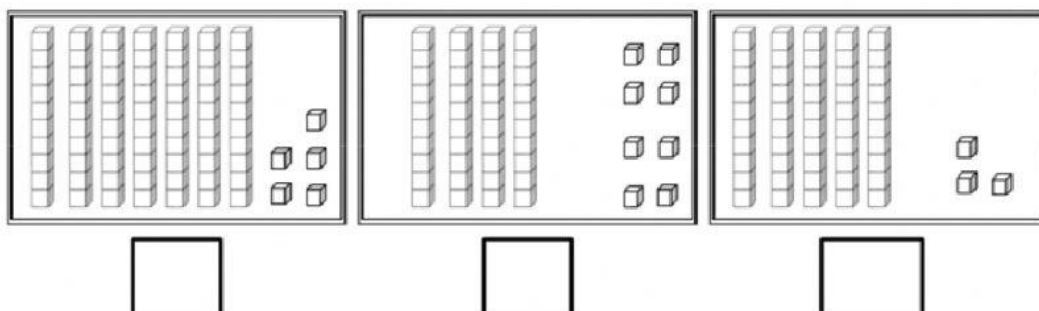
Qué numero es?



¿Qué numero es?



¿Qué numero es?

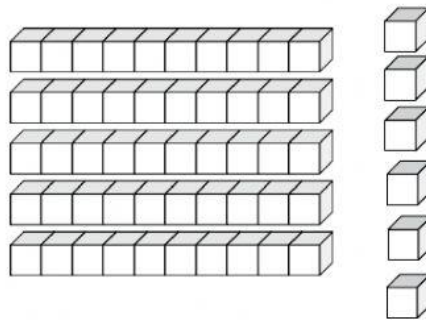


II. Lee con atención y **MARCA** la alternativa correcta.

1. ¿Cuál de los siguientes números es mayor a 37?

- a) 19
- a) 28
- b) 46

2. La siguiente representación corresponde al número.



- a) 56
- b) 65
- c) 66

3. El número $10 + 5$, corresponde al número:

- a) 14
- b) 15
- c) 25

4. En el número 34, el dígito de la decena representa:

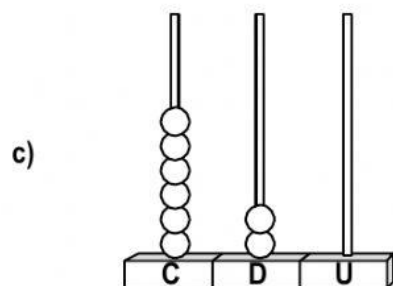
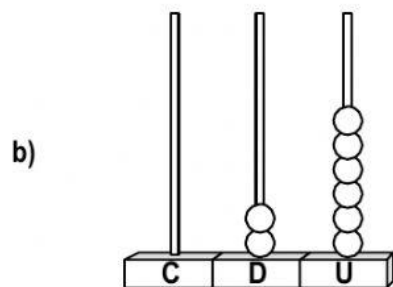
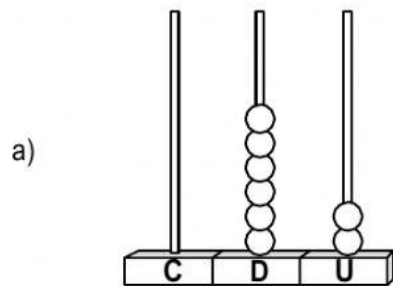
- a) 30 unidades
- b) 3 unidades
- c) 4 unidades

5. ¿Qué lugar ocupa en la fila la jirafa?

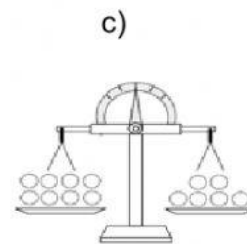
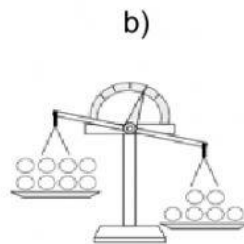
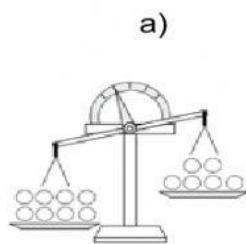
- a) 2º lugar
- b) 8º lugar
- c) 9º lugar



6. ¿En cuál de los siguientes ábacos se muestran el número 62?



7. ¿En cuál balanza se muestra que 8 es mayor que 6?



8. Observa la siguiente secuencia y responde:

¿Qué casa es la que continúa en la secuencia?



9. Observa y responde. ¿Qué animal está sobre el árbol?




10. ¿Qué animal está debajo de la rama?

- a) El pájaro
- b) El mono
- c) El perro



11. La mesa se parece a:




12. ¿Qué **diferencia** ves en estas dos figuras?

- a) La cantidad de lados.
- b) La cantidad de esquinas.
- c) La medida de los lados.

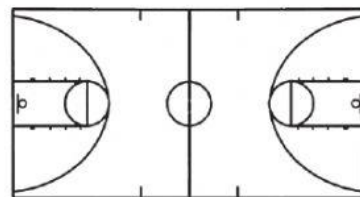


13. ¿Cuál es el dibujo que tiene solo líneas curvas?

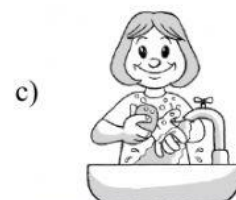



14. ¿Con qué tipo de líneas se forma el siguiente dibujo?

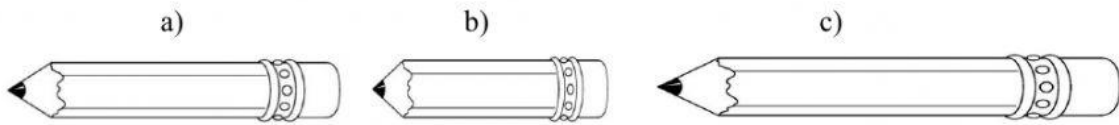
- a) Solo líneas rectas.
- b) Líneas rectas y curvas.
- c) Solo líneas curvas.



15. ¿Cuál es la actividad que dura más tiempo?







16. ¿Cuál es el lápiz más corto?



17. ¿Cuál es el farol más bajo?



Observa la tabla y responde las preguntas 17 y 18.

FRUTA FAVORITA	VOTOS
	
	
	
	

18. ¿Cuántas personas votaron por plátano?

- a) 10
- b) 9
- c) 8

19. ¿Cuál es la fruta menos votada?

- a) pera
- b) uva
- c) manzana