

E-LKPD

Lembar Kerja Peserta Didik-Elektronik

MENGENAL BAGIAN-BAGIAN TUMBUHAN DAN FUNGSIONYA

Nama :

Kelas :

Dosen
Pengampu:
Dr. Yulistina
Nur DS, M. Pd.

Disusun oleh:
Ria Nurendah

KELAS

4

SD/MI

PETUNJUK PENGUNAAN



1. TULISLAH IDENTITAS PADA KOLOM YANG TELAH DISEDIAKAN.
2. BACALAH PETUNJUK KERJA SEBELUM MENGERJAKAN SOAL.
3. MINTALAH BANTUAN GURU JIKA TERDAPAT KESULITAN DALAM Pengerjaan LKPD.
4. KERJAKAN SOAL DENGAN CERMAT DAN TELITI.
5. TEKAN TOMBOL FINISH JIKA TELAH SELESAI MENGERJAKAN LKPD.
6. SELAMAT MENGERJAKAN! :)



KOMPETENSI YANG AKAN DICAPAI

Kompetensi Dasar

Menganalisis bagian-bagian tubuh tumbuhan dan fungsinya.



Materi Pembelajaran

Mengenal bagian-bagian tubuh tumbuhan dan fungsinya

Tujuan Pembelajaran

1. Peserta didik mampu mengidentifikasi bagian-bagian tubuh dari tumbuhan.
2. Peserta didik memahami fungsi dari masing-masing bagian tubuh tumbuhan.

Informasi Pendukung

Ayo Membaca!

Bagian-Bagian Tumbuhan

Tumbuhan memiliki beberapa bagian penting, yaitu akar, batang, daun, bunga, dan buah.



Akar berfungsi menyerap air dan mineral dari tanah.



Batang berfungsi untuk menopang tumbuhan dan mengalirkan air serta nutrisi.



Daun berfungsi sebagai tempat fotosintesis.




Bunga berfungsi sebagai alat perkembangbiakan.



Buah melindungi biji dan membantu penyebarannya.

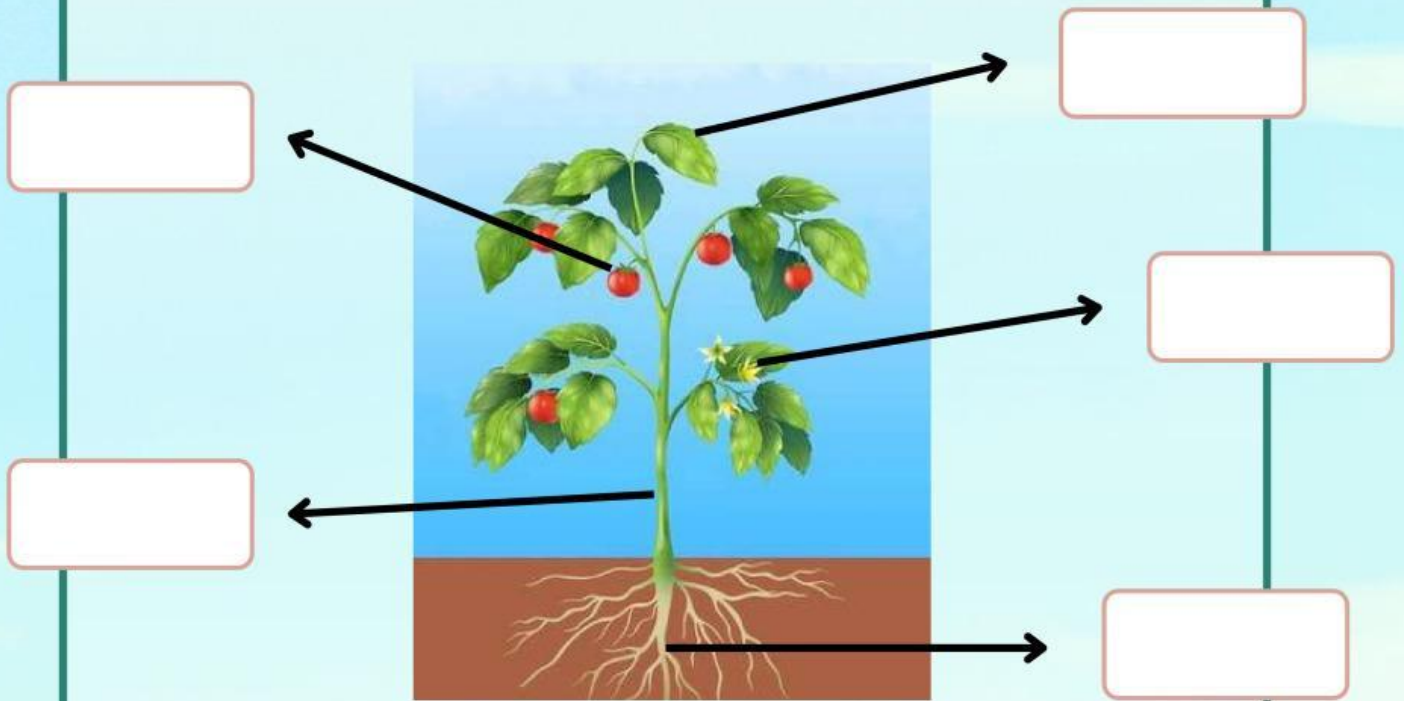


Bagus! Kamu sudah menyelesaikan bacaan. Yuk lanjut ke video pembelajaran berikutnya agar lebih paham!



KEGIATAN 1: MENJODOHKAN

JODOHKAN DENGAN
MENYERET PADA KOTAK
YANG SESUAI!



- Batang
- Akar
- Bunga
- Daun
- Buah



KEGIATAN 2: MEMASANGKAN

TEMUKANLAH PASANGAN KATA DAN GAMBAR DENGAN CARA MENGHUBUNGKAN GARIS YANG TEPAT

Untuk menopang tumbuhan

Untuk melindungi biji

Menyerap air dari tanah

Sebagai tempat fotosintesis

Sebagai alat perkembangbiakan



KEGIATAN 3: MENCARI KATA

AYO TEMUKAN 5 KATA YANG
BERHUBUNGAN DENGAN BAGIAN-
BAGIAN TUMBUHAN

U	E	D	A	U	N	Y	S	S	C
A	H	F	R	I	T	Z	U	E	Z
D	K	H	I	F	R	L	L	D	C
P	X	A	Q	J	B	U	N	G	A
C	Z	Y	R	T	N	W	J	H	O
D	B	U	A	H	G	Y	N	O	D
H	F	W	A	B	D	D	H	S	S
D	S	V	X	M	Q	T	Z	A	G
I	Q	D	M	W	N	I	E	K	O
J	L	M	O	B	A	T	A	N	G




KEGIATAN 4: MENCOCOKKAN

Pindahkan gambar dengan menyeret lalu letakkan di kotak yang sesuai dengan kata kuncinya!

Tempat perkembangbiakan	
Menyerap air dan mineral	
Sarana Lewatnya air	
Alat fotosintesis	
Tempat perkembangbiakan	
empat menyimpan cadangan makanan	



SOAL EVALUASI (TEKA TEKI SILANG)



Menurun

1. Bagian tumbuhan yang dimanfaatkan manusia untuk bahan bangunan adalah
2. Bagian tumbuhan yang biasanya paling keras adalah
4. Tumbuhan padi memiliki bentuk tulang daun
8. Daun selalu tumbuh dari
9. Jambu dan mangga adalah contoh tumbuhan yang berbatang

Mendatar

3. Pohon pepaya yang selalu dijadikan sayuran adalah
5. Bagian tumbuhan yang berfungsi menyerap air dan zat hara adalah
6. Tumbuhan yang berkeping dua mempunya akar
7. Bambu adalah contoh tumbuhan yang memiliki akar
10. Bagian tumbuhan yang berfungsi sebagai alat perkembangbiakan adalahtuliskan jumlah bagian tumbuhan pada tempat yang telah disediakan.