



PEMERINTAH KABUPATEN BONE
DINAS PENDIDIKAN
KECAMATAN TELLU SIATTINGE



ASESMEN SUMATIF

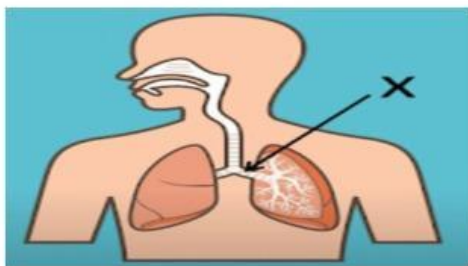
Mata Pelajaran : IPAS

Nama : Kelas :

I. Berikan tanda silang (x) pada jawaban yang benar !

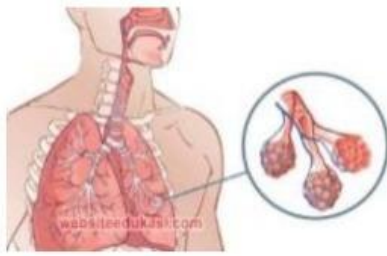
1. Organ pernapasan yang berfungsi menyaring kotoran dari luar dan menghangatkan udara yang masuk ke tubuh yaitu.....
 - a. Hidung
 - b. Bronkus
 - c. Faring
 - d. Laring
2. Udara yang dihirup masuk ke rongga hidung, kemudian menuju
 - a. laring
 - b. faring
 - c. alveolus
 - d. bronkiolus

Perhatikan gambar berikut!



3. Bagian organ pernapasan yang ditunjukkan oleh huruf X yaitu...
 - a. faring
 - b. laring
 - c. bronkus
 - d. trakea

4. Perhatikan gambar berikut ini!



Tempat terjadinya pertukaran oksigen dan karbon dioksida pada paru-paru manusia sesuai dengan alat pernapasan yang dilingkari disebut....

- a. Alveolus
- b. Bronkiolus
- c. Faring
- d. Trakea

5. Gangguan pernapasan yang disebabkan oleh virus dan mudah sekali menular disebut.....

- a. asma
- b. influenza
- c. bronkitis
- d.

TBC

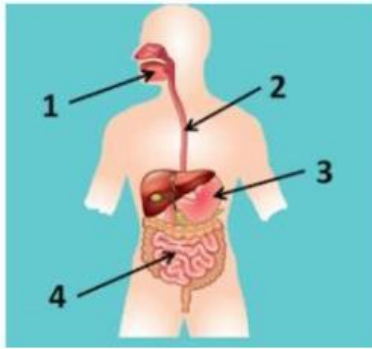
6. Perhatikan organ berikut!

- 1) Mulut
- 2) Tenggorokan
- 3) Kerongkongan
- 4) Jantung
- 5) Lambung

Organ-organ pencernaan manusia ditunjukkan oleh pernyataan nomor ...

- A. 1, 2, dan 5
- B. 1, 2, dan 4
- C. 1, 3, dan 4
- D. 1, 3, dan 5

7. Perhatikan gambar di bawah!



Gambar nomor 2 disebut....

- A. Mulut
 - B. Kerongkongan
 - C. Lambung
 - D. Anus
8. Ririn selalu sarapan dengan makanan yang bergizi. Organ tubuh Ririn yang bertugas untuk menyerap sari-sari makanan tersebut yaitu . . .
- A. Lambung
 - B. Usus halus
 - C. Usus besar
 - D. Anus
9. Organ yang merupakan pintu terakhir dari sistem pencernaan manusia dan sebagai tempat keluarnya tinja yaitu. . .
- A. Anus
 - B. Lambung
 - C. Rektum
 - D. Usus halus
10. Adit suka makan buah-buahan seperti jeruk, apel, dan pepaya. Makanan tersebut banyak mengandung. . .
- A. Karbohidrat
 - B. Lemak
 - C. Vitamin
 - D. Protein

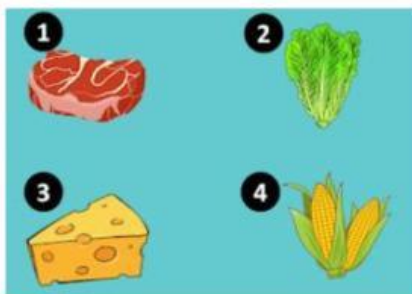
11. Perhatikan gambar di bawah!



Riana bingung untuk memilih menu makanan. Ibu Riana berpesan agar dia memakan makanan yang paling sehat. Riana harus memilih. . .

- A. Makanan A karena tidak mengandung protein
- B. Makanan B karena tidak mengandung vitamin
- C. Makanan A karena kandungan nutrisi seimbang
- D. Makanan B karena kandungan nutrisi seimbang

12. Perhatikan gambar di bawah!



Tiyas membuka kulkas, kemudian melihat makanan-makanan seperti gambar di atas. Makanan yang harus dimakan Tiyas agar mendapat banyak karbohidrat ditunjukkan oleh nomor ...

- A. 1
- B. 2
- C. 3
- D. 4

13. Tiara mengalami gangguan pencernaan karena makan makanan yang tidak bersih. Gejala yang dialami Tiara yaitu perut terasa mulas, tinja encer (buang air besar cair), pusing, lemas, dan kulit kering. Gangguan pencernaan Tiara yaitu. . .

- A. Maag
- B. Tukak lambung
- C. Diare
- D. Sembelit

14. Perhatikan tabel berikut!

No	Siklus Pertumbuhan
1	Masa Manula
2	Masa Remaja
3	Masa Balita
4	Masa Dewasa
5	Masa Anak-anak

Urutan siklus pertumbuhan yang dialami manusia dari awal hingga akhir kehidupannya yaitu

- A. 5, 3, 4, 2, dan 1
- B. 3, 5, 2, 4, dan 1
- C. 5, 3, 2, 4, dan 1
- D. 3, 5, 4, 2, dan 1

15. Perhatikan gambar di bawah!



Perubahan yang terjadi pada seseorang yang ada di gambar tersebut sesuai siklus pertumbuhannya yaitu. . .

- A. Pinggul membesar
- B. Suara kecil dan lembut
- C. Persendian kaku
- D. Jakun membesar

16. Perubahan yang terjadi pada seseorang perempuan sesuai siklus pertumbuhannya yaitu. . .

- A. Menstruasi/Haid
- B. Suara kecil dan lembut
- C. Persendian kaku
- D. Jakun membesar

10. Gambaran permukaan bumi pada bidang datar dengan menggunakan skala tertentu merupakan pengertian dari

- A. Peta
- B. Judul
- C. Symbol
- D. Legenda

11. Negara yang sebagian besar penduduknya bermata pencaharian sebagai petani disebut negara

- A. Negara maritim
- B. Negara agraris
- C. Negara kepulauan
- D. Negara khatulistiwa

12. Sumber daya alam adalah...

- A. Segala sesuatu yang terdapat di alam dan bermanfaat bagi manusia
- B. Segala sesuatu yang terdapat di alam
- C. Segala sesuatu yang bermanfaat bagi manusia
- D. Segala sesuatu yang terdapat di alam dan tidak bermanfaat bagi manusia

13. Berikut ini yang termasuk sumber daya alam yang dapat diperbarui adalah

- A. Batu bara dan minyak bumi
- B. Emas dan bensin
- C. Sinar matahari dan angin
- D. Bensin dan air

14. Perhatikan tabel berikut!

No	Sumber daya alam
1	Hewan
2	Minyak bumi
3	Air
4	Gas alam
5	Tanah
6	Batu bara

Kelompokkan sumber daya alam yang tidak dapat diperbaharui...

- A. 1, 2, dan 3
- B. 2, 4 dan 5
- C. 2, 4, dan 6
- D. 2, 5, dan 6

15. Perhatikan gambar berikut!



Sumber daya alam pada gambar di atas biasanya dimanfaatkan oleh manusia untuk

- A. Sumber makanan
 - B. Bahan bangunan
 - C. Sumber sandang
 - D. Obat-obatan
16. Salah satu cara menjaga warisan budaya benda seperti Candi Borobudur adalah dengan
- A. Menyimpannya di lemari
 - B. Membiarkannya alami
 - C. Memugar dan merawatnya
 - D. Merenovasi sesuai keinginan
17. Aktivitas ekonomi adalah kegiatan yang dilakukan oleh masyarakat untuk ...
- A. Liburan
 - B. Bermain
 - C. Mencari hiburan
 - D. Memenuhi kebutuhan hidup
18. Warisan budaya benda adalah budaya yang...
- A. Tidak bisa disentuh tetapi bisa dirasakan
 - B. Hanya dapat didengar
 - C. Dapat dilihat dan diraba
 - D. Berasal dari luar negeri

19. Perhatikan contoh warisan budayn berikut!

- (1) Tari saman
- (2) Gamelan
- (3) Pencak silat
- (4) Makanan khas

Contoh warisan budaya tak benda ditunjukkan oleh nomor ...

- A. 1 dan 2
- B. 1 dan 3
- C. 2 dan 3
- D. 3 dan 4

20. Aktivitas ekonomi di suatu daerah bergantung pada kondisi...

- A. Sumber daya alam
- B. Industri
- C. Peternakan
- D. Perdagangan

21. Perhatikan gambar berikut!



Aktivitas ekonomi yang dilakukan manusia berdasarkan gambar termasuk bidang...

- A. Perikanan
- B. Peternakan
- C. Jasa/layanan
- D. Perindustrian

22. perhatikan gambar berikut!



Aktivitas ekonomi yang ditunjukkan oleh gambar di atas dilakukan oleh masyarakat yang tinggal di daerah....

- A. Perkotaan
- B. pedesaan
- C. pegunungan
- D. pinggir pantai

23. Perhatikan usaha berikut!

- (1) Guru
- (2) Pabrik konveksi
- (3) Salon kecantikan
- (4) Pedagang

Usaha yang dilakukan bidang jasa ditunjukkan oleh nomor ...

- A. (1) dan (2)
- B. (1) dan (3)
- C. (2) dan (3)
- D. (3) dan (4)

24. Berikut ini hasil dari kegiatan ekonomi bidang pertanian adalah

- A. Padi, jagung, ubi
- B. Padi, ketela pohon, daging
- C. Daging, susu, telur
- D. Bandeng, kakap

25. Peristiwa alam seperti bencana yang terjadi kadang tidak terlepas dari akibat perbuatan manusia. Di bawah ini yang termasuk bencana alam diakibatkan langsung oleh perbuatan manusia adalah

- A. Polusi asap kebakaran hutan pada musim tanam
- B. Banjir disebabkan banyak sampah
- C. Gunung berapi meletus
- D. Ombak pantai yang tinggi

26. Pentingnya bagi kita menjaga lingkungan dari kerusakan adalah...
- A. Agar bisa membuang lebih banyak sampah
 - B. Supaya bumi cepat berubah
 - C. Untuk menjaga keseimbangan alam dan kesehatan manusia
 - D. Supaya banyak bencana terjadi
27. Perubahan di permukaan Bumi yang terjadi secara alami tanpa campur tangan manusia disebut dengan ...
- A. Reklamasi
 - B. Bencana alam
 - C. Kerusakan lingkungan
 - D. Aktivitas industri
28. Penyebab peristiwa alam bisa berubah menjadi bencana alam karena
- A. Manusia menanam pohon
 - B. Membawa manfaat bagi makhluk hidup
 - C. Menimbulkan kerugian dan korban jiwa
 - D. Terjadi di kota besar
29. Gempa bumi terjadi karena ...
- A. Angin kencang yang berputar
 - B. Pertemuan dan tumbukan antarlempeng tektonik
 - C. Terbakarnya hutan
 - D. Erupsi gunung api saja
30. Indonesia rawan mengalami gempa bumi karena ...
- A. Memiliki banyak sungai
 - B. Dilalui oleh jalur tiga lempeng tektonik
 - C. Tanahnya subur
 - D. Banyak penduduknya
31. Contoh bencana alam yang terjadi di laut adalah
- A. Banjir
 - B. Tanah longsor
 - C. Tsunami
 - D. Kebakaran hutan

32. Berikut ini yang termasuk akibat dari aktivitas manusia yang dapat merusak lingkungan adalah

- A. Menanam kembali pohon
- B. Menjaga kebersihan sungai
- C. Menebang hutan tanpa menanam kembali
- D. Mengolah sampah menjadi kompos

33. Sampah plastik berbahaya bagi lingkungan karena

- A. Bisa langsung menjadi pupuk
- B. Mudah terurai oleh tanah
- C. Butuh waktu lama untuk terurai dan mencemari lingkungan
- D. Bisa dimakan oleh hewan dengan aman

34. Mikroplastik bisa masuk ke tubuh manusia melalui ...

- A. Air hujan
- B. Makanan dari tumbuhan
- C. Rantai makanan laut
- D. Udara yang bersih

35. Salah satu cara mengolah sampah organik agar bermanfaat adalah dengan cara ...

- A. Dibakar
- B. Dibuang ke sungai
- C. Dijadikan kompos
- D. Dibungkus plastik