
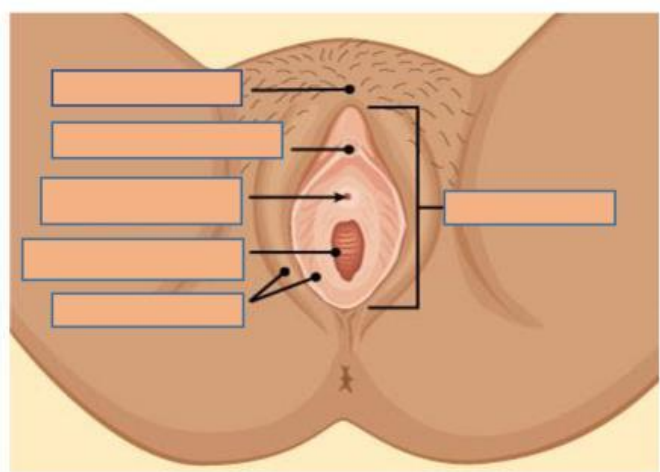
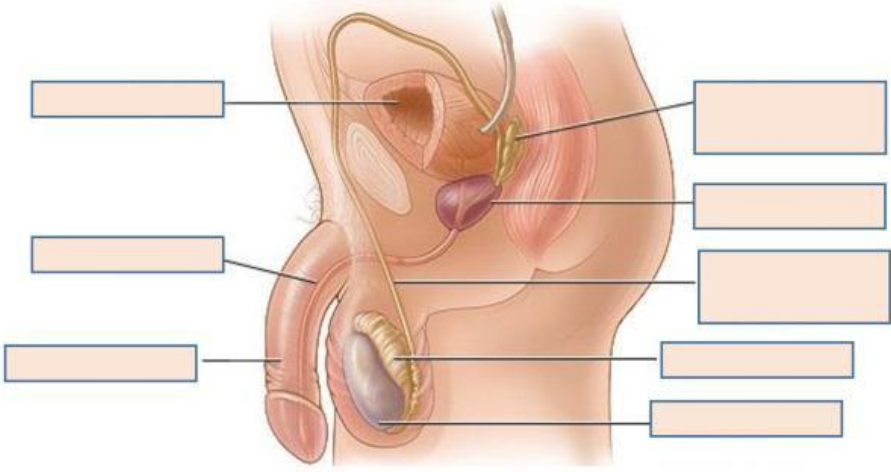





	<p align="center">ESCUELA DE EDUCACIÓN BÁSICA "VICENTE ROCAFUERTE" Parroquia 18 de octubre – Cantón Portoviejo Código AMIE: 13H00283 Distrito: 13D01 Circuito: 13D01C06_b</p>		 <p align="center">MINISTERIO DE EDUCACIÓN AÑO LECTIVO: 2025-2026</p>
<p align="center">INSTRUMENTO DE EVALUACIÓN DIAGNÓSTICO</p>			
<p align="center">DOCENTE:</p>	<p align="center">ÁREA</p>	<p align="center">GRADO / PARALELO</p>	<p align="center">JORNADA</p>
<p align="center">Lcda. Mérida Amén Carrillo.</p>	<p align="center">Ciencias Naturales</p>	<p align="center">Sexto Año Básico A/ B</p>	<p align="center">Matutina</p>
<p>NOMBRES Y APELLIDOS:</p>			<p>FECHA:</p>
<p>INSTRUCCIONES.</p>			
<p>Esta es una prueba para evaluar tus conocimientos y habilidades en el Área de Ciencias Naturales. Trabaja con atención para que puedas resolverla correctamente.</p>			
<p>PARA RESPONDER:</p>			
<ul style="list-style-type: none"> ❖ Completa los datos informativos, nombre y la fecha de aplicación. ❖ Lee con atención cada pregunta, reflexiona de acuerdo al desarrollo de actividades del año anterior. ❖ Evita enmendaduras o corrector en sus respuestas. 			
<p>No te detengas por mucho tiempo en preguntas que te resulten difíciles o que no recuerdes la respuesta.</p>			
<p>Al final; si te queda tiempo, podrás regresar a las preguntas que dejaste sin contestar.</p>			
<p align="center">INDICADORES ESCENCIALES DE EVALUACIÓN</p>			
<p align="center">Nº</p>	<p align="center">EVALUACIÓN DE NIVELES DE LOGRO DE APRENDIZAJE</p>		<p align="center">Puntos</p>
<p align="center">1</p>	<p>En el siguiente gráfico escriba las partes externas del aparato reproductor femenino.</p> <div data-bbox="343 907 1005 1377">  </div>		<p align="center">2</p>
<p align="center">2</p>	<p>Complete:</p> <p>a) Los testículos también forman parte del _____, porque fabrican _____, como la _____.</p> <p>b) La testosterona es la hormona que hace que a los chicos se les agrave la _____, se les desarrolle la _____ y les salga _____ en él _____ y en la _____.</p> <p>También estimula la fabricación de _____.</p>		<p align="center">2</p>
<p align="center">3</p>	<p>Es la estrella de mayor tamaño del sistema solar y emite luz propia.</p> <p>a) La Luna b) La Tierra c) El Sol d) Los satélites.</p>		<p align="center">1</p>

4	<p>Escriba las partes del aparato reproductor masculino.</p> 	2
5	<p>¿Cuál de los siguientes objetos no necesita energía eléctrica para funcionar?</p> <div style="display: flex; flex-wrap: wrap; justify-content: space-around;"> <div style="text-align: center;">a) </div> <div style="text-align: center;">c) </div> <div style="text-align: center;">b) </div> <div style="text-align: center;">d) </div> </div>	1
6	<p>Observa la imagen y responde la pregunta. ¿Qué se representa en la imagen?</p> <div style="display: flex;"> <div style="flex: 1;"> <p>a) El ciclo de la materia.</p> <p>b) El ciclo del agua.</p> <p>c) El ciclo de los mares.</p> <p>d) El ciclo de las nubes.</p> </div> <div style="flex: 1; text-align: center;">  </div> </div>	2

Elaborado por:	Aprobado por:
Docente: Lic. Mérida Amén Carrillo.	Directora: Lic. Jaqueline Arteaga Guerrero. Mg.