

1. Une con flechas:

a.



1. Nueve menos diez

b.



2. Seis y diez

c.



3. Siete menos cuarto

d.



4. Dos menos veinticinco

e.



5. Seis menos diez

2. Lee con atención lo que ha realizado Teresa en un día. Luego, escribe cómo se leen las horas correspondientes. Fíjate en la tabla de abajo.

Teresa se ha despertado a las (a) ..... y

se ha ido a hacer deporte hasta las (b) .....

Después se ha ido a trabajar y a las (c) .....

ha hecho un descanso.

Decidió tomar algo a las (d) ..... A las

(e) ..... ha parado a comer hasta las

(f) .....

A las (g) ..... de la tarde ha salido del trabajo

y se ha ido a clase de baile hasta las (h) .....










de la tarde, que se ha ido a casa, ha cenado y se ha duchado a las (i)

..... y se ha metido a la cama a las

(j) ..... para leer 25 minutos y luego

dormirse a las (cálculalo y escribe la hora)

.....

(a) <sup>1</sup> 	(c) <sup>12</sup> 	(e) <sup>3</sup> 	(g) <sup>7</sup> 	(i) <sup>10</sup> 
(b) <sup>6</sup> 	(d) <sup>4</sup> 	(f) <sup>11</sup> 	(h) <sup>1</sup> 	(j) <sup>4</sup> 