



# LKPD

## Matematika

Tema:  
Pecahan



$$\frac{1}{8}$$



# LKPD

## Pecahan

### Capaian Pembelajaran

- Siswa dapat memahami konsep pecahan dan dapat menggunakannya dalam kehidupan sehari-hari.
- Siswa dapat mengubah bentuk pecahan ke bentuk desimal


### Tujuan Pembelajaran

- Siswa dapat menjelaskan konsep pecahan dan bagian-bagian pecahan (pembilang dan penyebut).
- Siswa dapat menggunakan pecahan untuk memecahkan masalah dalam kehidupan sehari-hari, seperti membagi makanan.

# LKPD

## Pecahan

Perhatikan video mengenai pecahan berikut :



Perhatikan presentasi pecahan berikut :



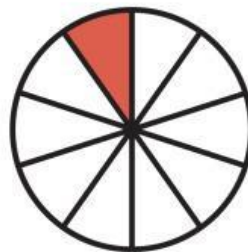
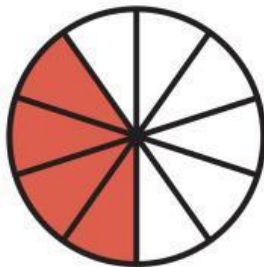


## 1. Single choice

Bilangan yang memiliki penyebut dan pembilang adalah

## 2. Teksfield

Tulislah pecahan di bawah ini dalam bentuk desimal



## 3. Checkbook

Pernyataan yang benar adalah

1



$$\frac{1}{3}$$

2



$$\frac{2}{5}$$

3



$$\frac{7}{7}$$


4




$$\frac{1}{2}$$

## 4. Drag and Drop

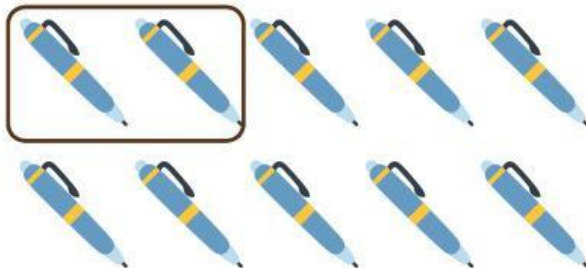
Geser jawaban ke soal yang benar!



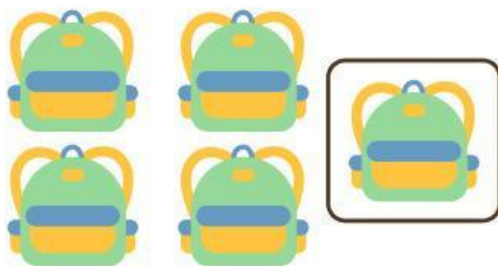
$2/10$




$4/10$



$1/5$



$5/10$



$3/10$

## 5. Join

Hubungkan setiap pecahan yang memiliki jumlah senilai.

$$\frac{2}{6} \bullet$$

$$\bullet \frac{2}{4}$$

$$\frac{1}{5} \bullet$$

$$\bullet \frac{4}{12}$$

$$\frac{1}{2} \bullet$$

$$\bullet \frac{6}{8}$$

$$\frac{3}{4} \bullet$$

$$\bullet \frac{2}{10}$$

## 6. Listening

Dengarkan suara berikut dan tulis jawabannya



## 6. Select

Hasil yang benar adalah



$$\frac{3}{4}$$

$$\frac{2}{6}$$

$$\frac{3}{5}$$

$$\frac{2}{3}$$



$$\frac{1}{5}$$

$$\frac{1}{3}$$

$$\frac{3}{2}$$

$$\frac{3}{4}$$

## 7. Speak

Sebutkan pecahan berikut dengan tepat

$$\frac{5}{2}$$

