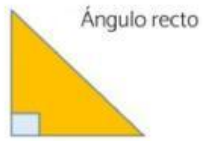


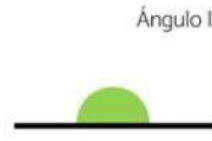
# ÁNGULOS OCULTOS



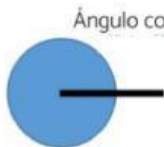
Ángulo recto



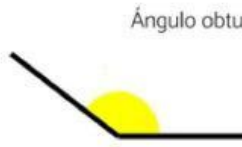
Ángulo agudo



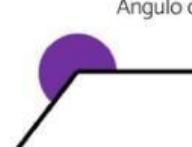
Ángulo llano



Ángulo completo



Ángulo obtuso



Ángulo cóncavo

Calcula los grados de cada uno de los ángulos y di el tipo que es

