

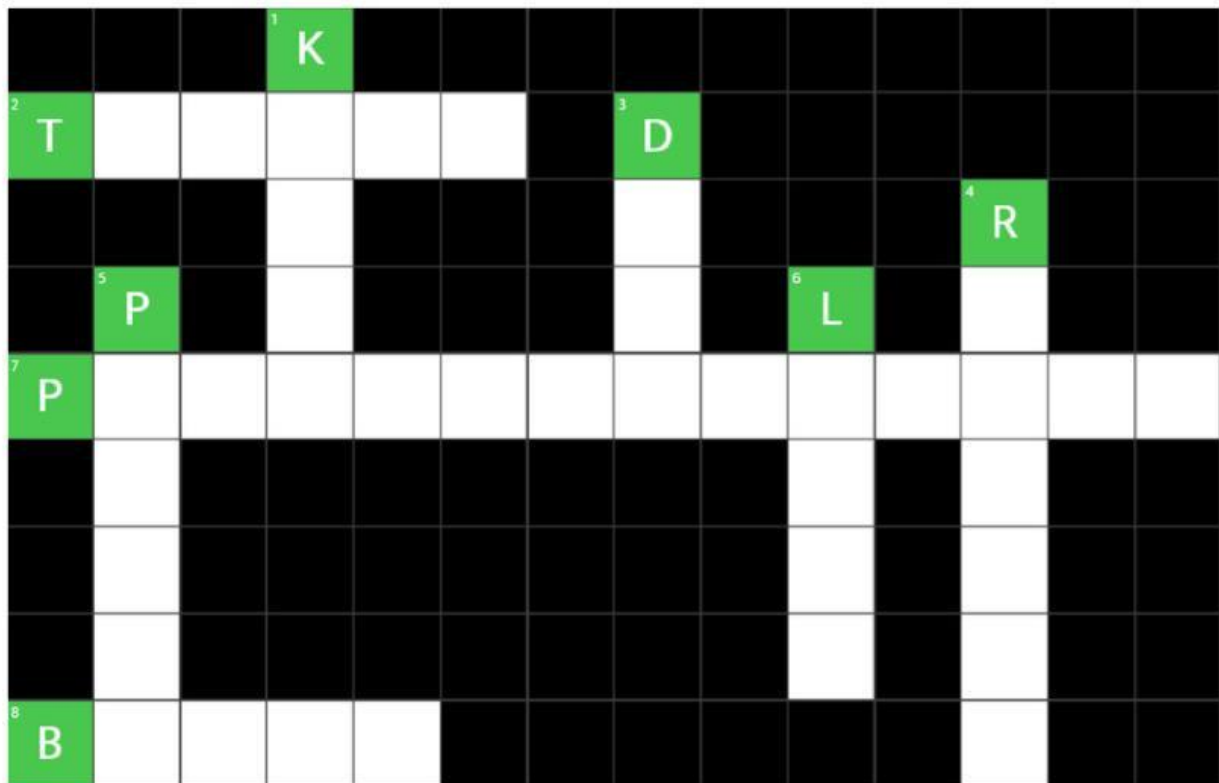
NAME :

CLASS :



## TEKA-TEKI SILANG

Isilah teka-teki silang di bawah ini sesuai bangun ruang di Gereja Blenduk!



### ACROSS

2 Bentuk kolom atau tiang penyangga di bagian luar gereja

7 Bangun ruang menyerupai atap depan pintu utama gereja

8 Bentuk bangun ruang kursi panjang jemaat di dalam gereja.

### DOWN

1 Bentuk bangun ruang yang bagian sisi depannya terdapat jam

3 Struktur atap setengah bola (dalam Bahasa Inggris)

4 Pegangan tangga atau balkon yang berbentuk tabung memanjang






5 Bentuk mimbar atau ruangan tambahan kecil berbentuk kotak memanjang

6 Bentuk atap menara kecil gereja di bagian depan atau samping



## DRAG AND DROP

Isilah tabel ini sesuai dengan pilihan yang sesuai!

Bagian Gereja	Nama Bangun	Luas Permukaan Bangun Ruang
		
		
		
		
		



## DRAG AND DROP

Isilah tabel ini dengan unsur-unsur yang ada pada whiteboard!

Bagian Gereja	Volume Bangun Ruang
Dinding Jam	$\times S \quad S$
Atap Menara	$\times S \quad S \times$
Kubah	$\frac{1}{2} \times \quad \times \pi \quad r \times \quad \times r$
Pilar	$\times \quad \times r \quad t$
Jendela Melengkung	$\frac{1}{2} \times \quad \times r \quad r \times \quad + \quad \frac{1}{4} \times \quad \times \pi \quad r \times \quad \times r$

$\times \quad \times \quad \times \quad \times \quad \times \quad \times \quad \times \quad \times \quad \times \quad \times \quad \times$   
 $\times \quad \times \quad \times \quad \times \quad \times \quad \times \quad \times \quad \times \quad \times \quad \times \quad +$   
 $\frac{1}{3} \quad \frac{1}{2} \quad \frac{4}{3} \quad \frac{1}{2} \quad \frac{4}{3} \quad \frac{1}{4} \quad t \quad t \quad t$   
 $S \quad S \quad S \quad S \quad S \quad \pi \quad \pi \quad \pi \quad \pi$   
 $r \quad r \quad r \quad r \quad r \quad r \quad r \quad r \quad r \quad r$

# FINISH