

DOKUMEN MADRASAH

SANGAT RAHASIA



Nama :

No :

**SUMATIF AKHIR TAHUN (SAT) SEMESTER GENAP**  
**MI HIDAYATUL MUBTADIIN DEMPEL**  
**TAHUN PELAJARAN 2024/2025**

Mata Pelajaran : IPAS

Hari / Tanggal :

Kelas : IV (Empat)

Waktu :

**A. Ayo memilih jawaban yang tepat dengan huruf A, B, C atau D pada kotak jawab yang tersedia!**

1. Keanekaragaman hayati yang disebabkan oleh variasi genetik disebut keanekaragaman hayati tingkat ...
  - a. Spesies
  - b. Gen
  - c. Ekosistem
  - d. Jenis
2. Perhatikan contoh-contoh keanekaragaman hayati berikut!

1. Hutan hujan tropis, tundra, dan hutan gugur
2. Kelapa hijau, kelapa hybrid, dan kelapa gading
3. Jeruk purut, jeruk bali, dan jeruk limau
4. Semangka, melon, dan mentimun

Keanekaragaman hayati Tingkat spesies ditunjukkan oleh nomor ...

- a. 1 dan 2
  - b. 2 dan 3
  - c. 1 dan 4
  - d. 3 dan 4
3. Maura mengamati dapur dirumahnya. Di dapur ada banyak benda. Perhatikan benda-benda yang ada di dapur Maura berikut!

1. Telur
2. Panci
3. Beras
4. Cangkir plastik
6. Gas LPG
7. Sayur-sayuran
8. Garpu stainless steel
9. Spatula kayu

Benda yang terbuat dari sumber daya alam yang tidak dapat diperbaharui ditunjukkan oleh nomor ...

- a. 1, 3, 5, dan 7
- b. 2, 4, 5, dan 7
- c. 2, 4, 5, dan 8
- d. 5, 6, 7, dan 8



4. Kota Malang merupakan salah satu daerah dataran tinggi yang ada di Indonesia. Kota Malang dikenal sebagai kota pelajar, karena memiliki banyak perguruan tinggi dan sekolah serta menjadi salah satu pusat Pendidikan di Jawa Timur. Terkait hal tersebut maka di daerah Malang banyak ditemui profesi, diantaranya adalah ...
  - a. Guru, dosen, dan petugas perpustakaan
  - b. Dokter, polisi, dan ahli arkeologi
  - c. Petugas perpustakaan, guru, dan ahli arkeologi
  - d. Bidan, dokter, dan perawat
5. Bu Hanifah seorang penjual di kantin sekolah. Tanggung jawab Bu Hanifah adalah ...
  - a. Menyajikan makanan dan minuman yang sehat dan bergizi
  - b. Menyediakan tempat yang nyaman dan bersih untuk para pembeli
  - c. Memastikan lingkungan sekolah bersih dan rapi
  - d. Memastikan semua siswa bersikap disiplin dan bersifat baik di sekolah
6. Interaksi sosial antar individu yang terjadi di lingkungan sekolah adalah ...
  - a. Nisa membaca buku di perpustakaan
  - b. Luna meminjam pensil kepada Boni
  - c. Pak Guru menjelaskan materi kepada siswa
  - d. Kevin menyapa guru di sekolah
7. Kesepakatan bersama yang berlaku dan dijalankan oleh suatu Masyarakat serta diyakini secara turun temurun dinamakan ...
  - a. Norma
  - b. Tata tertib
  - c. Peraturan tertulis
  - d. Peraturan tidak tertulis
8. Peraturan dibuat bertujuan memberikan kepastian hukum bagi warga Masyarakat. Apabila di suatu negara tidak ada kepastian hukum, maka warga akan bertindak ...
  - a. Sesuka hati
  - b. Sesuka hati nuraninya
  - c. Sesuai peraturan yang ada
  - d. Sesuai aturan yang berlaku
9. Perhatikan makhluk hidup berikut!

Pohon bakau, pohon kelapa, serangga, burung pantai, kepiting, dan penyu

Contoh makhluk hidup diatas dapat ditemukan pada ekosistem ...

- a. Lumut
  - b. Pantai
  - c. Gurun
  - d. Padang rumput
10. Amati fauna berikut!



Fauna pada gambar disamping memiliki tipe yang sama dengan kelompok fauna ...

- a. Siamang, banteng, dan pesut Mahakam
- b. Komodo, anoa, dan burung maleo
- c. Walabi, kuskus, dan landak iringan
- d. Kuskus, anoa, dan burung maleo



11. Benda dibawah ini terbuat dari sumber daya alam, yaitu ....



- a. Kayu jati
- b. Kayu ulin
- c. Mahoni
- d. Bambu

12. Amati gambar berikut!



A



B

Pernyataan yang tepat terkait dua wilayah pada gambar adalah ...  
(Jawaban lebih dari satu)

a.	Wilayah A dan b terletak di dataran tinggi
b.	Penduduk di wilayah A lebih banyak daripada di wilayah B
c.	Mata pencaharian penduduk di wilayah B, yaitu petani, peternak, pedagang, dan perajin
d.	Penduduk di wilayah B lebih banyak daripada di wilayah A

13. Berikut contoh interaksi sosial yang terjadi antar kelompok di lingkungan sekolah adalah ...

a.



c.



b.



d.





**Pernyataan untuk mengerjakan soal nomor 14 dan 15!**

Pak Bambang seorang perajin mebel yang sukses. Pak Bambang memanfaatkan kayu yang diambil dari hutan usaha mebelnya.

14. Kegiatan Pak Bambang memanfaatkan kayu yang diambil dari hutan untuk usahanya membuktikan bahwa adanya interaksi dengan ... .
- Orang lain
  - Tetangganya
  - Antar pengusaha
  - Lingkungan alam
15. Kegiatan yang sebaiknya dilakukan Pak Bambang setelah menebang pohon di hutan adalah ... .
- Menebang pohon terus-terusan tanpa memperhatikan lingkungan
  - Membiarkan lahan kosong tidak ditanami
  - Melakukan penanaman di lahan yang ditebang dengan bibit pohon yang sama
  - Menebang pohon di hutan lain
16. Luna sangat menyukai kucing. Luna memelihara beragam jenis kucing. Ada kucing Persia, kucing angora, dan kucing siam. Ketiga jenis kucing tersebut memiliki perbedaan bentuk tubuh, bentuk wajah, dan bulu.
- Kucing-kucing Luna menunjukkan adanya keanekaragaman hayati Tingkat ... .
- Jenis
  - Spesies
  - Ekosistem
  - Gen
17. Perhatikan gambar berikut!



- Tujuan dilakukannya kearifan local seperti pada gambar adalah ... .
- Bersama-sama memanfaatkan sumber daya laut tanpa pelestarian
  - Memanfaatkan hasil laut secara besar-besaran
  - Memanfaatkan hasil laut untuk diperjualbelikan
  - Melestarikan ekosistem laut dengan melarang mengambil sumber daya laut dalam waktu yang ditentukan



18. Te Aro Neweak Lako merupakan kepercayaan yang dilakukan oleh Masyarakat Papua. Kepercayaan Te Aro Neweak Lako membuat alam di Papua masih terjaga. Berikut *bukan* beberapa hal yang menjadi ciri-ciri kepercayaan Te Aro Neweak Lako adalah ... .

- a. Gunung Erstberg dan Grasberg dipercaya sebagai kepala mama
- b. Pemanfaat sumber daya alam harus dilakukan dengan berhati-hati
- c. Alam boleh dimanfaatkan dan boleh di eksploitasi secara berlebihan
- d. Tanah dianggap sebagai bagian hidup manusia

19. Kelas Edo kedatangan teman baru dari daerah lain. Kebetulan suku Edo dengan teman barunya juga berbeda. Sikap yang sebaiknya dilakukan Edo adalah ... .

- a. Menjauhi teman baru karena berbeda suku dengannya
- b. Menghindari teman baru karena tidak sesuku dengannya
- c. Mengganggu teman baru karena berbeda suku dengannya
- d. Mengajak teman baru bermain walaupun berbeda suku dengannya

20. Perhatikan data berikut!

- |           |                  |
|-----------|------------------|
| 1. Suku   | 4. Nama          |
| 2. Budaya | 5. Status sosial |
| 3. Bahasa |                  |

Data diatas yang bukan termasuk jenis keragaman budaya di Indonesia adalah ... .

- a. 1, 2, dan 5
- b. 1, 2, dan 3
- c. 3 dan 4
- d. 4 dan 5

21. Perhatikan pernyataan-pernyataan berikut!

- |                                 |
|---------------------------------|
| 1. Upacara adat                 |
| 2. Kepercayaan                  |
| 3. Pengelolaan sumber daya alam |
| 4. Eksploitasi sumber daya alam |

Berikut kearifan lokal yang ada di Indonesia ditunjukkan nomor ... .

- a. 1, 2, dan 3
- b. 1, 2, dan 4
- c. 1, 3, dan 4
- d. 2, 3, dan 4

22. Tidak mencoret-coret saat berkunjung ke salah satu anjungan rumah adat merupakan supaya untuk ... .

- a. Melestarikan keberadaan rumah adat
- b. Menjaga kesenian daerah
- c. Menjaga silaturahmi
- d. Menjaga perdamaian

23. Pencemaran udara memiliki banyak contohnya yang dapat ditemukan di lingkungan sekitar. Contoh dibawah ini yang termasuk pencemaran udara, yaitu ... .

- a. Asap kendaraan bermotor
- b. Pembuangan sampah ke Sungai
- c. Penggunaan pestisida
- d. Penggunaan pupuk



24. Firman sedang memperhatikan kondisi sungai di dekat rumahnya. Kondisi yang Firman temukan, yaitu sungai ditumbuhi tumbuhan enceng gondok yang subur, terdapat berbagai jenis tanaman di pinggir sungai, dan banyak anak-anak bermain di sekitar sungai. Firman berpikir bahwa sungai di dekat rumahnya sudah tercemar, karena pada air sungai yang telah tercemar akan terlihat tanda-tanda, yaitu ... .

- Airnya tidak berbau busuk
- Terdapat berbagai jenis ikan hidup di Sungai
- Airnya terlihat jernih dan tidak berwarna
- Enceng gondok tumbuh dengan subur

25. Berikut merupakan contoh lingkungan geografis menjadi faktor yang mempengaruhi mempengaruhi perkembangan budaya adalah ... .

- Masyarakat Maluku yang tinggal di pesisir pantai lebih sering mengonsumsi ikan dibandingkan masyarakat Dieng yang tinggal di dataran tinggi
- Masyarakat Jawa Barat memiliki kebiasaan menghidangkan teh tawar dalam sajian makanan
- Masyarakat Kampung Adat Cireundeun, Jawa Barat memiliki tradisi memakan makanan pokok dari singkong
- Masyarakat Indonesia yang meminum jamu untuk menjaga Kesehatan tubuh

26. Minyak bumi merupakan salah satu sumber daya alam yang tidak dapat diperbarui. Minyak bumi dapat dijadikan menjadi beberapa olahan yang bermanfaat bagi kehidupan sehari-hari. Berikut olahan minyak bumi dan manfaatnya yang tepat adalah ... .

(Jawaban lebih dari satu)

	Nama Olahan Minyak Bumi	Manfaatnya
a.	Solar	Bahan bakar kendaraan diesel
b.	Avtur	Bahan bakar kereta api
c.	Parafin	Bahan pembuat lilin
d.	Minyak tanah	Bahan bakar kendaraan bermotor

27. Perhatikan tabel berikut!

	Peran		Tugas
P	Kepala Sekolah	I	Mendidik dan memberi Pelajaran kepada siswa
Q	Guru	II	Belajar dan mendengarkan guru menerangkan pelajaran
R	Siswa	III	Menjaga keamanan lingkungan sekolah
S	Satpam	IV	Memimpin dan mengatur kegiatan sekolah

Pasangan peran dan tugas di lingkungan sekolah yang tepat adalah ... .

- P – I, Q – II, R – IV, dan S – III
- P – IV, Q – I, R – II, dan S – III
- P – I, Q – IV, R – II, dan S – III
- P – III, Q – II, R – I, dan S – IV

28. Fauna Indonesia dikelompokkan menjadi tiga, yaitu fauna tipe Asiatis, tipe peralihan, dan tipe Australis. Berikut pernyataan yang benar terkait fauna di Indonesia adalah ... .

(Jawaban lebih dari satu)



a	Fauna tipe Australis mencakup wilayah Jawa, Sumatra, Bali dan Kalimantan
b	Contoh fauna tipe peralihan, diantaranya komodo, anoa, dan babi rusa
c	Fauna tipe Asiatis dan tipe peralihan dipisahkan oleh garis Wallace
d	Contoh fauna tipe Asiatis, diantaranya burung cendrawasih, buaya, ular, dan burung kakatua

29. Adanya tradisi pemotongan nasi tumpeng di beberapa daerah di Indonesia sering dilakukan. Umumnya, nasi tumpeng dengan berbagai lauk pauk tersebut merupakan symbol adanya ...





- a. Makanan khas daerah
- b. Kesejahteraan dan kesulitan
- c. Rasa Syukur atas kebahagiaan
- d. Keselamatan dan keamanan

30. Te Aro Neweak Lako (Alam adalah Aku) merupakan sebuah kepercayaan bagi Masyarakat Papua. Karena menganut kepercayaan tersebut, pemanfaatan sumber daya alam di sana dilakukan secara ... .

- a. Sukarela
- b. Serampangan
- c. Hati-hati
- d. Mudah dan fleksibel

### B. Ayo, memberi tanda centang (v) pada jawaban yang benar!

31. Indonesia memiliki hewan-hewan endemic. Berikut hewan endemic yang berasal dari Papua adalah ... .

.....		.....	
.....		.....	



32. Contoh perilaku yang sesuai dengan nilai-nilai luhur budaya yang dimiliki Indonesia adalah ...

.....	Anisa memanggil tetangganya yang lebih tua dengan sebutan Namanya
.....	Farhan menyapa temannya data bertemu di jalan
.....	Dania mencium tangan kedua orang tuanya sebelum berangkat ke sekolah
.....	Fadil tidak mau membantu temannya yang sedang mengalami kesulitan

33. Papua merupakan salah satu daerah di Indonesia yang memiliki keragaman budayanya. Berikut merupakan contoh keragaman yang dimiliki Papua, yaitu ... .

.....	Tifa	.....	Rumah Honai	.....	Tari Tor-tor	.....	Suku Mamuju
-------	------	-------	-------------	-------	--------------	-------	-------------

34. Indonesia memiliki sumber daya alam yang melimpah. Sumber daya alam dapat diolah menjadi produk pangan dan non pangan. Contoh pemanfaatan sumber daya alam sebagai produk nonpangan adalah ... .

.....	Bu Nuri memproduksi jaket dan tas dari kulit sapi
.....	Pak Pras memanfaatkan kayu ulin untuk membangun rumah
.....	Irwin mengolah kulit sapi menjadi kerupuk
.....	Dania membuat bubur dari jagung

35. Interaksi sosial asosiasi di lingkungan masyarakat dapat menciptakan persatuan dan kesatuan serta meningkatkan rasa peduli sesama. Manakah contoh interaksi sosial asosiatif yang terjadi di lingkungan masyarakat?

.....	Ardian bersikap acuh tak acuh Ketika ada tetangga yang menyapa
.....	Mela enggan membantu tetangganya yang sedang mengadakan hajatan
.....	Alesha menghormati tetangganya yang sedang melaksanakan acara adatnya
.....	Pak Burhan selalu aktif mengikuti gotong royong di kompleks perumahanya

36. Berikut yang menunjukkan keanekaragaman hayati Tingkat gen adalah ... .

.....	Mawar merah dan mawar putih	.....	Jeruk nipis dan jeruk bali
.....	Kucing Persia dan kucing saim	.....	Kunyit dan jahe



37. Hutan memiliki sumber daya alam yang melimpah. Masyarakat yang tinggal di dekat hutan memanfaatkan sumber daya alam di hutan untuk memenuhi kebutuhannya. Hal tersebut akan berpengaruh pada mata pencaharian masyarakat. Berikut mata pencaharian Masyarakat yang tinggalnya di dekat hutan adalah ... .

.....	Perajin rotan
.....	Nelayan
.....	Perajin kayu
.....	Jasa sewa penginapan

38. Amati gambar berikut!



Tugas Nita berdasarkan gambar disamping adalah ... .

.....	Memantau tumbuh kembang anak
.....	Mengajak Masyarakat untuk membayar pajak tepat waktu
.....	Memberikan pengobatan kepada warga yang sakit
.....	Memberikan penyuluhan tentang pola asuh balita

39. Di wilayah dataran tinggi cocok ditanami berbagai jenis tanaman, seperti ... .

.....	kopi
.....	Apel
.....	Tembakau
.....	Pohon bakau

40. Amati gambar berikut!



Karakteristik wilayah yang paling cocok untuk membudidayakan tanaman seperti pada gambar adalah ... .

.....	Beriklim panas dan lembap
.....	Wilayah dengan suhu udara dingin dan sejuk
.....	Berada di sekiling pegunungan
.....	Wilayah dengan suhu udara 23-28 <sup>0</sup> celcius



**C. Ayo, pasangkan pernyataan dengan bentang alam yang tepat!**

- |  |  |
|--|--|
| 41. Banyak dijumpai perkantoran dan industri   | <input type="radio"/> Dataran rendah daerah sungai         |
| 42. Banyak ditemukan sumber daya alam antara lain ikan, udang, kerang, dan rumput laut   | <input type="radio"/> Dataran tinggi                       |
| 43. Mata pencaharian penduduk, meliputi pedagang di pasar terapung dan pembudi daya ikan | <input type="radio"/> Dataran rendah daerah perkotaan      |
| 44. Lahan pertanian dapat ditanami pohon kelapa, padi, dan tanaman palawija              | <input type="radio"/> Dataran rendah daerah pedesaan       |
| 45. Memiliki ketinggian lebih dari 500 m di atas permukaan laut dan udara yang sejuk     | <input type="radio"/> Dataran rendah daerah pesisir pantai |

**D. Ayo, lengkapi pernyataan-pernyataan berikut dengan jawaban yang tepat!**

46. Proses pencampuran dua kebudayaan yang berbeda tanpa menghilangkan kebudayaan aslinya dinamakan ... .
47. Suku Toraja merupakan suku bangsa yang mendiami provinsi ... .
48. Sumber daya alam yang berasal dari makhluk tak hidup (abiotik) disebut ... .
49. Kegiatan industri dan perkantoran banyak ditemukan di wilayah dataran rendah, khususnya daerah ... .
50. Kearifan lokal Te Aro Neweak Lako dilakukan oleh Masyarakat di ... .