

LKPD

LEMBAR KERJA PESERTA DIDIK

SISTEM KOMPUTER

Kelas X Semester 1 Kurikulum Merdeka



Nama :

Kelas :

LKPD 1 : PERANGKAT KERAS KOMPUTER (*HARDWARE*)

Kompetensi Dasar	Indikator Pencapaian Kompetensi
3.1 Mengidentifikasi berbagai komponen perangkat keras komputer	3.1.1 Menyebutkan perangkat keras yang berfungsi sebagai alat <i>input</i>
	3.1.2 Menyebutkan perangkat keras yang berfungsi sebagai alat proses
	3.1.3 Menyebutkan perangkat keras yang berfungsi sebagai alat <i>output</i>
	3.1.4 Menyebutkan perangkat keras yang berfungsi sebagai media penyimpanan
	3.1.5 Menjelaskan fungsi komponen perangkat keras komputer
4.1 Menguraikan fungsi-fungsi perangkat keras komputer	4.1.1 Menuliskan nama dan fungsi dari perangkat keras komputer

Tujuan

Melalui kegiatan pengamatan perangkat di rumah, di lab. Komputer, di lingkungan sekitar masing-masing :

1. Peserta didik dapat menjelaskan jenis dan fungsi perangkat keras komputer bagian *input* dan *output* secara teliti dan bertanggung jawab
2. Peserta didik dapat menjelaskan jenis dan fungsi perangkat keras komputer bagian pemrosesan dan media penyimpanan secara teliti dan bertanggung jawab



A. Materi

Perhatikan Video dibawah ini !








B. Tugas

Pertemuan 1

A. Ikuti petunjuk kerja individu di bawah ini!

1. Amati dan kamu catat peralatan yang terdapat di laboratorium!
2. Tunjukkan nama, fungsi dan pilih termasuk alat input, dan output!
3. Tulislah jawabanmu di LKPD ini!

Gambar	Nama Hardware	Fungsi	Termasuk Input/ Output
			
			
			
			
			
			
			
			
			

Pilih jawaban yang benar dengan menghitamkan lingkaran jawaban.

1. Manakah yang termasuk perangkat keras komputer?

☐ A Ms. Office

☐ B Keyboard

☐ C Google Chrome

2. Fungsi utama keyboard pada komputer?

☐ A Memasukkan teks

☐ B Menyimpan data

☐ C Menampilkan gambar

3. Manakah yang merupakan contoh perangkat lunak (software)?

☐ A Monitor

☐ B Printer

☐ C Microsoft Word

4. Benda yang berfungsi untuk menunjuk, mengklik dan memilih...

☐ A Keyboard

☐ B Mouse

☐ C Headset

5. Untuk mengakses internet kita membutuhkan...

☐ A Jaringan Wifi

☐ B Kabel data

☐ C Mouse

6. Komputer yang mudah dibawa kemana-mana disebut...

☐ A Printer

☐ B Laptop

☐ C CPU

7. Otak dari komputer adalah..

☐ A Printer

☐ B Prosesor

☐ C CPU

Nilai



Saran Guru

Paraf

Nama:

Kelas:

No Absen:



TEKA-TEKI TEKNOLOGI

Tulis kata-kata di bawah ini dengan definisi yang sesuai!



1. Perangkat yang digunakan untuk mengakses internet tanpa kabel.

2. Sistem operasi yang digunakan pada sebagian besar komputer.

3. Mesin pencari yang membantu menemukan informasi di internet.

4. Perangkat yang digunakan untuk mencetak dokumen dari komputer.

5. Program yang digunakan untuk membuat dan mengedit presentasi.

6. Perangkat yang digunakan untuk menyimpan data secara eksternal.

7. Tempat menyimpan berbagai aplikasi di ponsel Android.

8. Bahasa pemrograman yang digunakan untuk membuat situs web.

9. Perangkat yang digunakan untuk menangkap gambar digital.

10. Program yang memungkinkan pengguna untuk mengedit foto.

Nilai



Saran Guru

Paraf

BAGIAN KOMPUTER

Silakan isi Kolom tersebut dengan memindahkan item yang ada pada Lembar kerja !



keyboard

Cpu

mouse

printer

screen

monitor

Hubungkan Nama dengan Bagian Komputer

Tarik garis dari gambar bagian komputer ke nama bagian yang benar.



Monitor

CPU



Keyboard

Mouse



Microphone

Speaker



Headphones

Webcam

