



Lembar Kerja Peserta Didik

LKPD

BANGUN RUANG

Nama: _____

Kelas: _____



CAPAIAN PEMBELAJARAN

- Peserta didik mampu menganalisis sifat-sifat bangun ruang sisi datar dan sisi lengkung berdasarkan bentuk, jaring-jaring, serta unsur-unsurnya.
- Peserta didik mampu menyelesaikan masalah yang berkaitan dengan identifikasi dan karakteristik bangun ruang melalui representasi visual dan simbolik.

Indikator Pembelajaran

- Peserta didik mampu Menganalisis nama bangun ruang berdasarkan gambar visual yang ditampilkan.
- Peserta didik mampu Menganalisis unsur-unsur bangun ruang (sisi, rusuk, titik sudut) berdasarkan bentuk geometri yang diberikan.
- Peserta didik mampu menganalisis jaring-jaring bangun ruang dan mencocokkannya dengan bentuk bangun ruang yang sesuai.
- peserta didik mampu menganalisis dan menemukan istilah nama-nama bangun ruang dalam permainan teka-teki kata atau word search.

Tujuan Pembelajaran

- Peserta didik dapat menganalisis dan menentukan nama bangun ruang berdasarkan gambar.
- Peserta didik dapat menganalisis jumlah sisi, rusuk, dan titik sudut bangun ruang secara tepat.
- Peserta didik dapat menganalisis jaring-jaring bangun ruang dan mencocokkannya dengan bangun ruang yang sesuai.
- Peserta didik dapat menganalisis dan menemukan kosakata yang berkaitan dengan nama bangun ruang secara tepat.

Ayo Belajar!




Perhatikan video dibawah ini!

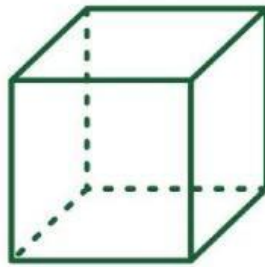


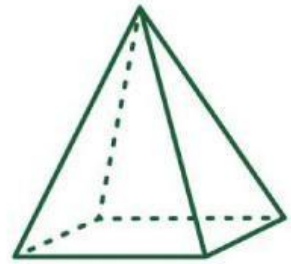
Ayo Berlatih!



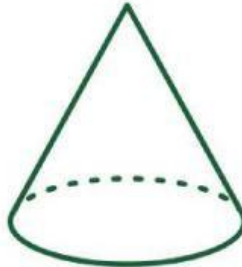
Perhatikan gambar, lalu tentukan nama bangun tersebut.



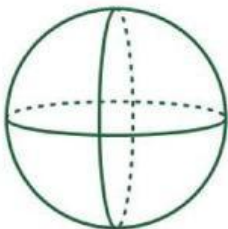


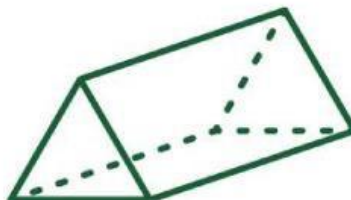











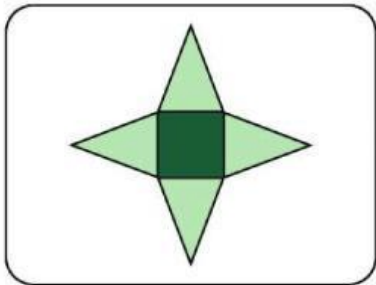




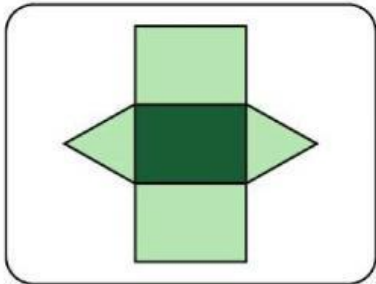
Ayo Berlatih!



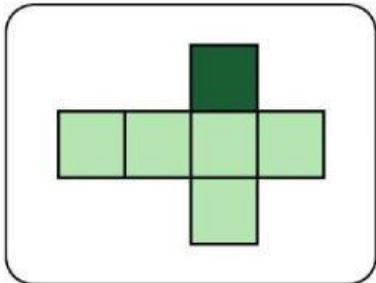
Hubungkan jaring-jaring bangun ruang dengan namanya!



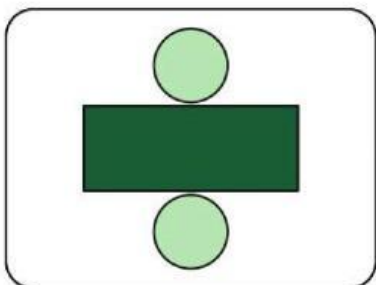
Kubus



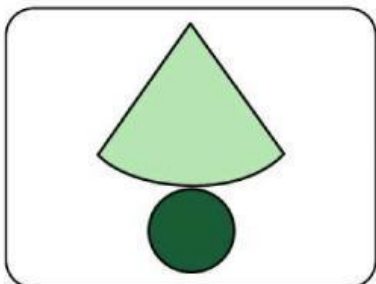
Kerucut



Limas



Prisma



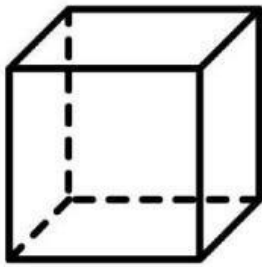
Tabung

Ayo Berlatih!



Hitunglah banyak rusuk, sisi, dan titik sudut bangun ruang berikut!

1.

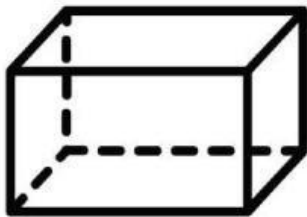


Banyak Sisi :

Banyak Rusuk :

Banyak Titik Sudut :

2.



Banyak Sisi :

Banyak Rusuk :

Banyak Titik Sudut :

3.




Banyak Sisi :

Banyak Rusuk :

Banyak Titik Sudut :

4.




Banyak Sisi :

Banyak Rusuk :

Banyak Titik Sudut :

5.



Banyak Sisi :

Banyak Rusuk :

Banyak Titik Sudut :

Ayo Berlatih!



Temukan kata yang termasuk dalam nama bangun ruang!

A	K	T	A	B	U	N	G	K	R	E	A	S
C	E	R	R	O	S	G	K	O	N	G	S	K
P	R	I	S	M	A	S	N	A	L	T	S	B
U	U	S	S	H	A	L	U	S	K	W	L	A
U	C	S	U	S	K	E	S	I	O	L	U	L
P	U	I	P	S	U	I	L	S	R	A	U	O
S	T	L	U	M	B	T	A	L	S	M	T	K
Y	W	C	B	E	U	N	W	Z	I	B	A	K
L	I	M	A	S	S	E	G	I	T	I	G	A
K	S	L	E	N	S	A	M	A	S	A	G	D
S	E	L	K	W	E	E	C	U	T	G	F	G
J	U	U	J	M	Y	Y	D	B	O	L	A	J
K	S	L	I	M	A	S	M	S	T	A	N	M

GOOD LUCK!