


## FICHA INTERACTIVA MATEMÁTICA– 2°

### Resuelve cuadernillo de matemática pag. 77 y 78

1. Lola tiene muchas ovejas. ¿Cuántas ovejas tiene?



- a. ¿Cuántos grupos de 10 ovejas hay?

Hay  grupos.

- b. ¿Cuántas ovejas quedaron sin agrupar?

oveja.

- c. Pinta la cantidad de ovejas que tiene Lola.

1	2	3	4	5	6	7	8	9	10
11	12	13	14	15	16	17	18	19	20
21	22	23	24	25	26	27	28	29	30
31	32	33	34	35	36	37	38	39	40
41	42	43	44	45	46	47	48	49	50



2. Paty prepara chocotejas y las coloca en bolsitas de 10 chocotejas cada una. ¿Cuántas chocotejas preparó?



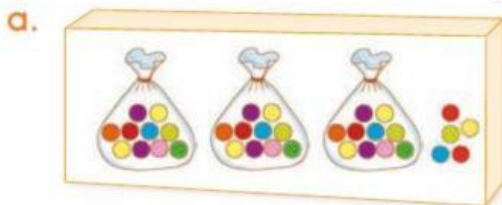
a. ¿Cuántas decenas de chocotejas hay en total?

Hay  decenas.

b. ¿Cuántas chocotejas hay?

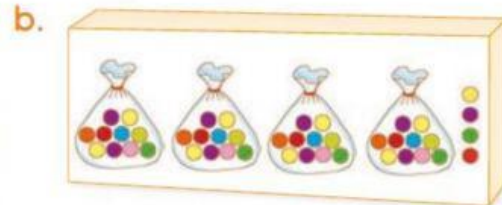
Hay  chocotejas.

3. Paco guardó sus canicas en dos cajas. ¿Cuántas canicas tiene en cada caja? Cuenta y completa.



• Hay  decenas y  unidades.

• Hay  en total.



• Hay  decenas y  unidades.

• Hay  en total.

4. Cuenta la cantidad de semillas que trae cada bolsita. Luego dibuja las que faltan para completar una decena en cada bolsita.

