

KURIKULUM MERDEKA

# LEMBAR KERJA PESERTA DIDIK



NAMA : \_\_\_\_\_

KELAS : \_\_\_\_\_


 LIVEWORKSHEETS

# LKPD TATA SURYA


PERHATIKAN VIDEO BERIKUT INI



PERHATIKAN MATERI PRESENTASI BERIKUT



MATERI

LIVEWORKSHEETS



# LKPD

## TATA SURYA

1

### TEXT FIELD

Planet yang memiliki cincin yang sangat samar dan hampir tidak terlihat adalah...

2

### SINGLE CHOICE

Planet yang dikenal sebagai "Planet Merah" karena permukaannya yang berwarna kemerahan adalah:

3

### CHECK BOXES

berilah ceklis yang sesuai dengan pernyataan tentang tata surya

1. Matahari adalah pusat dari sistem tata surya

☐

2. Mars adalah planet yang memiliki bulan terbanyak di Sistem Tata Surya

☐

3. Saturnus memiliki cincin yang sangat indah di system tata surya

☐

4. Neptunus adalah planet terdekat dengan matahari

☐

# LKPD

## TATA SURYA

4

### SELECT

Apakah planet terbesar dalam tata surya?

☐

JUPITER

☐

SATURNUS

☐

URANUS

5

### OPEN ANSWER

Apakah planet terkecil dalam tata surya?

6

### WORD SEARCH

temukan nama-nama planet yang ada pada kotak dibawah ini

M	E	R	K	U	R	I	U	S	I	A
A	H	C	D	G	H	M	E	E	N	B
R	K	M	V	E	N	U	S	J	H	R
S	W	E	D	I	A	B	A	N	N	T
R	A	M	B	Y	U	U	K	O	E	K
R	T	T	S	I	N	G	A	R	P	W
R	E	J	U	P	I	T	E	R	T	U
R	M	A	N	R	A	N	I	M	U	P
R	J	L	A	M	N	G	L	K	N	W
R	S	A	R	H	P	U	D	L	U	F
R	A	M	U	U	P	M	S	O	S	G




# LKPD

# TATA SURYA

7

## SPEAK


Rekam suaramu untuk menyebutkan nama planet berikut dengan cara menekan tombol rekam



8

## LISTENING

Dengarkan suara berikut dan tuliskan jawabannya



9

## DRAG AND DROP

Lengkapilah nama planet berikut dengan gambar yang sesuai



SATURNUS



BUMI



VENUS

# LKPD

## TATA SURYA

10

### JOIN

Tentukan pasangan nama-nama planet yang sesuai



MARS



URANUS



SATURNUS



BUMI



VENUS