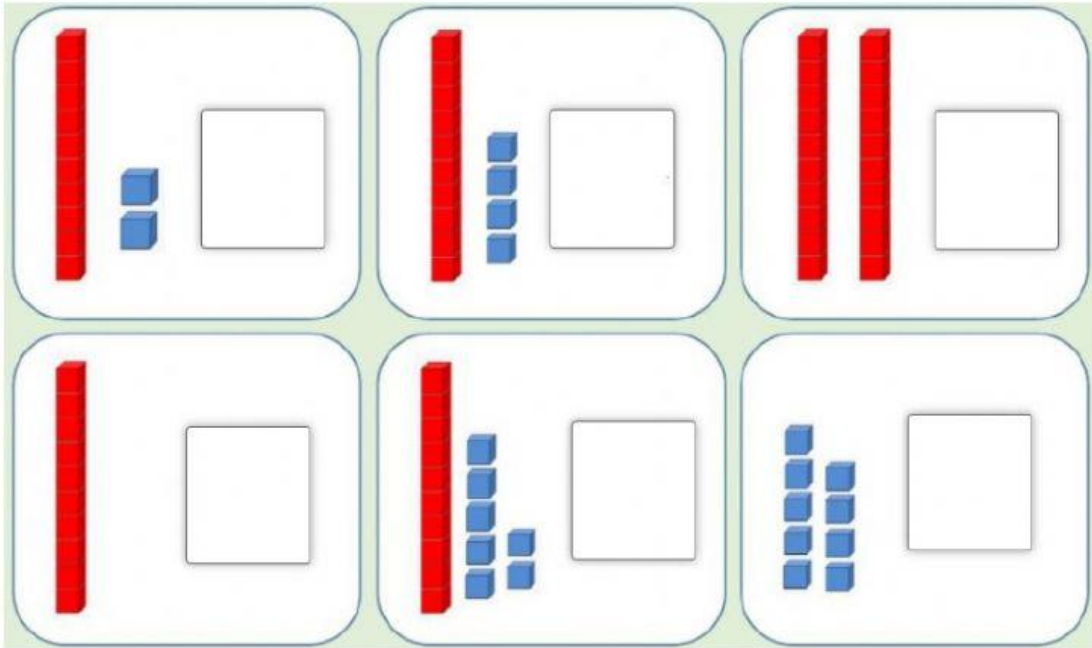
 PRESTON SCHOOL <i>Always the truth</i>	IEA MATEMÁTICA EVALUACION DIAGNOSTICA Números hasta el 20	Date:	Time:
	Junior Department Student: Miss: Julianna Mardones Cerna / Marcia Rubilar Seguel	Ideal Score (30% Nota 1)	Score gotten


1.- Escribe qué número está representado.



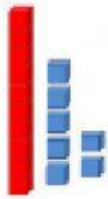
2. Escribe como se leen los siguientes números.

11	<input type="text"/>
14	<input type="text"/>
16	<input type="text"/>

3. Descompone los siguientes números.



$$\begin{array}{r} \square \\ \square \end{array} + \begin{array}{r} \square \\ \square \end{array}$$
$$\begin{array}{r} \square \\ \square \end{array} \text{ D} + \begin{array}{r} \square \\ \square \end{array} \text{ U}$$



$$\begin{array}{r} \square \\ \square \end{array} + \begin{array}{r} \square \\ \square \end{array}$$
$$\begin{array}{r} \square \\ \square \end{array} \text{ D} + \begin{array}{r} \square \\ \square \end{array} \text{ U}$$

4. Ordena las cantidades de menor a mayor.

15 13 9 5 16 11

○ < ○ < ○ < ○ < ○ < ○