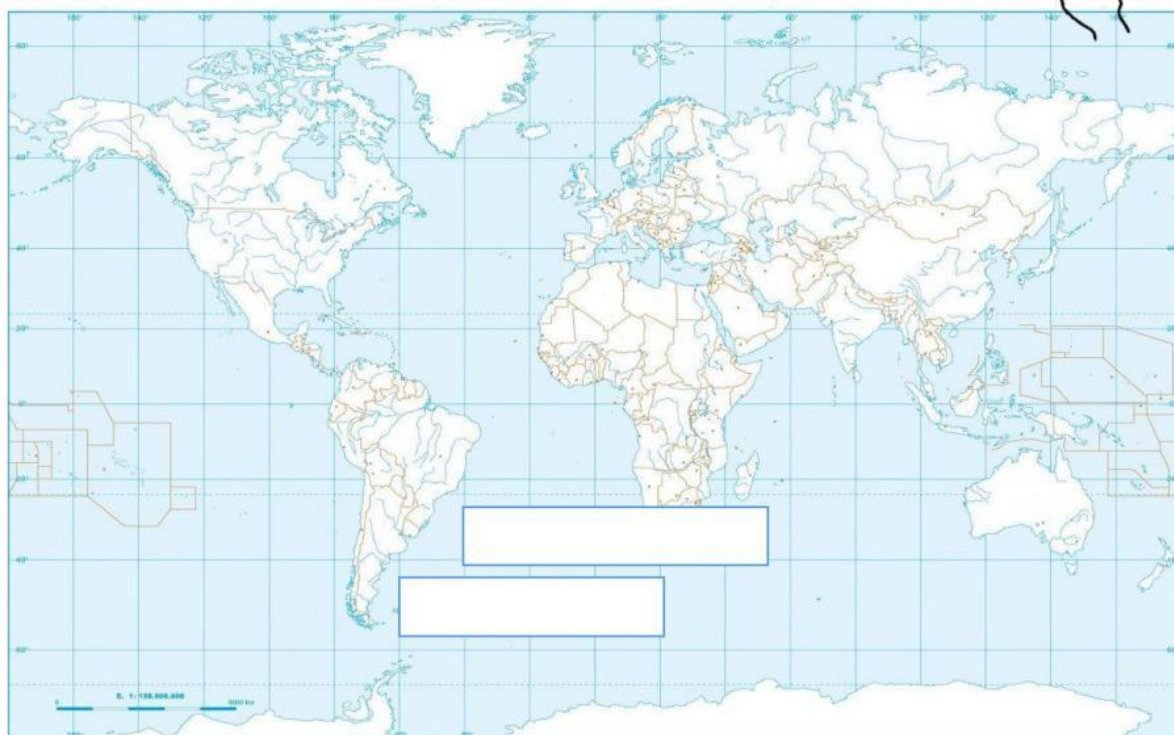


**MATI A PRESTAR ATENCIÓN A LAS CONSIGNAS**

**1- UBICA ARRASTRANDO LOS NOMBRES DEL OCÉANO Y MAR DONDE CORRESPONDAN EN EL MAPA**

**OCÉANO ATLÁNTICO**

**MAR ARGENTINO**

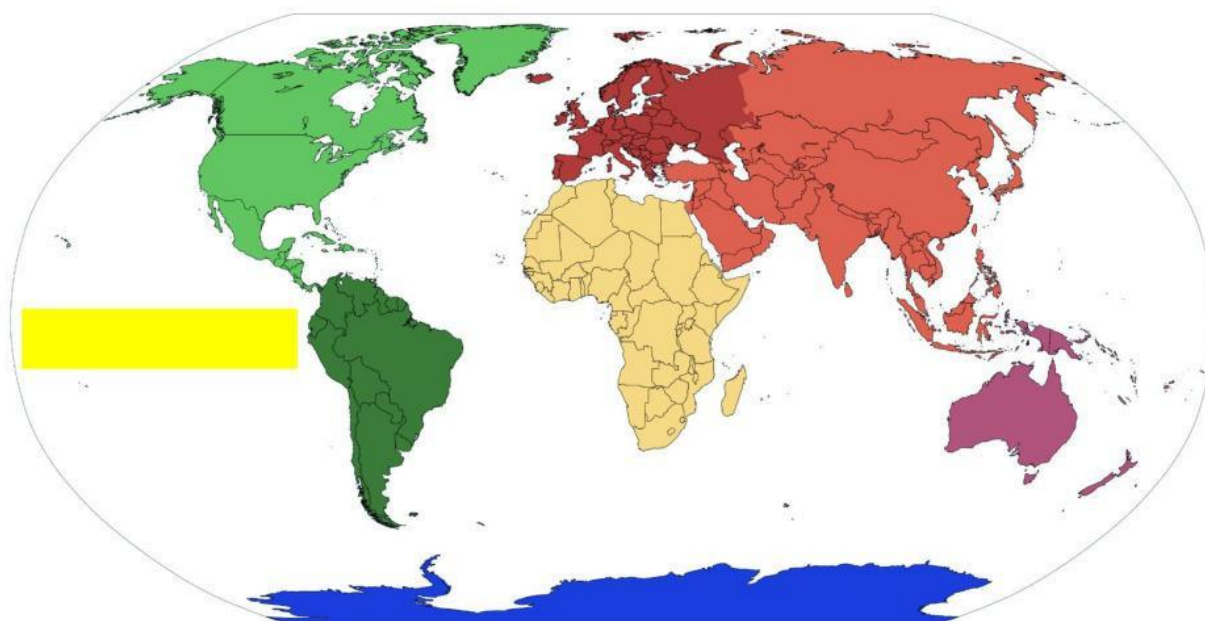


**2- ¿CÓMO SE LLAMA EL CONTINENTE DONDE SE ENCUENTRA TU PAÍS?**

**ARRASTRA EL NOMBRE CORRECTO HASTA EL MAPA**

**AFRICANO**

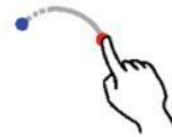
**AMERICANO**



3- ¿CÓMO SE LLAMA TU PAÍS? ELIGE ENTRE LAS OPCIONES



4- ¿CÓMO SE LLAMA TU PROVINCIA? ELIGE ENTRE LAS OPCIONES Y ARRASTRA HASTA EL MAPA SU NOMBRE



SAN LUIS

BUENOS AIRES



CÓRDOBA

LA RIOJA

5- UNÍ CON UNA FLECHA EL NOMBRE DEL DEPARTAMENTO QUE LE CORRESPONDE A TU CIUDAD



○ UNIÓN

○ GENERAL SAN MARTÍN

○ JUÁREZ CELMAN