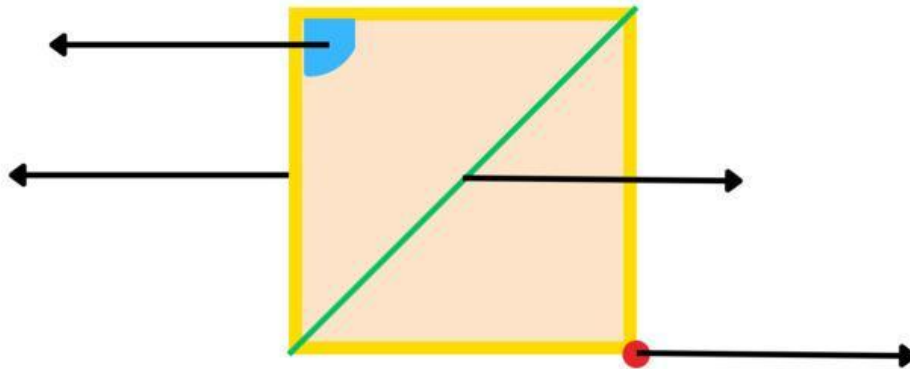



## Examen Geometría II

1. Completa el siguiente dibujo.

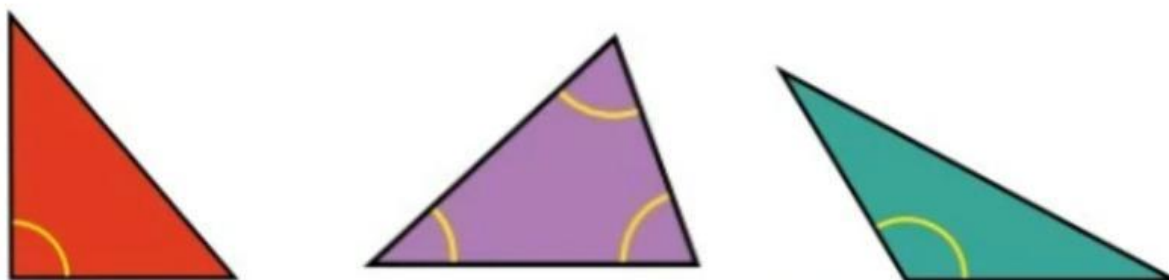


2. Clasifica los siguientes polígonos.

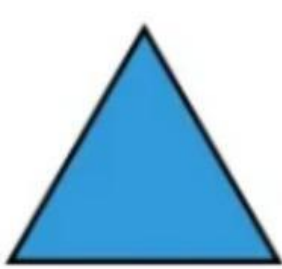


3. Clasifica las siguientes figuras en el grupo correcto.



| Clasificación de los triángulos según sus ángulos |             |            |
|---|-------------|------------|
| Acutángulo  | Obtusángulo | Rectángulo |



| Clasificación de los triángulos según sus lados |            |          |
|---|------------|----------|
| Isósceles                                       | Equilátero | Escaleno |





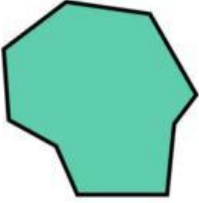
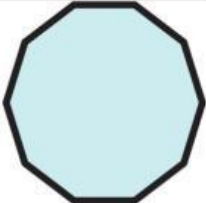
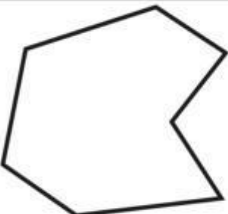

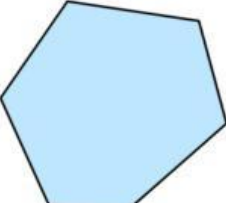

| Clasificación de los cuadriláteros paralelogramos |       |            |          |
|---|-------|------------|----------|
| Cuadrado  | Rombo | Rectángulo | Romboide |



| Clasificación de los cuadriláteros no paralelogramos |            |
|--|------------|
| Trapezio   | Trapezoide |



#### 4. Completa la siguiente tabla.

| Dibujo  | Nombre | Regu / Irre | Lados | Vértices | Ángulos |
|---|--------|-------------|-------|----------|---------|
|    |        |             |       |          |         |
|    |        |             |       |          |         |
|    |        |             |       |          |         |
|   |        |             |       |          |         |
|  |        |             |       |          |         |
|  |        |             |       |          |         |
|  |        |             |       |          |         |
|  |        |             |       |          |         |

5. Completa el siguiente dibujo.

