



Escuela Rogelio Fernández G.

TAREA N.º 2 DE CIENCIAS

3-3 1º SEMESTRE 2025

FECHA DE ASIGNACIÓN: 23/05/2025

FECHA DE ENTREGA: 30/05/2025

NOMBRE DEL ALUMNO: _____

Habilidades específicas: Clasifica los alimentos de acuerdo con su valor nutritivo de los alimentos. Reconoce la importancia de incluir alimentos que favorecen el cuidado de la salud y benefician la digestión de las personas.

Indicaciones:

1. Conteste la siguiente práctica dada con base en la materia estudiada en clase.
2. La tarea debe ser respondida por el estudiante.

Puntuación: 10 puntos

Puntos Obtenidos:

Calificación:

Conteste los siguientes ejercicios que se le dan a continuación:


1. Marque los alimentos que son saludables para nuestro sistema digestivo. (4pts)



magdalena



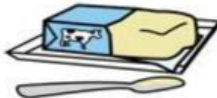
macarrones



leche



lechuga



mantequilla



pescado



galletas




lata de atún



pan



2. Seleccione cuál es un alimento saludable y cual no es saludable. (2 pts)




La manzana es un alimento



El helado es un alimento

3. ¿Cuál imagen corresponde a la forma de higiene, lavado de manos? (2 pts)





4. Arrastro los alimentos para crear un menú saludable para un niño o niña. (2 pts)



Almuerzo

