

AVALIAÇÃO DIAGNÓSTICA – LÍNGUA PORTUGUESA

ALUNO(a): _____

TURMA: _____ PROFESSOR(A): _____

QUESTÃO 1

ESCREVA SEU NOME:

QUESTÃO 2

CIRCULE A PLACA QUE TEM APENAS LETRAS:



QUESTÃO 3

COMPLETE O ALFABETO:


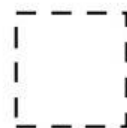

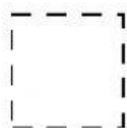

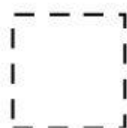
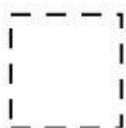
A B D F G I

K M O P S

U W Y Z

QUESTÃO 4

ESCREVA A LETRA INICIAL DAS FIGURAS ABAIXO:



QUESTÃO 5

MARQUE UM X ONDE ESTÁ ESCRITA A PALAVRA EM DESTAQUE:

CAVALO

☐ lamada

☐ cavale

☐ cidade

☐ buraco

☐ macaco

QUESTÃO 6


CIRCULE OS NOMBES DAS FIGURAS:



BOLA

BOLO

COPO



FEIXE

DADO

PEIXE



SACO

SUCO

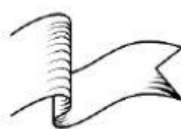
PULO



PATO

PINO

BATO



FITA

BICA

FACA



CAPA

COLA

BOLA

QUESTÃO 7

QUANTAS SÍLABAS TEM A FIGURA ABAIXO:



QUESTÃO 8

QUAL FRASE ESTÁ ESCRITA CORRETAMENTE?

- ☐ PAULA CAIUNO MEIO DARUA.
- ☐ PAULACAIUNOMEIODARUA.
- ☐ PAULA CAIU NO MEIO DA RUA.



QUESTÃO 9

QUAL FRASE REPRESENTA A CENA?

- ☐ O MENINO ESTÁ COM FOME.
- ☐ O MENINO FOI AO MÉDICO.
- ☐ O MENINO PULOU NA CAMA.



QUESTÃO 10

LEIA O TEXTO E RESPONDA:

O PATO DE EDU

DONA NINA DEU UM PATO AO SEU NETO EDU.

EDU VIU A AVE E DISSE:

— VOVÓ, O PATO É TÃO BONITO! ELE SABE NADAR?

— SIM, EDU, ELE NADA MUITO BEM!



Graça Boquet

O QUE EDU PERGUNTOU PARA SUA VOVÓ?

- ☐ ONDE ELA TINHA COMPRADO O PATO.
- ☐ SE O PATO SABIA NADAR.
- ☐ QUAL ERA A COR DO PATO.

QUESTÃO 11

ESCREVA OS NOMES DAS FIGURAS:



QUESTÃO 12

OBSERVE A CENA E ESCREVA UMA FRASE:




AVALIAÇÃO DIAGNÓSTICA – MATEMÁTICA

ALUNO(a): _____

TURMA: _____ PROFESSOR(A): _____

QUESTÃO 1

ESCREVA A QUANTIDADE DE BORBOLETAS ABAIXO:



QUESTÃO 2

RESOLVA AS CONTINHAS:

$$\begin{array}{cccc} 5 + 7 = & 2 + 3 = & 9 - 2 = & 7 - 0 = \\ 4 + 3 = & 8 + 1 = & 6 - 4 = & 5 - 5 = \end{array}$$

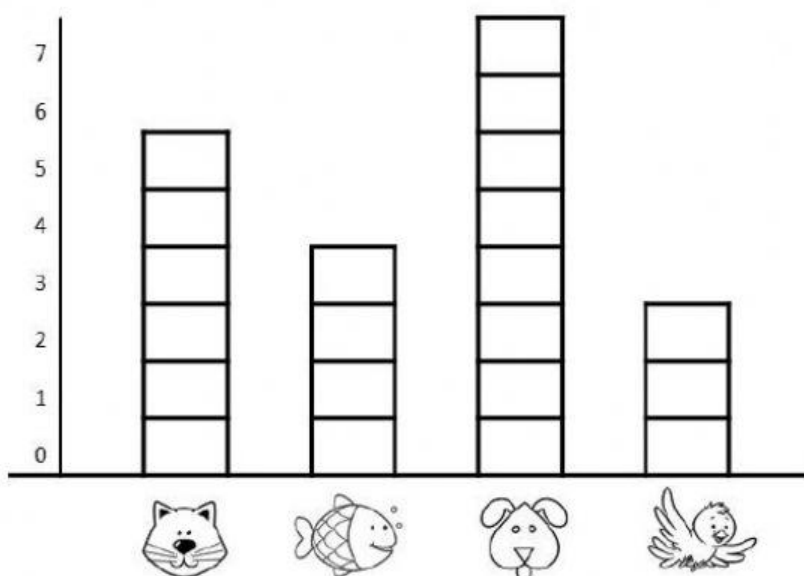
QUESTÃO 3

ESCREVA O ANTECESSOR E SUCESSOR DE CADA NÚMERO:



QUESTÃO 4

OBSERVE O GRÁFICO DE ANIMAIS DE ESTIMAÇÃO PREFERIDOS DOS ALUNOS DO 3º ANO:



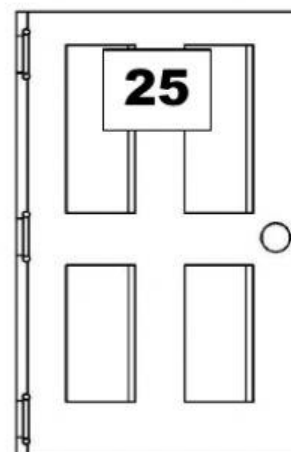
QUAL ANIMAL RECEBEU MAIS VOTOS?

- ☐ GATO ☐ CACHORRO
- ☐ PEIXE. ☐ PASSARINHO

QUESTÃO 5

QUAL NÚMERO ESTÁ NA PORTA?

- ☐ DOIS E CINCO
- ☐ TRINTA E CINCO
- ☐ CINQUENTA E DOIS
- ☐ VINTE E CINCO



QUESTÃO 6


ORGANIZE OS NÚMEROS EM ORDEM CRESCENTE:

45	12	67	29	8	56	93	31	2
----	----	----	----	---	----	----	----	---

--	--	--	--	--	--	--	--	--

QUESTÃO 7

RITA TINHA 10 LÁPIS MAS PERDEU 3 NA ESCOLA. QUANTOS SOBRARAM?



QUESTÃO 8

PEDRO TEM 8 CARRINHOS E RICARDO TEM 6. JUNTOS ELES TEM QUANTOS CARRINHOS?



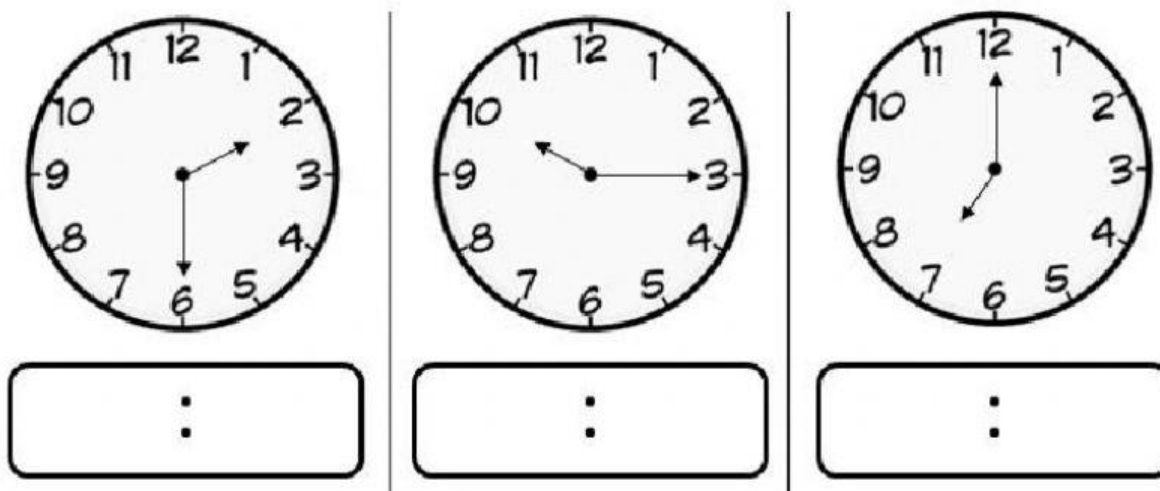
QUESTÃO 9

COMPLETE A SEQUÊNCIA:



QUESTÃO 10

REGISTRE A HORA INDICADA EM CADA RELÓGIO:



QUESTÃO 11

COMPLETE A SEQUÊNCIA DE NÚMEROS:

0	5	10	15						
---	---	----	----	--	--	--	--	--	--

QUESTÃO 12

QUANTO DINHEIRO JÚLIA GANHOU DE SUA AVÓ?



☐ 10 REAIS

☐ 12 REAIS

☐ 16 REAIS

☐ 2 REAIS

QUESTÃO 13

EM CADA CASA DESSA RUA MORAM 4 PESSOAS. QUANTAS PESSOAS MORAM NO TOTAL NESSA RUA?



☐ 4 ☐ 10 ☐ 5 ☐ 20

QUESTÃO 13

RESOLVA:

$$\begin{array}{r} 86 \\ +12 \\ \hline \end{array} \quad \begin{array}{r} 27 \\ +10 \\ \hline \end{array} \quad \begin{array}{r} 67 \\ -45 \\ \hline \end{array} \quad \begin{array}{r} 45 \\ -23 \\ \hline \end{array}$$