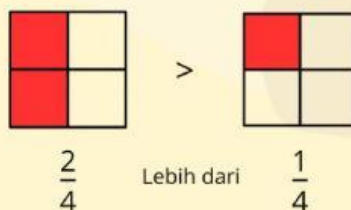


PERBANDINGAN PECAHAN

Tujuan Pembelajaran

- Peserta didik diharapkan dapat membandingkan dan mengurutkan pecahan.
- Peserta didik diharapkan dapat menentukan nilai pecahan.
- Peserta didik diharapkan dapat membandingkan dua pecahan.
- Peserta didik diharapkan dapat mengetahui perbandingan dua pecahan dengan pembilang sama.

Coba perhatikan aku



**Kalau kurang jelas
simak aku ya**

Latihan Soal

I. Jawablah pertanyaan dibawah ini dengan benar!

Besar manakah bilangan pecahan dibawah ini?

Berilah tanda $< / >$

1. $\frac{1}{6}$

.....

$\frac{5}{6}$

2. $\frac{4}{15}$

.....

$\frac{9}{15}$

3. $\frac{7}{12}$

.....

$\frac{9}{12}$

4. $\frac{8}{9}$

.....

$\frac{4}{9}$


5. $\frac{3}{7}$

.....

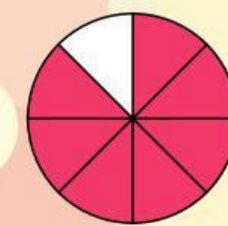
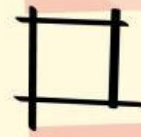
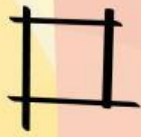
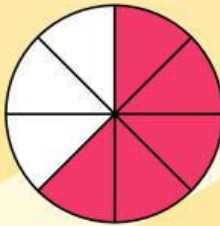
$\frac{5}{7}$

II. Berilah tanda ✓ pada gambar pecahan yang lebih besar!

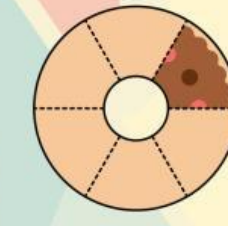
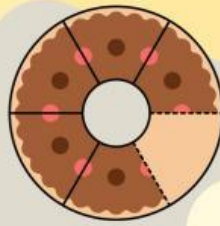
1.



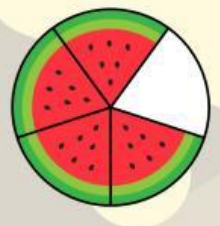
2.



3.



4.



5.

