

### Ayo Mencocokkan





Perhatikan kegiatan pengukuran beserta beberapa alat ukur panjang berikut ini!

Hubungkan gambar yang sedang di ukur dengan alat ukur yang di gunakan!



### Ayo mengamati

Tuliskan kembali nama setiap alat ukur panjang beserta satuannya pada tabel berikut!

No.	Gambar Alat	Nama alat ukur	Satuan
1.		.....	.....
2.		.....	.....
3.		.....	.....
4.		.....	.....



## Ayo Berlatih

1. Lengkapi ukuran panjang dalam sentimeter(cm) atau meter (m) berikut ini!

90 cm

=

..... m

..... cm

=

3 m

10 m

=

..... cm

2. Seorang penjaga toko memiliki kain katun 75 m dan 80 cm. Jika ia menjual 38 m 45 cm kain katun itu, berapa cm kain yang anak di jual?





---

3. Eri memiliki tinggi badan 115 cm. Berapa m tinggi dadannya?

4. Seorang penjaga toko memiliki kain katun 70 cm. Jika dia menjual 30 cm kain katun. Berapakah sisa kain yang akan di jual?

5. Paman mutia memiliki kebun jagung di belakang rumah sepanjang 5000 cm. Berapa pajang kebun jagung milik paman mutia jika di hitung dalam satuan meter(m)?



## Mari Mencocokkan

1. Hubungkan gambar di bawah sesuai dengan yang di timbang dan alat yang digunakan.
2. Tarik garis sesuai titik dan hubungkan dengan gambar yang benar.

6 Pengukuran Panjang dan Berat LIVEWORKSHEETS

## Ayo Berlatih

1. Lengkapi nama alat ukur dan satuan baku pada tabel berikut ini!

No.	Bagian yang diukur	Nama alat ukur	Satuan
1.		.....	.....
2.		.....	.....
3.		.....	.....
4.		.....	.....
5.		.....	.....



## Mari Mencocokkan

1. Hubungkan gambar di bawah sesuai dengan yang di timbang dan alat yang digunakan.
2. Tarik garis sesuai titik dan hubungkan dengan gambar yang benar.

6 Pengukuran Panjang dan Berat

LIVEWORKSHEETS

4. Tentukan berat anggur pada timbangan dengan mencocokkan timbangan dan jumlah beratnya!

The worksheet contains four scales with grape piles and their corresponding weight labels:

- Scale 1: 1000 g label, 3000 kg option
- Scale 2: 2 kg label, 1 kg option
- Scale 3: 3 kg label, 2000 g option
- Scale 4: 4000 label, 1 kg option

At the bottom left, there is a logo with the number 8 and the text "Pengukuran Panjang dan Berat". At the bottom right, there is a logo with the text "LIVEWORKSHEETS".