


Lembar Kerja Peserta Didik

LKPD

Tema Matematika Dasar

RASIO (PERBANDINGAN)

★ Nama: ★
★ Kelas : ★






CAPAIAN PEMBELAJARAN

Peserta didik mampu memahami konsep rasio dan proporsi serta menggunakannya dalam menyelesaikan masalah kontekstual yang berkaitan dengan kehidupan sehari-hari.

TUJUAN PEMBELAJARAN




- **Menentukan rasio dari gambar benda nyata.**
- **Menentukan rasio dari bangun datar berdasarkan soal cerita.**
- **Menyelesaikan soal cerita yang melibatkan perbandingan rasio dalam kehidupan sehari-hari.**



**KLIK LINK DI BAWAH INI UNTUK
MELIHAT VIDIO PENJELASAN**

Ayo kita belajar!



HITUNG DAN TULIS JAWABAN MU!

Jika perbandingan umur ayah dan anak adalah 4 : 1 dan umur anak 10 tahun, berapa umur ayah?

Jawaban: _____ tahun

(Fitur: Short Answer / Numerical Input)

SESUAIKAN DENGAN JAWABAN YANG BENAR

PERNYATAAN

Aldi memiliki 12 kelereng biru dan 18 kelereng merah

1

Aldi memiliki 12 kelereng biru dari total 30 kelereng

2

kelereng merah terhadap total kelereng

3

RASIO

1

A. 2:3 (match)

2

B. 2:5 (match)

3

C. 3:5 (match)