



Lembar Kerja Peserta Didik

LKPD

SIFAT-SIFAT BANGUN DATAR

Nama Kelompok:

Nama Anggota Kelompok:



SIFAT-SIFAT BANGUN DATAR

Petunjuk :


1. Cermatilah dengan teman sekelompokmu gambar dan sifat-sifat bangun datar yang ada pada LKPD
2. Diskusikanlah sifat-sifat pada setiap bangun datar
4. Drag and drop sifat-sifat bangun datar yang paling sesuai pada kotak yang telah disediakan



Nama bangun:



Nama bangun:



Nama bangun:



- Memiliki 4 sisi
- Memiliki 4 titik sudut
- Seluruh sudutnya berbentuk siku-siku
- Seluruh sisinya sama panjang
- Memiliki 2 pasang sisi yang sejajar

- Memiliki 4 sisi
- Memiliki 4 titik sudut
- Seluruh sudutnya berbentuk siku-siku
- Panjang sisi yang berhadapan sama panjang dan sejajar
- Memiliki 2 pasang sisi yang sejajar

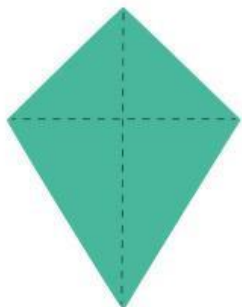
- Memiliki 4 sisi
- Memiliki 4 titik sudut
- Sudut yang berhadapan sama besar
- Panjang sisi yang berhadapan sejajar dan sama panjang
- Memiliki 2 pasang sisi yang sejajar



SIFAT-SIFAT BANGUN DATAR



Nama bangun:



Nama bangun:



Nama bangun:



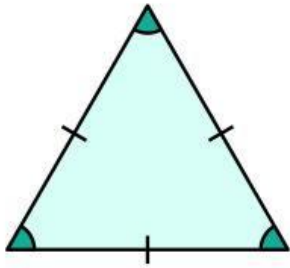
- Memiliki 4 sisi
- Memiliki 4 titik sudut
- Memiliki 2 pasang sudut yang sama besar
- Memiliki satu pasang sisi yang sama panjang
- Memiliki satu pasang sisi yang sejajar

- Memiliki 4 sisi
- Memiliki 4 titik sudut
- Memiliki satu pasang sudut yang sama besar
- Memiliki 2 pasang sisi yang sama panjang

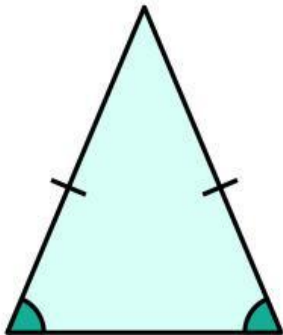
- Memiliki 4 sisi
- Memiliki 4 titik sudut
- Sudut yang berhadapan sama besar
- Seluruh sisinya sama panjang
- Memiliki 2 pasang sisi yang sejajar



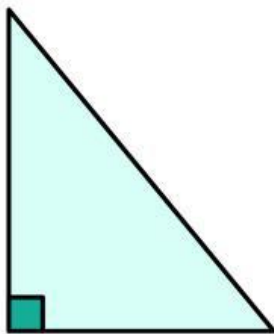
SIFAT-SIFAT BANGUN DATAR



Segitiga Sama Sisi



Segitiga Sama Kaki



Segitiga Siku-Siku



- Memiliki 3 sisi
- Memiliki 3 titik sudut
- Memiliki 2 sudut yang sama besar
- Memiliki 2 sisi yang sama panjang

- Memiliki 3 sisi
- Memiliki 3 titik sudut
- Seluruh sudutnya sama besar
- Seluruh sisinya sama panjang

- Memiliki 3 sisi
- Memiliki 3 titik sudut
- Salah satu sudutnya berbentuk siku-siku

