


LKPD

Matematika

Tema: Mengenal Pecahan

Nama: _____ Kelas: _____




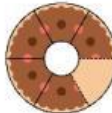
PECAHAN

NAMA :



KELAS :



SOAL PECAHAN ITU MUDAH!

 -  = $\frac{5}{6}$



- 1 Budi mempunyai 10 permen. Ia memutuskan untuk berbagi setengah bagian dengan adiknya. Berapa permen yang diberikan Budi?

 -  =

- 2 Andi memiliki 12 potong coklat. Andi meminta Joko mengambil $\frac{1}{2}$ dari coklat tersebut. Berapa coklat yang harus diambil Joko?


 -  =

- 3 Ibu membuat 8 potong pizza. Ibu memberikan $\frac{1}{4}$ dari pizza tersebut kepada Siti. Berapa potong pizza yang diberikan Ibu kepada Siti?

 -  =

Pecahan Biasa

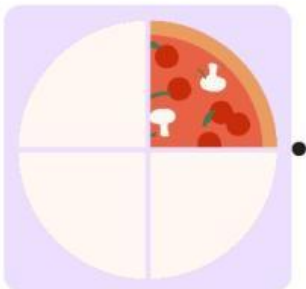
Hubungkan gambar sisa potongan pizza dengan pecahan yang tepat.




• $\frac{1}{1}$




• $\frac{3}{4}$



• $\frac{1}{2}$



• $\frac{5}{6}$



• $\frac{1}{4}$