

1. Suatu tumbuhan memiliki bunga yaitu kuncup. Ketika waktunya, bunga tersebut memecarkan mahkota bunganya.  
Ciri-ciri makhluk hidup yang dilakukan oleh tumbuhan tersebut adalah ....  
A. Bernapas  
B. Berkembang biak  
C. iritabilitas  
D. bergerak
2. Berikut ini yang merupakan tujuan makhluk hidup beradaptasi adalah ....  
A. Proses seleksi alam terhadap makhluk hidup  
B. Melestarikan jenis makhluk hidup  
C. Berkembangbiak  
D. Mempertahankan hidup
3. Zat yang diperlukan tumbuhan hijau untuk membuat makanannya sendiri adalah ....  
A. Oksigen dan karbon dioksida  
B. Karbon dioksida dan air  
C. oksigen dan air  
D. karbon dioksida dan zat gula
4. Perhatikan gambar berikut ini!



- Ciri makhluk hidup yang dilakukan oleh hewan pada gambar adalah ....
  - Iritabilitas
  - Memerlukan makanan
  - ekskresi
  - tumbuh
- Cara berkembangbiak pada makhluk hidup ada yang secara generative (kawin) dan vegetative (tak kawin). Cara berkembangbiak berikut yang dilakukan secara generative adalah ....
  - Bertelur dan beranak
  - Bertelur dan membentuk spora
  - bertelur dan membelah diri
  - membelah diri dan membentuk spora
- Penebangan hutan yang berlebihan akan mengakibatkan ....
  - Tanah longsor
  - Tanah subur
  - pendangkalan danau
  - gempa bumi
- Pemanasan global akan semakin parah jika terjadi peningkatan ....
  - Ketebalan ozon
  - Jumlah partikel di udara
  - awan diudara
  - CO<sub>2</sub> di udara
- Cara memusnahkan sampah yang paling menguntungkan adalah ....
  - Ditanam
  - Dihanyutkan
  - didaur ulang
  - dibakar

9. Tindakan berikut yang dapat dilakukan agar tanah tetap subur adalah ....

- A. Memberi pupuk urea setiap hari
- B. Membasmi rayap dengan minyak tanah
- C. Tidak menumbun sampah dari logam, plastic dan kaca
- D. Tanah ditutup dengan plastik

10. Agar tidak terjadinya banjir yang berlebihan kita harus ....

- A. Menebang pohon
- B. Menggusur hutan
- C. memelihara hutan
- D. membakar hutan

11. Perhatikan jenis-jenis komponen biotik dan abiotik berikut ini!

- |             |              |
|-------------|--------------|
| 1. Belalang | 6. padi      |
| 2. Keong    | 7. elang     |
| 3. Tanah    | 8. tikus     |
| 4. Air      | 9. katak     |
| 5. Rumput   | 10. serangga |

Komponen-komponen diatas biasanya dijumpai di ....

- A. Ekosistem laut
- B. Ekosistem padang rumput
- C. Ekosistem hutan
- D. Ekosistem sawah

12. Komponen yang termasuk dalam komponen biotik ialah....

- A. Ikan-belalang-air-tanah
- B. Ikan-sapi-belalang-katak
- C. tanah-ikan-sapi-udara
- D. katak-tanah-udara-air

13. Komponen yang termasuk dalam komponen abiotik ialah ....

- A. Udara-cahaya matahari-air-tanah
- B. Ikan-sapi-belalang-katak
- C. tanah-ikan-sapi-udara
- D. katak-tanah-udara-air

14. Gaya yang bekerja pada suatu benda menyebabkan benda berpindah tempat apabila ....

- A. Gaya yang bekerja lebih kecil dari gaya geseknya
- B. Gaya yang bekerja lebih besar dari gaya geseknya
- C. Gaya yang bekerja sama dengan gaya gesekannya
- D. Gaya yang bekerja tidak mempengaruhi gaya geseknya

15. Jordi berjalan ke arah timur sejauh 300 m, kemudian Kembali ke barat sejauh 60 m. jika waktu yang dibutuhkan Jordi 2 menit, besar kelajuan Jordi ialah ...

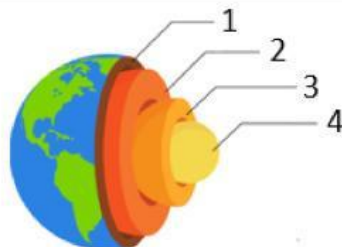
- A. 1 m/s
- B. 1,5 m/s
- C. 2 m/s
- D. 3 m/s

16. Jordi berjalan ke timur arah rumahnya Tiara sejauh 400 m, lalu berjalan lagi ke timur arah rumahnya Jhon sejauh 500 m. jarak perpindahan Jordi berjalan ialah ....

- A. 600 m
- B. 700 m
- C. 800 m
- D. 900 m

17. Kereta api melaju dengan kelajuan 72 km/jam. Jarak tempuh kereta api tersebut setelah 10 menit adalah ....
- A. 10.000 m                      B. 12.000 m                      C. 14.000 m                      D. 16.000 m
18. Salah satu hal yang dapat diketahui dengan mengelompokkan atau mengklasifikasikan makhluk hidup adalah ....
- A. Semakin sedikit perbedaan, akan semakin jauh kekerabatan  
B. Semakin banyak persamaan, akan semakin jauh kekerabatan  
C. Semakin banyak persamaan, akan semakin dekat kekerabatan  
D. Semakin banyak perbedaan, akan semakin dekat kekerabatan
19. Setiap makhluk hidup selalu menunjukkan gejala-gejala kehidupan, diantaranya memerlukan makanan. Fungsi makanan bagi makhluk hidup adalah ....
- A. Memerlukan gas oksigen  
B. Untuk bertumbuh dan perkembangan tubuh  
C. Memperoleh energi sebagai penunjang kegiatan hidup  
D. Sebagai proses evolusi
20. Tumbuhan hijau mendapatkan makanan dengan cara ....
- A. Melakukan fotosintesis  
B. mendapatkan dari makhluk hidup lain  
C. Menyerap zat-zat makanan dari dalam tanah  
D. menyerap zat-zat sisa dari makhluk hidup
21. Bentuk bumi yang lebih rendah dibandingkan dengan daerah di sekelilingnya adalah ....
- A. Cekung                              C. lembah  
B. Ngarai                              D. igir
22. Unsur dari bentang alam adalah ....
- A. Bukit dan lembah                      C. gunung dan dataran  
B. Dataran dan perairan                      D. kemiringan dan ketinggian

**Perhatikan gambar berikut ini untuk mengerjakan soal nomor 23 - 26!**



23. Bagian bumi yang disebut sebagai mantel bumi ditunjukkan nomor ....
- A. 1                              B. 2                              C. 3                              D. 4
24. Bagian bumi yang disebut sebagai kerak bumi ditunjukkan nomor ....
- A. 1                              B. 2                              C. 3                              D. 4
25. Bagian bumi yang disebut sebagai inti luar bumi ditunjukkan nomor ....
- A. 1                              B. 2                              C. 3                              D. 4
26. Bagian bumi yang disebut sebagai inti dalam bumi ditunjukkan nomor ....
- A. 1                              B. 2                              C. 3                              D. 4

27. Lapisan atmosfer nomor 1 menunjukkan lapisan ....

- A. Eksosfer
- B. Mesosfer
- C. termosfer
- D. troposfer

28. Lapisan atmosfer nomor 2 menunjukkan lapisan ....

- A. Eksosfer
- B. Mesosfer
- C. termosfer
- D. troposfer

29. Lapisan atmosfer nomor 3 menunjukkan lapisan ....

- A. Eksosfer
- B. Mesosfer
- C. termosfer
- D. troposfer

30. Lapisan atmosfer nomor 4 menunjukkan lapisan ....

- A. Stratosfer
- B. Mesosfer
- C. termosfer
- D. troposfer

31. Lapisan atmosfer nomor 5 menunjukkan lapisan ....

- A. stratosfer
- B. Mesosfer
- C. termosfer
- D. troposfer

32. Interaksi antara komunitas dengan benda yang tak hidup akan membentuk ....

- A. Populasi
- B. habitat
- C. biosfer
- D. ekosistem

33. Bakteri dan jamur adalah contoh dari organisme ....

- A. Detritivore
- B. dekomposer
- C. produsen
- D. konsumen

34. Perhatikan rantai makanan berikut!

Rumput – bekicot – burung – pengurai . jika bekicot diburu untuk bahan industri, yang akan terjadi adalah ....

- A. Jumlah rumput akan menurun
- B. Jumlah burung akan meningkat
- C. pengurai akan menurun
- D. jumlah burung menurun

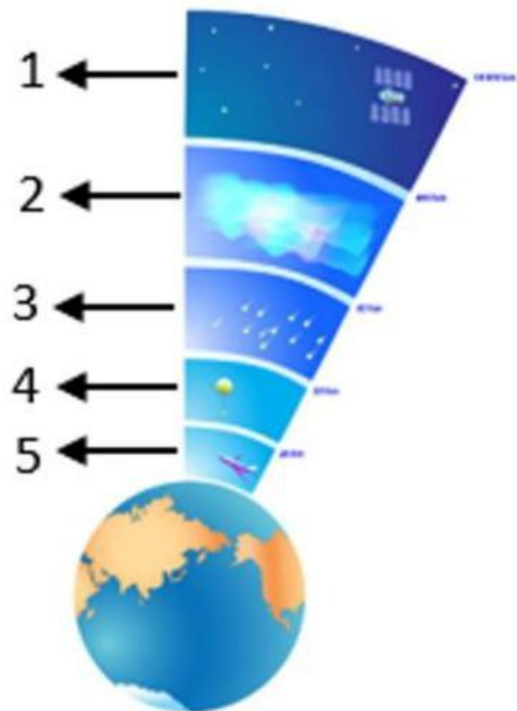
35. Berikut zat yang dapat menyebabkan pencemaran udara adalah ....

- A. Pestisida
- B. asap pabrik
- C. deterjen
- D. sampah

36. Suhu bumi yang meningkat akan menimbulkan pemanasan global. Berikut yang bukan dampak dari pemanasan global adalah ....

- A. Naiknya permukaan air laut
- B. Jumlah beruang di kutub akan semakin banyak
- C. populasi hewan dan tumbuhan akan menurun
- D. perubahan cuaca semakin signifikan

**Perhatikan gambar berikut ini untuk mengerjakan soal nomor 27 – 31!**



37. berikut dampak yang tepat dari pemakaian alat kosmetik berbentuk spray secara berlebihan adalah ....

- A. Rusaknya lapisan ozon
- B. hujan asam
- C. terjadinya pencemaran air
- D. banjir di beberapa wilayah

**Perhatikan poin-poin berikut ini untuk mengerjakan soal no 38 – 40!**

- |          |           |             |               |
|----------|-----------|-------------|---------------|
| 1. buaya | 4. Kerbau | 7. Belalang | 10. ular      |
| 2. kuda  | 5. Biawak | 8. belalang | 11. Kura-kura |
| 3. sapi  | 6. Kadal  | 9. lalat    | 12. Kupu-kupu |

38. Yang termasuk dalam kelompok mamalia adalah ....

- A. 1 – 3 – 5 – 9
- B. 5 – 6 – 8
- C. 2 – 3 – 4
- D. 5 – 6 – 7 – 8

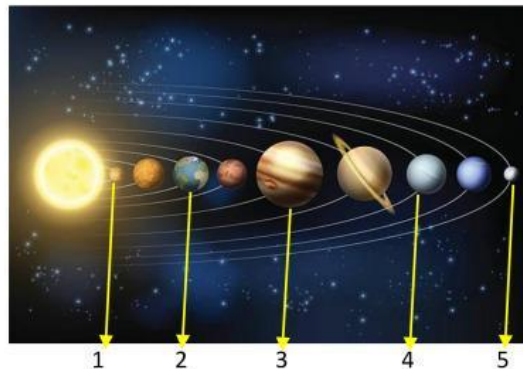
39. Yang termasuk dalam kelompok serangga adalah ....

- A. 1 – 2 – 3 – 5
- B. 6 – 7 – 8 – 9
- C. 7 – 8 – 9 – 12
- D. 7 – 8 – 11 – 12

40. Yang termasuk dalam kelompok reptil adalah ....

- A. 1 – 4 – 10 – 12
- B. 1 – 5 – 6 – 10 – 11
- C. 2 – 5 – 7 – 8 – 11
- D. 2 – 3 – 7 – 9

**Perhatikan gambar berikut ini untuk menjawab pertanyaan nomor 41 – 45**



41. Gambar nomor 1 menunjukan ....

- A. Matahari
- B. mars
- C. merkurius
- D. jupiter

42. Gambar nomor 2 menunjukan ....

- B. saturnus
- B. bumi
- C. uranus
- D. venus

43. Gambar nomor 3 menunjukan ....

- C. Matahari
- B. mars
- C. merkurius
- D. jupiter

44. Gambar nomor 4 menunjukan ....

- D. uranus
- B. mars
- C. merkurius
- D. jupiter

45. Gambar nomor 5 menunjukan ....

- E. uranus
- B. neptunus
- C. merkurius
- D. saturnus

SEMOGA BAHAGIA 😊

IPA-KLS7-SEM2-KUMER