


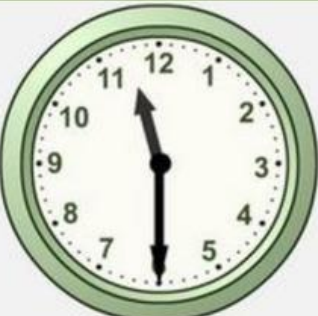


REPASO **MATEMÁTICAS** MES DE ABRIL

1. ¿Qué hora es? Elige la opción correcta.

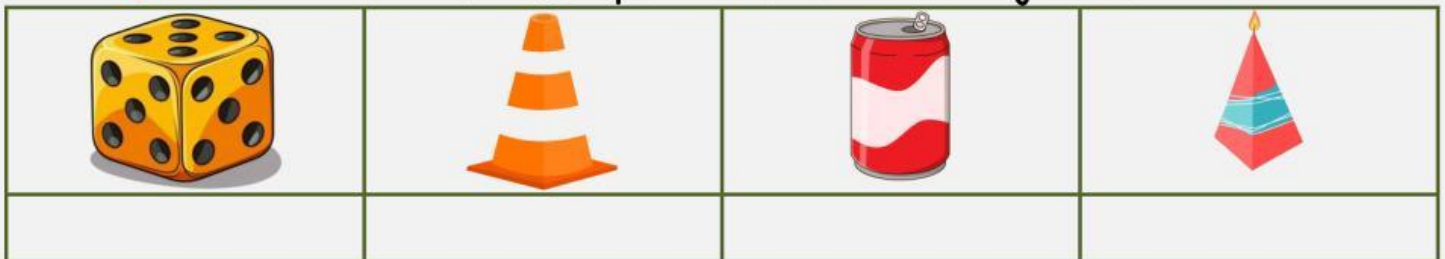
2. Escribe en el reloj digital la hora que marcan estos relojes de aguja.

			
<input type="text"/> <input type="text"/> : <input type="text"/> <input type="text"/>	<input type="text"/> <input type="text"/> : <input type="text"/> <input type="text"/>	<input type="text"/> <input type="text"/> : <input type="text"/> <input type="text"/>	<input type="text"/> <input type="text"/> : <input type="text"/> <input type="text"/>

3. En cada fila se nos ha colado un objeto que no es simétrico, seleccionalo.



4. Selecciona la forma que tienen estos objetos.



5. Une cada problema con su pregunta correspondiente.

En la yincana del colegio han participado 20 chicas y 17 chicos.

¿Cuántos maestros vinieron a la excursión?

Hemos guardado 45 pelotas de tenis. 33 eran amarillas.

¿Cuántas le quedan?

En el autobús de la última excursión iban 53 personas. 49 eran niños.

¿Cuántas verdes hemos guardado?

Pablo llevaba 25 canicas. Ha repartido 13 entre sus compañeros.

¿Cuántos alumnos han participado?