








Nama: _____

Kelas: _____

SUMBER ENERGI



Pasangkanlah sumber energi dengan bentuk energi yang dihasilkan!

 Makanan	Energi Panas	 Matahari
 Panas Bumi	Energi Cahaya	 Air
 Baterai	Energi Kimia	 Bahan Bakar
 Angin	Energi Gerak	<p>Gambar garis untuk menjodohkan pasangan sumber energi dengan energi yang dihasilkan.</p>
	Energi Bunyi	
	Energi Listrik	

Nama:

Kelas:

MENGENAL BENTUK ENERGI

Gunting tulisan di bawah dan tempelkan pada gambarnya!



Energi Listrik

Energi Bunyi

Energi Panas

Energi Potensial

Energi Potensial

Energi Kimia

Energi Nuklir

Energi Cahaya

Energi Mekanik

Nama :

Kelas :

Perubahan Energi

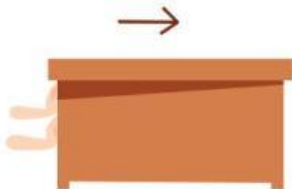
Tuliskan perubahan energi yang terjadi pada peristiwa di bawah ini.



Energi _____ menjadi _____



Energi _____ menjadi _____



Energi _____ menjadi _____



Energi _____ menjadi _____



Energi _____ menjadi _____