

LKPD

Matematika

Tema: Pecahan

Nama
Kelompok

Nama
Anggota

-
-
-
-
-



Tujuan Pembelajaran

- Mengenal konsep pecahan sederhana.
- Mengidentifikasi pecahan sederhana $\frac{1}{2}$, $\frac{1}{3}$, dan $\frac{1}{4}$.



AYO BERPIKIR



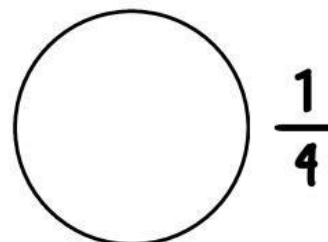
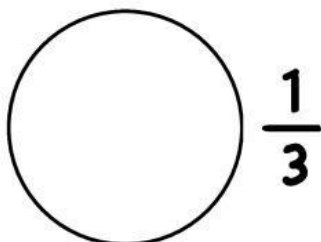
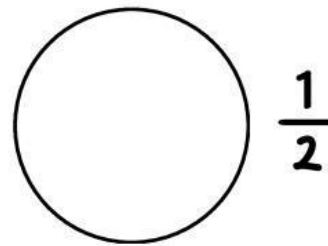

Waktu: 25 Menit

Petunjuk Kegiatan

- Siapkanlah pensil warna!
- Gambarlah kotak dan lingkaran seperti gambar di bawah ini pada buku kalian!
- Warnailah kotak tersebut menjadi pecahan sesuai yang diperintahkan!

Aktivitas Siswa

Salinlah gambar di bawah ini ke buku kalian dan warnailah menjadi pecahan $\frac{1}{2}$, $\frac{1}{3}$, dan $\frac{1}{4}$.



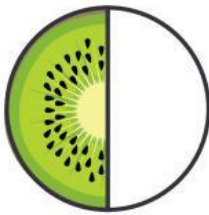


AYO DISKUSI!



Petunjuk Kegiatan

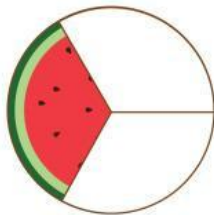
- Perhatikan setiap gambar pecahan berikut!
- Tuliskan pecahan $\frac{1}{2}$, $\frac{1}{3}$, dan $\frac{1}{4}$ yang sesuai dengan gambar!



...

—

...



...

—


...



...

—

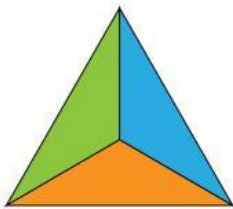
...



...

—


...



...

—

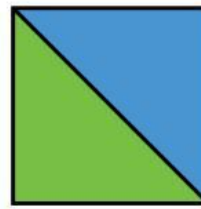
...



...

—

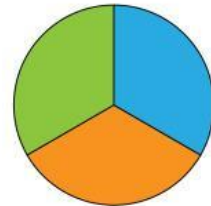
...



...

—

...



...

—

...



...

—

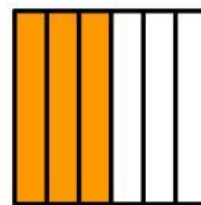
...



...

—

...



...

—

...



...

—

...