
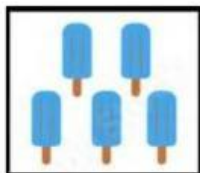

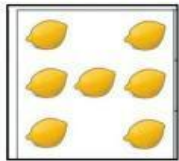


EJERCICIO DE MATEMÁTICA

NOMBRE: _____ GRADO: _____

UNE LOS NÚMEROS CON SU CANTIDAD CORRESPONDIENTE.



2

1

6

5

8

4

7