

Nombre: _____ Fecha: _____

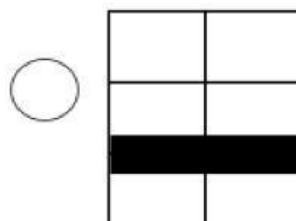
SEMANA 2

PROBLEMAS

1. He perdido 27 cromos de los 59 cromos que tenía esta mañana.
¿Cuántos cromos me quedan?

Datos

Operaciones



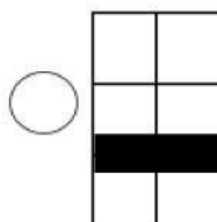
Solución: _____

Por la tarde, me han regalado 28 cromos más.
¿Cuántos cromos tiene en total?

Datos

Me quedan _____

Operaciones



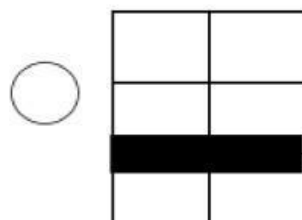
Solución: _____

2. En el último partido de baloncesto el equipo de Noemí anotó 67 puntos, y el de Mohamed 56 puntos.

¿Cuántos puntos marcaron entre los dos equipos?

Datos

Operaciones



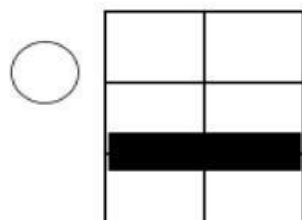
Solución: _____

3. Alicia tiene 20 rotuladores y Juan tiene 10 más que Alicia.

¿Cuántos rotuladores tiene Alicia?

Datos

Operaciones



Solución: _____