

POLÍGONOS: ELEMENTOS Y CLASIFICACIÓN.

1. Clasificación de polígonos.



4 lados

Pentágono



5 lados

Hexágono



3 lados

Triángulo

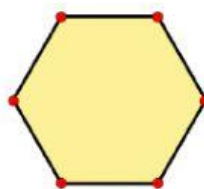
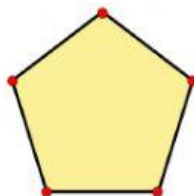
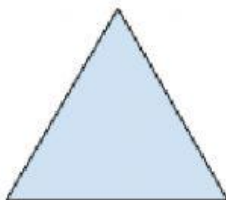


6 lados

Cuadrilátero

2. Observa los polígonos, escribe sus nombres y completa la tabla.

--	--	--	--



	Triángulo	Cuadrilátero	Pentágono	Hexágono
Lados				
Vértices				
Ángulos				