

Sede San Cristóbal
 Segunda Unidad
 Ciencias naturales
 Tercero Primaria
 Profesora: Josselin Castillo

Evaluación final No. 2

Nombre: _____
 Sección: _____ Fecha: _____

INSTRUCCIONES GENERALES: lee con atención las instrucciones de cada serie y realiza lo que se te solicita. Trabaja con lápiz únicamente y evita el uso de calculadora o cualquier material de apoyo. Debes dejar constancia de tus procedimientos, en hojas adicionales que se proporcionan.


Serie I

Instrucciones: Clasifique cada imagen donde le corresponda.


 Vivíparos	 Ovíparos	E.I. MIRAFLORES	
			
			
			
			

Serie II


Instrucciones: Encuentra en la siguiente sopa de letras las imágenes que se le muestran a continuación de los seres vivos y escribir cada palabra en el espacio que le corresponda.



1




2




3

SERES VIVOS




6


L	L	T	I	G	R	E	A	O	A
Z	G	O	B	D	P	T	R	F	R
V	R	A	B	C	M	O	O	D	B
P	J	D	L	O	L	J	U	B	O
E	B	V	U	L	E	R	R	J	L
R	U	K	N	N	I	P	W	H	R
R	T	W	O	J	I	N	E	Z	W
O	Z	C	H	M	V	J	A	Z	Q
H	O	M	B	R	E	T	U	P	X
I	M	K	H	P	A	L	O	M	A




4




7




5



8



9

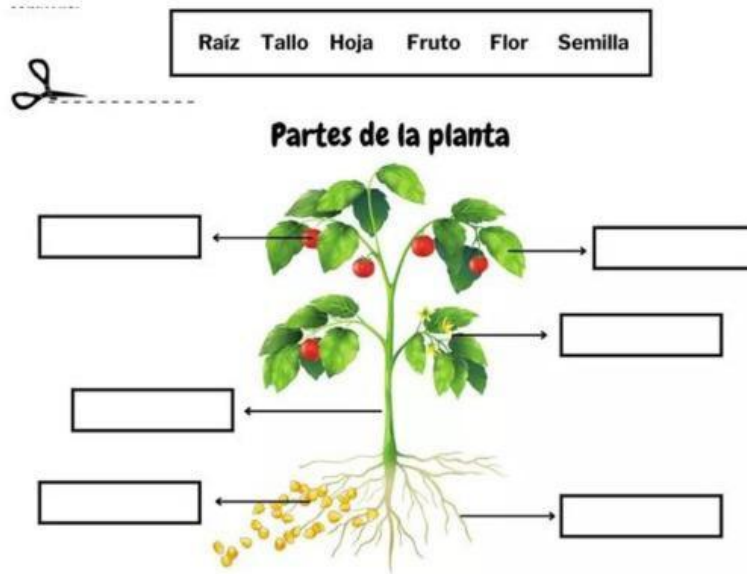


10

1. _____
2. _____
3. _____
4. _____
5. _____
6. _____
7. _____
8. _____
9. _____
10. _____

Serie III

Instrucciones: Escriba cada parte de la planta donde le corresponda y luego ordene el ciclo de la planta escribiendo los números que correspondan.



Crecimiento de una planta



Jehová es mi pastor; nada me
faltará"

"Salmo 23:1: