

LKPD

Matematika

Tema:
Mengenal Jam



Nama:

Kelas:

LEMBAR KERJA PESERTA DIDIK (LKPD)

Mata Pelajaran: Matematika

Kelas/Semester:

Materi Pokok: Mengetahui Jam

Alokasi Waktu: 2 x 35 menit

Hari/Tanggal:

A. Identitas Siswa

Nama:

Kelas:

Nomor Absen:

B. Tujuan Pembelajaran

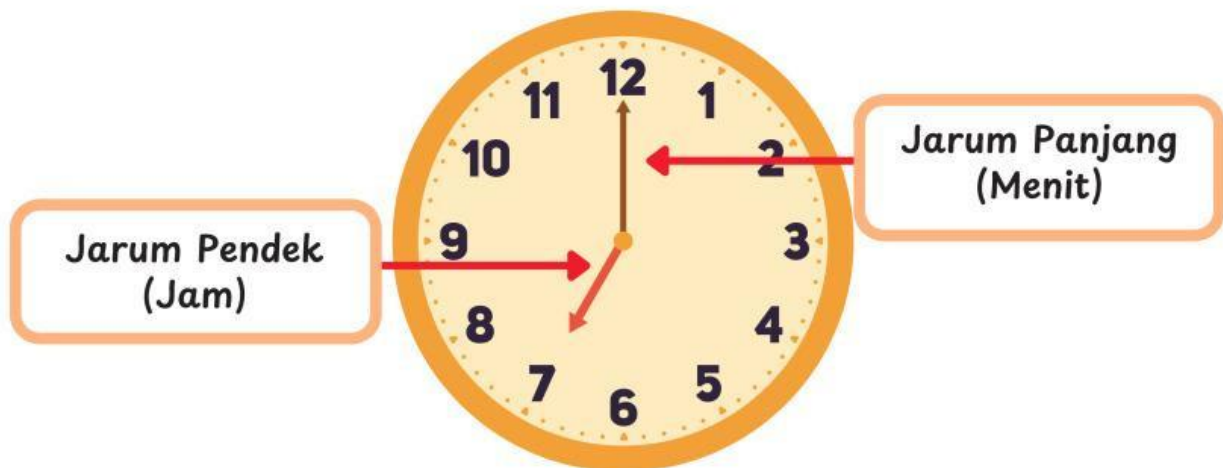
Setelah mengerjakan LKPD ini, siswa dapat:

1. Menyebutkan bagian-bagian jam analog dan digital
2. Membaca dan menuliskan waktu dengan tepat (jam, setengah jam, seperempat jam)
3. Menyesuaikan waktu dengan aktivitas sehari-hari

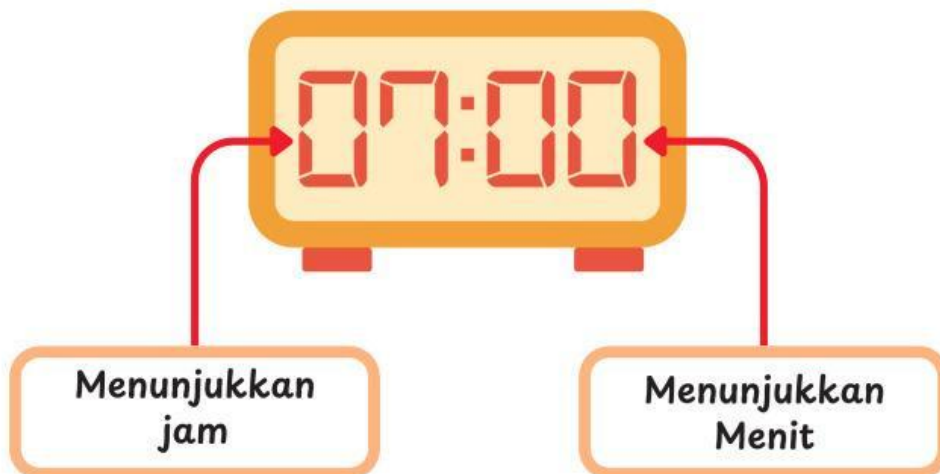
B. Materi

Jenis-Jenis Jam

Jam Analog



Jam Digital

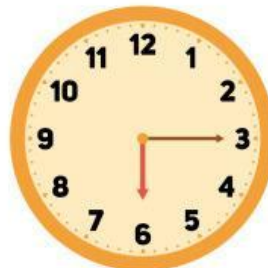


B. Materi

Cara Membaca Jam




Pukul enam tepat



Pukul enam lewat lima belas menit/seperempat lewat enam



Pukul enam lewat tiga puluh menit/setengah tujuh



Pukul enam lewat empat puluh lima menit/seperempat menuju tujuh

Kegiatanku Sehari-hari


Gambarlah jarum jam sesuai dengan waktu kegiatanmu sehari-hari.




Bangun Tidur



Ke Sekolah



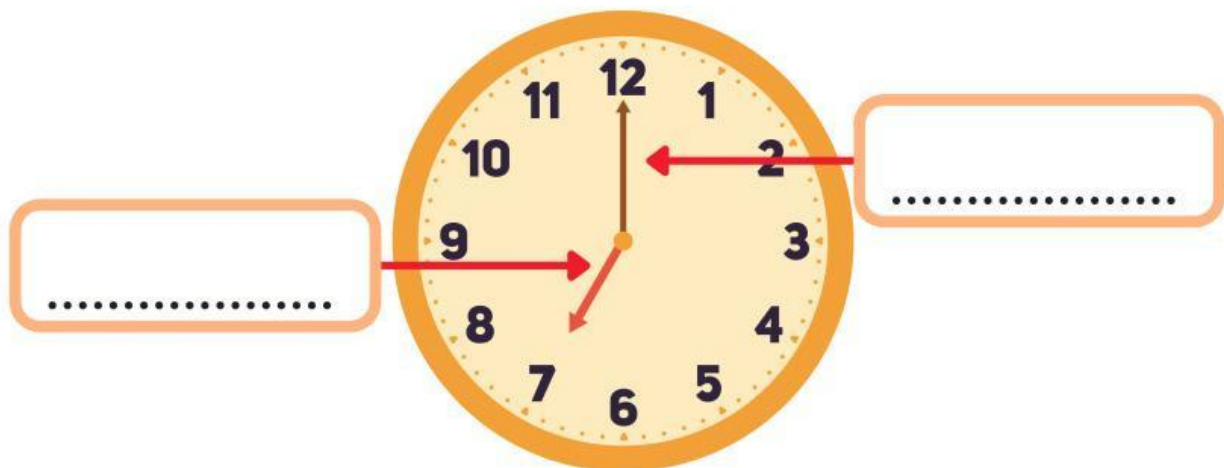
Bermain



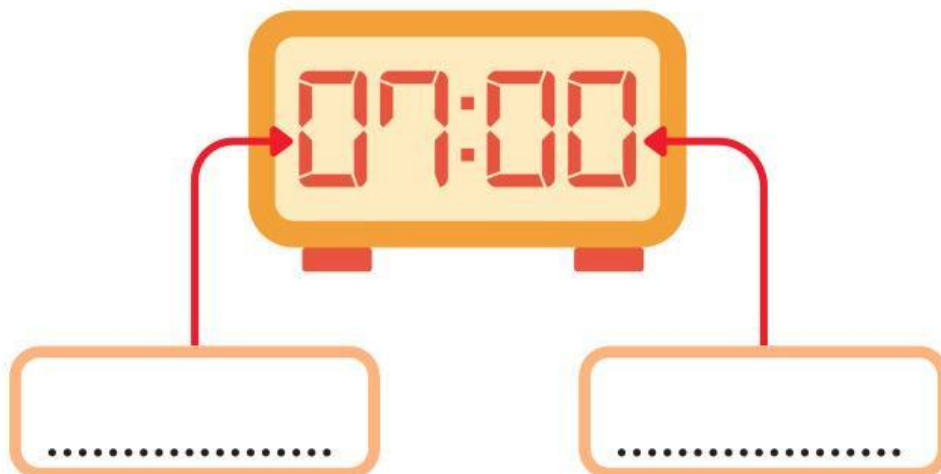
C. Kegiatan/Latihan

Isilah titik-titik di bawah ini.

Jam Analog

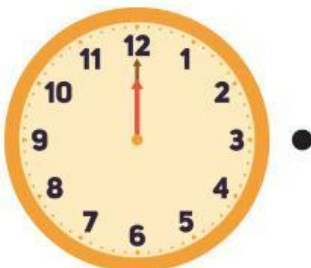
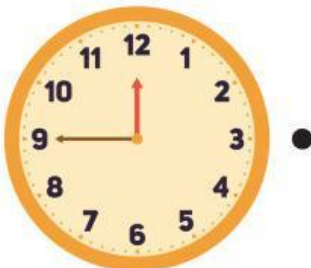



Jam Digital



C. Kegiatan/Latihan

Hubungkan jam analog dengan jam digital yang sesuai.



D. Evaluasi

Perhatikan gambar jam pada setiap soal!
Pilih kegiatan yang biasanya dilakukan pada waktu tersebut

Sarapan



Berangkat Ke sekolah



Tidur Malam



E. Refleksi

Jawablah pertanyaan berikut:

1. Bagian mana yang paling mudah kamu pahami hari ini?

2. Apakah kamu masih bingung membaca jam? Jelaskan!

3. Apakah manfaat belajar tentang jam bagi kamu?