

# **PELAJARAN MATEMATIKA - KELAS 4 SD**

**Materi : Pecahan dan Pembilang 1**

**Nama :**

**Kelas :**


**A. Pilihlah jawaban yang benar dengan memberi tanda silang (X) pada huruf A, B atau C!**

**1. Pecahan  $\frac{1}{2}$  dibaca?**

- A. Satu dibagi dua**
- B. Satu per dua**
- C. Dua per satu**

**2. Dalam pecahan  $\frac{1}{4}$ , angka 1 disebut**

- A. Pembilang**
- B. Penyebut**
- C. Bilangan Bulat**



**3. Jika satu buah semangka dibagi 3 dan kamu mendapat 1 bagian, maka pecahan yang kamu dapat adalah**

**A.  $\frac{1}{2}$**

**B.  $\frac{1}{3}$**

**C.  $\frac{1}{4}$**

**B. Isilah titik-titik di bawah ini dengan jawaban yang tepat!**

**1. Pecahan  $\frac{1}{3}$  dibaca**

\_\_\_\_\_.

**2. Pada pecahan  $\frac{1}{4}$ , angka 4 disebut**

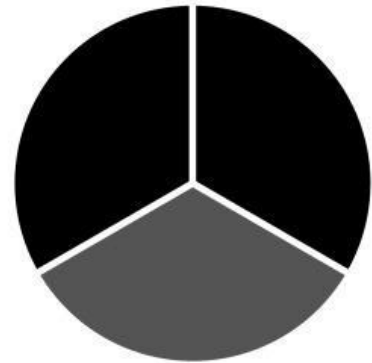
\_\_\_\_\_.

**3. Jika satu kue dibagi 2 bagian sama besar dan kamu ambil satu bagian, maka pecahan kue yang kamu miliki adalah**

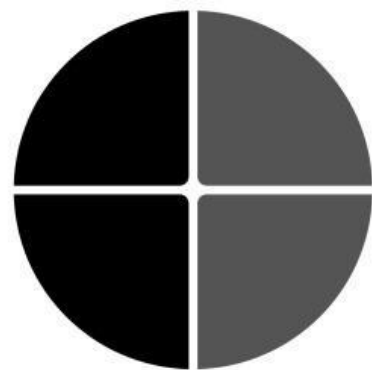
\_\_\_\_\_.

### C. Pasangkanlah gambar dengan pecahan sesuai dengan nilainya!

1.  $(1/2)$  ●



2.  $(1/3)$  ●



3.  $(2/4)$  ●

