








Ficha de actividades: Gastos y descuentos

1. Clasifica los siguientes según sean fijos o variables en cada caso.

-  Luz: _____
-  Gas: _____
-  Gastos del coche (gasolina, reparaciones...): _____
-  Hipoteca: _____
-  Ir al cine: _____





2. Define los dos tipos de gasto



- Gastos fijos: _____
- Gastos variables: _____

3. Aplica los descuentos y escribe el precio final

(Recuerda emplear las autoinstrucciones para realizar las operaciones).

- Una televisión  que cuesta **345 €**. Tiene un **10% de descuento**.
Precio final: _____ €
- Un coche  que cuesta **2670 €**. Tiene un **50% de descuento**.
Precio final: _____ €
- Una moto  que cuesta **978 €**. Tiene un **20% de descuento**.
Precio final: _____ €
- Un ordenador  que cuesta **562 €**. Tiene un **30% de descuento**.
Precio final: _____ €