

التمثيل بالأعمدة



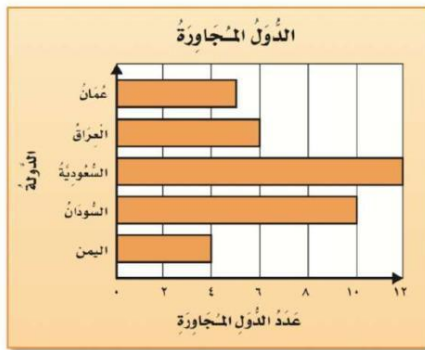
التمثيل أذناه يبين عدد ساعات نوم بعض الحيوانات ، أجيبي عما يلي :

أي الحيوانات تنام أكثر؟

ما اسم الحيوان الذي ينام ٣ ساعات أكثر من اللبؤور؟



اعتمدي على التمثيل المجاور للإجابة عما يلي :



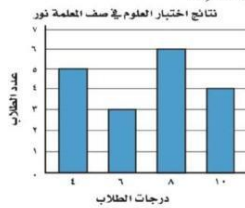
ما عدد الدول المجاورة للمملكة العربية السعودية؟

كم يزيد عدد الدول المجاورة للسودان على عدد الدول المجاورة لليمن؟

ما الدول التي عدد الدول المجاورة لها ٦ أو أقل؟

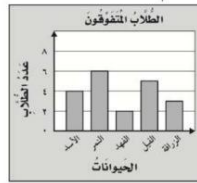
ما الدولة التي لها أقل عدد من الدول المجاورة؟

أعطت المعلمة نور لتلاميذ صفها اختبارًا قصيرًا في مادة العلوم، وحصل التلاميذ على الدرجات (٤، ٦، ٨، ١٠). يُبين الشكل عدد التلاميذ الذين حصلوا على كل نتيجة. ما الدرجة التي حصل عليها أكثر عدد من التلاميذ؟



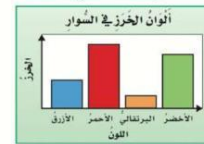
(أ) ٤ (ب) ٦
(ج) ٨ (د) ١٠

يوضح التمثيل أذناه عدد طاب الفصّل الذين كتبوا تقارير عن بعض الحيوانات، فما عددهم؟



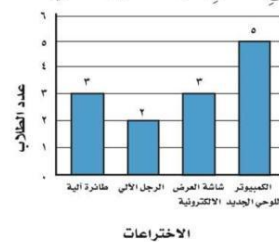
(أ) ١ (ب) ٧
(ج) ١٣ (د) ٢٠

يُبين التمثيل أذناه عدد الحزب المُستعمل في صناعة السوار، أي البيانات التالية تحتاجها لإكمال التمثيل؟ (الدرس ١٠-٤)



(أ) ألوان السوار.
(ب) تدرج التمثيل.
(ج) ألوان السوار الأخير.
(د) عنوان التمثيل.

زار طلاب الصف الثالث معرضًا للإختراعات، وفي نهاية الرحلة طلب المعلم من كل طالب كتابة الإختراع المُفضّل له وكانت النتيجة كالآتي:



فما عدد الطلاب في تلك الرحلة؟